

2017-2018 学年度第二学期小学期末检测试卷

二年级数学

2018.6

成绩 _____

一、计算 (28 分)

1. 直接写出得数 (每题 1 分, 共 12 分)

$70 - 47 =$ $500 + 800 =$ $2000 + 700 =$ $24 + 52 =$

$19 + 64 =$ $170 - 90 =$ $1200 - 400 =$ $73 - 56 =$

$80 + 90 =$ $30 + 500 =$ $400 + 900 =$ $19 + 36 =$

2. 用竖式计算, 有*的题要验算 (竖式计算每题 2 分, 验算另加 2 分, 共 16 分)

$56 \div 9$

$*269 + 454$

$514 + 658$

验算:

$475 - 88$

$*1000 - 753$

$276 - 89 + 131$

验算:

二、填空 (24 分, 每空 1 分。)

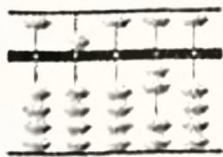
3. 3 个千、5 个十组成的数是 (), 比最大的四位数多 1 的数是 ()

4. $\star \div 7 = 3 \cdots \blacktriangle$, \blacktriangle 最大是 (), 这时 \star 是 ()。

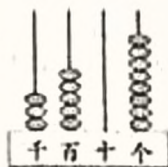
5. 看图写数:



()



()



()

6. 用下面 4 张数字卡片组成的数中, 最大的四位数是 (), 最接近 5000 的数是 ()。

3 5 8 0

7. 在 () 里填合适的单位。

- (1) 小强跑 50 米所用的时间是 9 ()。
- (2) 5 枚 1 元硬币叠在一起的厚度大约是 10 ()。
- (3) 看书时, 眼睛和书的距离应保持 30 ()。
- (4) 一场足球比赛的时间是 90 ()。

8.



____:____
____角



____:____
____角

9. 朝阳小学组织一~四年级学生看电影。四个年级学生人数如下表:

年 级	一	二	三	四
人 数	189	254	309	246

学校小剧院有 500 个座位, 同学们分两批去看电影, 怎样安排比较合适? 请写在下面的横线上。

第一批: _____

第二批: _____

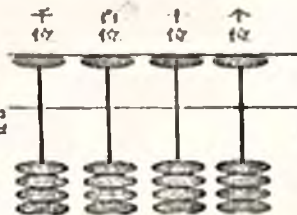
10. 在算盘上用三颗珠表示三位数, 最大是 (), 最小是 ()

11. 10 张纸摞起来大约厚 1 毫米, 1000 张这样的纸摞起来大约厚 () 厘米。

12. 在 □ 里填上合适的数 (每 □ 0.5 分)

$$1 \square 5 + 26 \square = 452$$

$$53 \square - 3 \square 6 = 173$$



三、选择 (12 分, 每题 2 分)

13. 王叔叔买 45 条金鱼, 如果一个鱼缸里最多放 8 条金鱼, 他至少要准备多少个鱼缸?

5 个 ☐

6 个 ☐

7 个 ☐


14. 果园里桃树的棵数比梨树多一些, 梨树的棵数比苹果树少得多。哪一种果树最多?

桃树 ☐

梨树 ☐

苹果树 ☐

15.



蜡笔长约 ()

7 厘米 ☐6 厘米 ☐50 毫米 ☐16. 哪道算式与 $457+386$ 的得数相等? $356+487$ ☐ $457+368$ ☐ $547+386$ ☐

17. 三角尺上的直角和课桌面上的直角相比

三角尺上的直角大 ☐课桌面上的直角大 ☐一样大 ☐18. $7\square-4\square$ 的差不可能是几十多?四十多 ☐三十多 ☐二十多 ☐

四、操作题 (8 分)

19. 连一连: 下面各数中的 5 分别表示多少? 连一连。

125

250

512



20. 画一画、填一填。

(1) \bigcirc 在 \bullet 的北面, \triangle 在 \bigcirc 的东面:北 ☐ ☐ ☐(2) \star 、 \diamond 都在 \triangle 的南面, 其中 \star 在 \bullet 的东南面: \uparrow ☐ ☒ ☐(3) \triangle 在 \bullet 的 () 面, \bullet 在 \star 的 () 面。☐ ☐ ☐

五、解决问题 (28 分, 前 5 题每题 5 分, 最后一题 3 分。)

21. 下面是明光小学学生人数统计。中年级有多少人? 列式算一算。

	合 计	低年级	中年级	高年级
人 数	642	198		231

22. 妈妈带 500 元购买以下两种物品, 最多找回多少元?



188 元



99 元



307 元

23. 小猴摘了 60 个桃，按照每 8 个放一盘分下去，直至全部分完，最后一个盘子里应分得多少个？


24. 李星在自己班调查，得到如下数据：

会下围棋的	28 人
会下象棋的	15 人

近视	13 人
不近视	29 人

他们班同学中，不会下象棋的有多少人？

25. 把下面的图形按不同标准分一分，用符号记录下来，再填一填。



白色图形		() 个
灰色图形		() 个

三角形		() 个
四边形		() 个
圆		() 个

26.

$13 \div 4 = 2 \dots 5$

你算错了，余数要比除数小！

小朋友：余数为什么要比除数小呢？你能用画一画或写一写的方式，说明其中的道理吗？