

全真模拟训练卷 **普 通 学 校 卷** (一)

题号	一	二	三	四	五	六	七	八	总分
得分									

一、填空。(24 分)

1. 把 22 个苹果平均分给 5 个小朋友,每个小朋友分(4)个,还剩

(2)个。算式是 $\boxed{22} \div \boxed{5} = \boxed{4} (\text{个}) \cdots \cdots \boxed{2} (\text{个})$ 。

2. 读出或写出横线上的数。

世界上龟的种类大约有二百七十种。写作:(270)

黑龙江东北虎林园中,东北虎的数量已经超过750只。读作:(七百五十)

3. 与 999 相邻的两个数分别是(998)和(1000)。

4. 一个数除以 9,余数最大是(8)。

5. 一个角有(1)个顶点,(2)条边。

6. 按规律填数。

(1) 200,400,600,(800),(1000)。

(2) 460,470,480,(490),(500)。

(3) 285,290,295,(300),(305)。

7. 在括号里填上合适的数。

60 毫米=(6)厘米 10 分米=(1)米

1 分=(60)秒 1 时 20 分=(80)分

8. 小华家养了 407 只鸭子,小红家养了 197 只鸭子,他们两家大约一共养了(600)只鸭子。

二、涂一涂。(共8分)

1. 给余数是2的涂绿色,余数是4的涂红色。(4分)

$$65 \div 9$$

$$53 \div 7$$

$$15 \div 2$$

$$27 \div 5$$

$$30 \div 7$$

$$38 \div 6$$

$$36 \div 8$$

$$28 \div 7$$

【答案】余数是2的: $65 \div 9$, $27 \div 5$, $30 \div 7$, $38 \div 6$
余数是4的: $53 \div 7$, $36 \div 8$

2. 给得数接近300的涂黄色,接近500的涂蓝色。(4分)

$$204+98$$

$$704-198$$

$$295+201$$

$$296+98$$

$$108+403$$

$$197+197$$

$$892-198$$

$$602-295$$

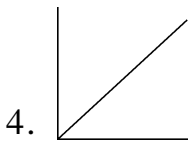
【答案】接近300的: $204+98$, $602-295$
接近500的: $704-198$, $295+201$, $108+403$

三、判断。(对的画“√”,错的画“×”)(5分)

1. 一个三位数,它的最高位是千位。 (×)

2. 小红的体重是148厘米。 (×)

3. 和北面相对的面是东面。 (×)



4. 左图中有3个直角。 (×)

5. 分针指向6,时针指向7和8中间,这时是7时30分。 (√)

四、在○里填上“>”“<”或“=”。(6分)

$$547 > 457$$

$$899 < 988$$

$$101+199 > 298$$

$$5 \text{ 厘米} = 50 \text{ 毫米}$$

$$456+144 < 601$$

$$1 \text{ 时} > 5 \text{ 分}$$

五、计算。(共32分)

1. 直接写出得数。(6分)

$$50+80=130 \quad 200+600=800 \quad 40+300=340 \quad 1000-300=700$$

$$860-700=160 \quad 100-60=40 \quad 640-40=600 \quad 430-300=130$$

$$12 \div 3 = 4 \quad 11 \div 2 = 5 \cdots 1 \quad 48 \div 5 = 9 \cdots 3 \quad 32-7=25$$

2. 比一比,算一算。(4 分)

$$\begin{cases} 785-324=461 \\ 785-342=443 \end{cases} \begin{cases} 68+322=390 \\ 168+222=390 \end{cases} \begin{cases} 147+369=516 \\ 174+369=543 \end{cases} \begin{cases} 24 \div 9 = 2 \cdots 6 \\ 42 \div 9 = 4 \cdots 6 \end{cases}$$

3. 看谁爬得快。(10 分)



$$795-452=343$$

$$827-479=348$$

$$274+36=310$$

$$296+638=934$$

$$299+301=600$$



$$514-226=288$$

$$95+246=341$$

$$267+198=465$$

$$941-327=614$$

$$425+196=621$$

4. 用竖式计算,带△的要验算。(12 分)

$$36 \div 5 = 7 \cdots 1$$

$$56 \div 9 = 6 \cdots 2$$

$$\triangle 298 + 544 = 842$$

$$\begin{array}{r} 7 \\ 5 \overline{) 36} \\ \underline{35} \\ 1 \end{array}$$

$$\begin{array}{r} 6 \\ 9 \overline{) 56} \\ \underline{54} \\ 2 \end{array}$$

$$\begin{array}{r} 298 \\ + 544 \\ \hline 842 \end{array} \begin{array}{l} \text{验} \\ \text{算:} \end{array} \begin{array}{r} 842 \\ - 298 \\ \hline 544 \end{array}$$

$$506 + 96 + 157 = 759$$

$$29 + 258 + 171 = 458$$

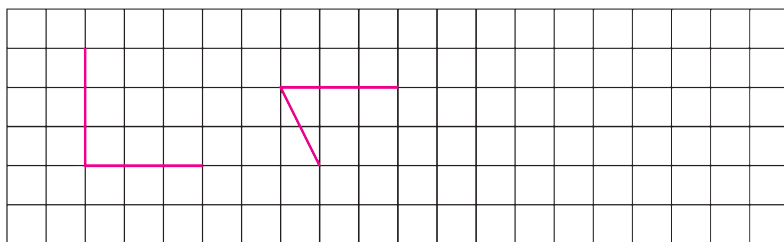
$$\triangle 500 - 273 = 227$$

$$\begin{array}{r} 506 \\ + 96 \\ \hline 602 \\ + 157 \\ \hline 759 \end{array}$$

$$\begin{array}{r} 29 \\ + 258 \\ \hline 287 \\ + 171 \\ \hline 458 \end{array}$$

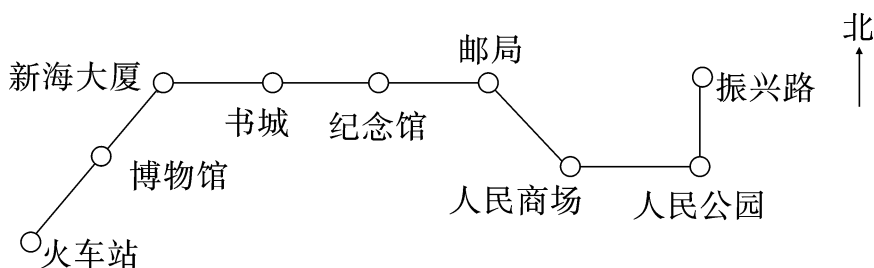
$$\begin{array}{r} 500 \\ - 273 \\ \hline 227 \end{array} \begin{array}{l} \text{验} \\ \text{算:} \end{array} \begin{array}{r} 227 \\ + 273 \\ \hline 500 \end{array}$$

六、在方格纸上画一个直角和一个锐角。(4 分)



(答案不唯一)

七、写出 2 路公共汽车的行车路线。(7 分)



2 路公共汽车从火车站出发,先向(**东北**)面行驶 2 站到新海大厦,再向(**东**)面行驶(**3**)站到邮局,再向(**东南**)面行驶(**1**)站到人民商场,再向(**东**)面行驶 1 站到人民公园,最后向(**北**)面行驶 1 站到振兴路。

八、走进生活。(共 14 分)

1. 二(1)班有 42 人,老师要求每 8 人 1 组参加跳绳比赛,可以分成几组? 还剩几人? (4 分)

【答案】 $42 \div 8 = 5(\text{组}) \cdots \cdots 2(\text{人})$


答:可以分成 5 组,还剩 2 人。

2. 王叔叔有 700 元,买一架玩具飞机和一架玩具火车够吗? (5 分)


【答案】 $245 + 487 = 732(\text{元})$

$732 > 700$ 不够

答:买一架玩具飞机和一架玩具火车不够。



245元



487元

3. (创新题)有 100 颗小星星,按一定顺序串成了一串,你知道第 46 颗小星星是什么颜色吗? (5 分)



【答案】 $46 \div 5 = 9 \cdots \cdots 1$

答:第 46 颗小星星是黑色的。