

全真模拟训练卷 **重 点 学 校 卷** (三)

| 题号 | 一 | 二 | 三 | 四 | 五 | 六 | 七 | 八 | 九 | 总分 |
|----|---|---|---|---|---|---|---|---|---|----|
| 得分 |   |   |   |   |   |   |   |   |   |    |

## 一、填空。(共 25 分)

- 最小的两位数是( 10 ),它比最大的三位数小( 989 )。
- 比 345 大 278 的数是( 623 ),356 比 149 大( 207 )。
- 36 是 4 的( 9 )倍,36 是 9 的( 4 )倍。
- 在括号里填上合适的长度单位。  
 一棵大树高 5( 米 )。      课桌高 7( 分米 )。  
 蜡笔长 6( 厘米 )。      小蚂蚁身长 5( 毫米 )。
- 括号里应该填多少?  
 ( 238 )+217=455    ( 656 )-387=269    249+( 477 )=726  
 389+245=( 634 )    387-( 118 )=269    605-158=( 447 )
- 在 36 后面添上 1 个 0,得到的数比原来的数大( 324 )。
- 用 3,6,9 这三个数字可以组成( 6 )个不同的三位数,把它们按从大到小的顺序排列是( 963>936>693>639>396>369 )。(3 分)
- 一个数的最高位是千位,它是一个( 四 )位数。
- 在○里填上“>”“<”或“=”。  
 10 分 ○ 1 时      60 秒 ○ 1 分      71-29 ○ 19+22

## 二、判断。(对的画“√”,错的画“×”)(5 分)

- 一个数除以 6 的余数只能是 5。 ( × )
- $7 \div 2 = 3 \cdots 1$  读作七除以二商一余三。 ( × )

3. 如果小明家在小丽家的东面,那么小丽家在小明家的西面。

( ✓ )

4. 736 的百位上的“7”比个位上的“6”大 1。

( ✕ )

5. 与 4100 相邻的数是 4200 和 4000。

( ✕ )

### 三、画横线的部分该怎么读?(连一连)(4 分)

2015 年有365 天。

小东身高127 厘米。

实验幼儿园有650 名学生。

一棵老树有605 岁了。

六百零五

六百五十

一百二十七


三百六十五

### 四、辨方向,填一填。(6 分)

1. 长颈鹿在兔子的( 西 )面,兔子在猴子的( 南 )面。

2. 熊猫在小狗的( 西南 )面,小狗在猴子的( 东南 )面。

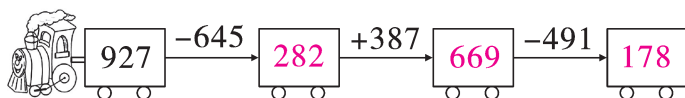
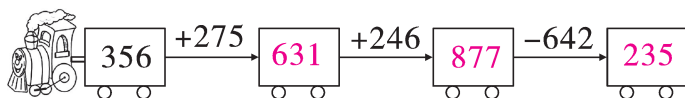
3. 鹅在兔子的( 西北 )面,兔子在鹅的( 东南 )面。



北  
↑

### 五、计算。(共 21 分)

1. 开火车。(3 分)



2. 直接写出得数。(6 分)

$$400+20=420$$

$$50+70=120$$

$$130-80=50$$

$$300+700=1000$$

$$560-400=160$$

$$181+10=191$$

$$56+17=73$$

$$93-24=69$$

$$5 \times 2=10$$

$$40 \div 8=5$$

$$6 \times 3=18$$

$$34 \div 5=6 \cdots 4$$

3. 用竖式计算。(12 分)

$$35 \div 7 = 5$$

$$\begin{array}{r} 5 \\ 7 \overline{) 35} \\ \underline{35} \\ 0 \end{array}$$

$$37 \div 9 = 4 \cdots \cdots 1$$

$$\begin{array}{r} 4 \\ 9 \overline{) 37} \\ \underline{36} \\ 1 \end{array}$$

$$98 + 359 = 457$$

$$\begin{array}{r} 98 \\ + 359 \\ \hline 457 \end{array}$$

$$506 - 297 = 209$$

$$\begin{array}{r} 506 \\ - 297 \\ \hline 209 \end{array}$$

$$1000 - 369 = 631$$

$$\begin{array}{r} 1000 \\ - 369 \\ \hline 631 \end{array}$$

$$285 + 258 = 543$$

$$\begin{array}{r} 285 \\ + 258 \\ \hline 543 \end{array}$$

六、根据规律，画出第 4 个钟面上的时针和分针，并写出各钟面上的时刻。(8 分)




6:30



7:30

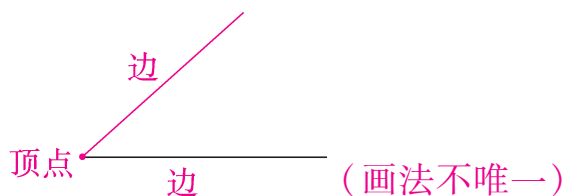


8:30




9:30

七、以已知的线作为边画一个锐角，并标上角各部分的名称。(4 分)



八、先按形状分类整理并填表，再按颜色分类整理并填表。(7 分)



| 形状    | 合计 |  |  |  |
|-------|----|---|---|---|
| 个数(个) | 21 | 10  | 7   | 4   |

| 颜色    | 合计 | 黑色 | 白色 |
|-------|----|----|----|
| 个数(个) | 21 | 11 | 10 |

## 九、走进生活。(20 分)

1. 小明和小军比赛跳高。小明跳了 85 厘米,小军跳了 9 分米。他俩谁跳得高? 高多少厘米?

【答案】9 分米=90 厘米  $90>85$   $90-85=5$ (厘米)

答:小军跳得高,高 5 厘米。

2. 孵化场要孵一批小鸡,一共放进去 900 个鸡蛋。第一次孵出了 498 只小鸡,第二次孵出了 376 只小鸡。还剩多少个鸡蛋没有孵出小鸡?

【答案】 $498+376=874$ (只)  $900-874=26$ (个)

答:还剩 26 个鸡蛋没有孵出小鸡。

3. 有 45 块糖果,平均每个小朋友分到 7 块,一共分给了几个小朋友? 还剩几块?

【答案】 $45\div7=6$ (个)……3(块)

答:一共分给了 6 个小朋友,还剩 3 块。

4. 1 袋大米 28 元,1 瓶果汁 12 元。妈妈付了 100 元,买 2 袋大米和 1 瓶果汁,应找回多少元?

【答案】 $28+28=56$ (元)  $56+12=68$ (元)

$100-68=32$ (元)

答:应找回 32 元。

5. (创新题)有两筐苹果,甲筐里有 118 个,乙筐里有 88 个,如果每次从甲筐里拿 3 个放入乙筐,那么拿多少次可以使两筐里的苹果数相等?

【答案】 $118-88=30$ (个)  $30=15+15$   $15\div3=5$ (次)

答:拿 5 次可以使两筐里的苹果数相等。