

全真模拟训练卷 **重 点 学 校 卷** (一)

题号	一	二	三	四	五	六	七	八	总分
得分									

一、填空。(17 分)

- 由 0, 2, 5 组成的三位数中, 最大的数是(520), 最小的数是(205), 它们的和是(725), 差是(315)。
- 东面和南面中间的方向是(东南)面。
- 1 个直角有(一)个顶点、(两)条边。
- 括号里最大能填几?
 $6 \times (4) < 26$ $(2) \times 8 < 24$ $22 > 3 \times (7)$
 $\square \div 7 = 5 \cdots \cdots (6)$ $\square \div 8 = 8 \cdots \cdots (7)$
- 在 100, 429, 505 和 989 这四个数中, 比 500 多得多的数是(989), 比 500 少一些的数是(429), 和 500 最接近的数是(505)。
- 10 张纸的厚度大约是 1 毫米, 30 张纸的厚度大约是(3)毫米, 1 厘米的厚度大约有(100)张纸。

二、选择。(把正确答案的序号填在括号里)(4 分)

- 最大的三位数加 1 是(B)。
 A. 100 B. 1000 C. 10000
- 小轩身高是 145(B)。
 A. 毫米 B. 厘米 C. 分米
- 西面和北面之间的方向是(A)面。
 A. 西北 B. 东南 C. 东北

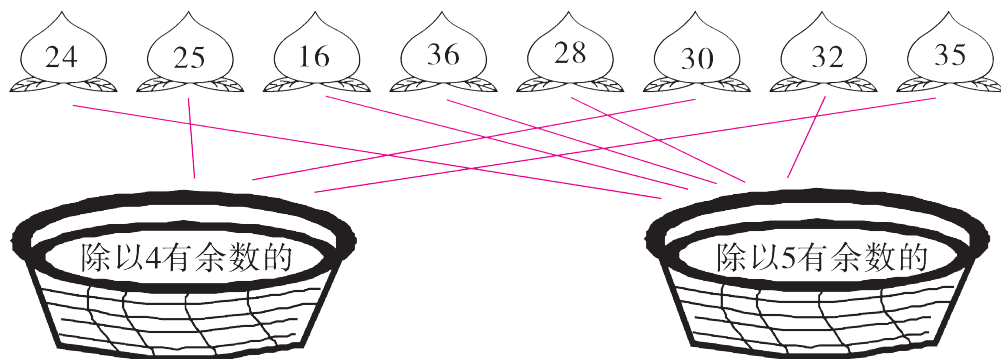
4. 一个数是 786, 另一个数比它小 214, 另一个数是(C)。

A. 1000

B. 672

C. 572

三、连一连。(4 分)



四、数学医院。(对的画“√”, 错的画“×”并改正)(6 分)

<div style="border: 1px solid black; padding: 5px; width: 100px; margin: 0 auto;"> <div style="text-align: center;">+</div> <div style="text-align: center;">539 +141 ----- 670</div> </div>	改正: $\begin{array}{r} 539 \\ +141 \\ \hline 680 \end{array}$	<div style="border: 1px solid black; padding: 5px; width: 100px; margin: 0 auto;"> <div style="text-align: center;">+</div> <div style="text-align: center;">777 +123 ----- 850</div> </div>	改正: $\begin{array}{r} 777 \\ +123 \\ \hline 900 \end{array}$	<div style="border: 1px solid black; padding: 5px; width: 100px; margin: 0 auto;"> <div style="text-align: center;">+</div> <div style="text-align: center;">205 -146 ----- 161</div> </div>	改正: $\begin{array}{r} 205 \\ -146 \\ \hline 59 \end{array}$
(×)		(×)		(×)	

五、计算。(共 33 分)

1. 直接写出得数。(6 分)

$$\begin{array}{llll}
 5 \times 7 = 35 & 20 + 180 = 200 & 42 \div 8 = 5 \cdots 2 & 720 - 20 = 700 \\
 63 - 53 = 10 & 500 + 500 = 1000 & 160 - 90 = 70 & 28 \div 7 = 4 \\
 63 + 17 = 80 & 180 - 90 = 90 & 530 - 300 = 230 & 180 + 220 = 400
 \end{array}$$

2. 比一比, 算一算。(6 分)

$6 \times 8 = 48$	$75 - 25 = 50$	$283 + 138 = 421$	$554 - 226 = 328$
$7 \times 8 = 56$	$750 - 25 = 725$	$238 - 183 = 55$	$554 - 262 = 292$
$8 \times 8 = 64$	$750 - 250 = 500$	$283 + 183 = 466$	$554 + 226 = 780$

3. 算一算, 填一填。(9 分)

1 米 - 2 分米 = (8) 分米 = (80) 厘米

18 毫米 + 22 毫米 = (40) 毫米 = (4) 厘米

45 厘米-3 分米=(15)厘米=(1)分米(5)厘米

2 分-30 秒=(90)秒 6 厘米 5 毫米=(65)毫米

4. 用竖式计算,带◎的要验算。(12 分)

$$27 \div 7 = 3 \cdots 6$$

$$\textcircled{79} \div 9 = 8 \cdots 7$$

$$\textcircled{355} + 245 = 600$$

$$\begin{array}{r} 3 \\ 7 \overline{) 27} \\ \underline{21} \\ 6 \end{array}$$

$$\begin{array}{r} 8 \\ 9 \overline{) 79} \\ \underline{72} \\ 7 \end{array}$$

验算: $8 \times 9 + 7 = 79$

$$\begin{array}{r} 355 \\ + 245 \\ \hline 600 \end{array} \quad \begin{array}{r} \overset{\cdot}{6} \overset{\cdot}{0} \overset{\cdot}{0} \\ - 355 \\ \hline 245 \end{array} \quad \begin{array}{l} \text{验} \\ \text{算:} \end{array}$$

$$249 + 415 + 24 = 688$$

$$808 - 759 = 49$$

$$\textcircled{400} - 156 = 244$$

$$\begin{array}{r} 249 \\ + 415 \\ \hline 664 \\ + 24 \\ \hline 688 \end{array}$$

$$\begin{array}{r} \overset{\cdot}{8} \overset{\cdot}{0} \overset{\cdot}{8} \\ - 759 \\ \hline 49 \end{array}$$

$$\begin{array}{r} \overset{\cdot}{4} \overset{\cdot}{0} \overset{\cdot}{0} \\ - 156 \\ \hline 244 \end{array} \quad \begin{array}{r} 244 \\ + 156 \\ \hline 400 \end{array} \quad \begin{array}{l} \text{验} \\ \text{算:} \end{array}$$

六、我会画。(8 分)

1. 画一条比 2cm 长 1dm 的线段。


【答案】

2. 画一个直角三角形。

【答案】

(答案不唯一)

七、填一填,写一写。(8 分)




(5)时(35)分

5 : 35



(2)时(10)分

2 : 10



(9)时(15)分

9 : 15



(12)时(30)分

12 : 30

八、走进生活。(共 20 分)

1. 蜜蜂采花蜜。可以采几小时? 还剩多少朵花? (4 分)



每小时采8朵。




43朵





【答案】 $43 \div 8 = 5(\text{时}) \cdots \cdots 3(\text{朵})$

答:可以采 5 小时,还剩 3 朵花。

2. 完成下列各题。



- (1) 填表。(5 分)

	合计				
只数(只)	28	10	7	6	5

- (2) 填一填。(3 分)

 和  相差 (3) 只,  是  的 (2) 倍,
 和  一共有 (16) 只。

3. (创新题) 一桶柴油连桶共重 380 千克。用去一半柴油后,连桶称,还重 195 千克。原来桶里有多少千克柴油? 空桶重多少千克? (8 分)

【答案】 $380 - 195 = 185(\text{千克})$ $185 + 185 = 370(\text{千克})$

$380 - 370 = 10(\text{千克})$

答:原来桶里有 370 千克柴油,空桶重 10 千克。