



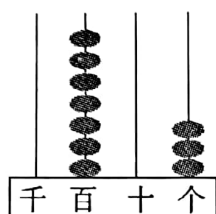
河北省部分市县期末调研真题精选

(四) 保定市定州市调研试题

题号	一	二	三	四	五	六	总分
得分							

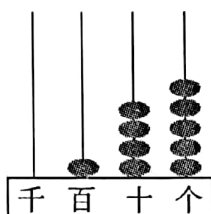
一、填一填。(每空1分,共31分)

1. 看图写数读数。



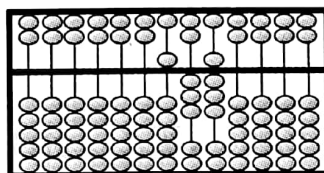
写作 ()

读作 ()



写作 ()

读作 ()



写作 ()

读作 ()

2. 5000 克 = () 千克

300 厘米 = () 米

2 米 3 分米 = () 厘米

1 小时 20 分 = () 分

3. 在括号里填上合适的单位。

小红身高 130 () ;

一瓶矿泉水重 500 () ;

做眼保健操大约用 5 () ; 一个西瓜重 5 () 。

4. 375 是由 () 个百、() 个十和 () 个一组成的。

一个数由 6 个百和 4 个一组成,这个数是 () 。

5. 扎一个礼品盒用 6 分米彩带,5 米长的彩带最多能扎 () 个礼品盒。

6. 长方形和正方形的相同点是 () ,不同点是 () 。

7. 根据下面的算式,分别写出两个有关的算式。

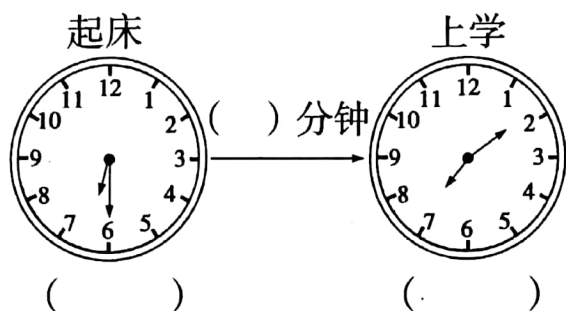
$852 - 325 = 527$

$263 + 137 = 400$



() ()
() ()


8. 写出钟面上表示的时刻和经过的时间。



9. 用 3, 8, 0 三个数字能组成()个不同的三位数。把这几个数按从大到小的顺序排列起来()。



二、做一做。(10 分)



阅读下面的信息：一头猪重 150 千克，一头小象比这头猪重得多，一只羊比这头猪轻一些。

(1) 一头小象大约重多少千克？

(选择合适的数画“√”)

(2) 一只羊大约重多少千克？

(选择合适的数画“○”)


30	510	180	120
千克	千克	千克	千克

2. 小云、小芳和小冬三位小朋友站一排照相合影，把他们所有的站法用符号排列出来。(用“○”代表小云，“△”代表小芳，“□”代表小冬)



三、画一画。(9分)

在方格纸上画一个长方形,一个正方形和一个平行四边形。



四、选一选,把正确答案的序号填在括号里。(8分)

1. $\square \div 7 = \star \cdots \triangle$, \triangle 可能是()。

①8

②7

③5

2. 一百一百地数,()个一百是一千。

①10

②100

③1000

3. 小红和小亮比赛跳绳,小红30秒跳了50下,小亮1分钟跳了90下。()

①他俩跳的一样快

②小红跳得快

③小亮跳得快

4. 把一张长15厘米,宽10厘米的长方形纸,剪下一个最大的正方形,剩下的长方形的宽是()厘米。

①10

②5

③15

五、算一算。(24分)

1. 口算。(8分)

$45 + 55 =$

$78 - 35 =$

$600 + 230 =$

$260 - 80 =$

$380 - 300 =$

$700 + 250 =$

$1000 - 400 =$

$180 + 120 =$

2. 用竖式计算并验算。(8分)

$374 + 89 =$

验算

$526 - 208 =$

验算



3. 脱式计算。(8 分)

$$815 - 257 + 372$$

$$785 - (316 + 187)$$

六、解决问题。(18 分)

1. 植物园有白月季 227 棵,红月季比白月季多 132 棵,这两种月季共多少棵?

2. 妈妈去商场购物,买了一台洗衣机花了 536 元,又买了一盏护眼灯,护眼灯比洗衣机少 248 元。妈妈买这两样物品共花了多少元钱?

3. 35 名中学生到公园划船,已知大船租金 8 元,每条大船最多坐 6 名同学,小船租金 6 元,每条小船最多坐 4 名同学。如果只租一种船,租哪种船比较便宜? 最低要花多少元钱?

