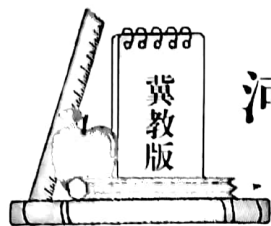


小学二年级数学(下)



河北省部分市县期末调研真题精选

(七) 邢台市柏乡县调研试题

| 题号 | 一 | 二 | 三 | 四 | 五 | 总分 |
|----|---|---|---|---|---|----|
| 得分 | | | | | | |

一、我是小小神算手。(10+10+9=29 分)

1. 直接写得数。

$$32 \div 8 = \quad 36 + 70 = \quad 220 - 20 = \quad 550 + 100 = \quad 600 + 400 =$$

$$60 + 200 = \quad 970 - 900 = \quad 5 \times 9 = \quad 150 - 70 = \quad 35 \div 6 =$$

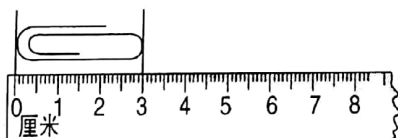
2. 竖式计算,带有★的要验算。

$$45 \div 8 = \quad 61 \div 9 = \quad \star 458 + 264 = \quad \star 904 - 428 =$$

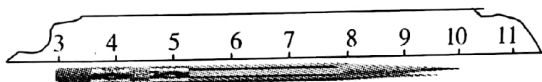
$$3. \quad 713 + 249 - 386 \quad 679 - (262 - 170) \quad 642 - 486 + 365$$

二、想一想,填一填,你一定能行!(30 分)

1.



这支回形针长()厘米



这支铅笔长()厘米

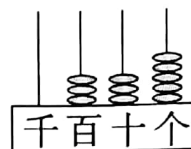
$$2. \quad 30 \text{ 分米} = () \text{ 米} \quad 2 \text{ 米 } 50 \text{ 厘米} = () \text{ 米 } () \text{ 分米}$$

$$1 \text{ 小时} = () \text{ 分} \quad 2000 \text{ g} = () \text{ kg}$$



3. 右图中的数是由()个百、()个十和()

个一合起来是(),这个数读作()。



4. 按规律填数。

(1) 378, 383, 388, 393, (), ()。

(2) 909, 808, 707, 606, (), ()。

5. 在○里填上“<”、“>”或“=”。

707 ○ 770

2 米 ○ 100 厘米

113 分 ○ 2 时

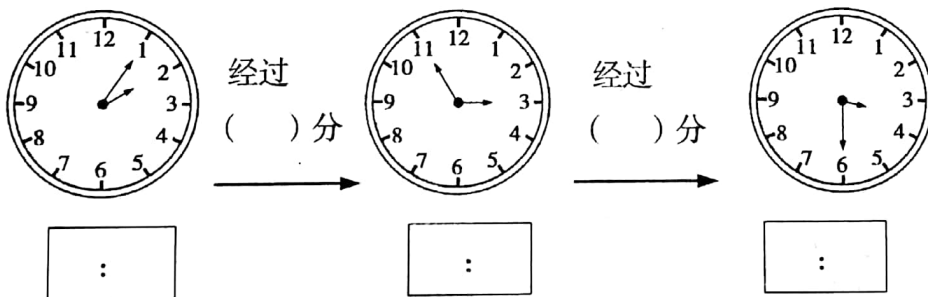
5000 克 ○ 5 千克

6. 一盒饼干有 50 块,平均分给 6 个小朋友,每个小朋友最多可以分到()

块,还剩()块;如果每个小朋友要分到 9 块,还差()块。

7. 用 3、7、9 三个数字可以组到()个不同的三位数,其中最小的是()。

8. 你能准确地读出下面钟面上所示的时刻吗? 并说出经过的时间。



三、我会选。(把正确答案的序号填在括号内。)(10 分)

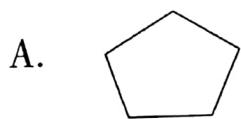
1. 下面计算正确的是()。

A. $32 \div 6 = 5 \cdots 1$

B. $33 \div 8 = 4 \cdots 1$

C. $45 \div 6 = 7 \cdots 2$

2. 下面的图形中,不是四边形的是()。



3. 下列数中与 497 最接近的数是()。

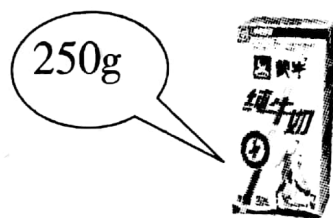
- A. 400 B. 500 C. 490

4. 如右图()盒这样的牛奶重 1 千克。

- A. 2 B. 3 C. 4


5. 有 32 个苹果,每盘放 5 个,至少需要()个盘子。

- A. 6 B. 7 C. 8 D. 5



四、画一画。(6 分)

在下列方格内画一个长方形、正方形和一个平行四边形。



五、解决问题。(4+5+8+8=25 分)



$$(\quad) \div (\quad) = (\quad) (\text{个}) \cdots (\quad) (\text{个})$$

$$(\quad) \div (\quad) = (\quad) (\text{盘}) \cdots (\quad) (\text{个})$$

2. 妈妈有 500 元,要买这两样商品,钱够吗?




398 元



214 元



3. 超市大赢家。



每个 8 元



每把 2 元



每支 5 元



每瓶 4 元

(1) 小红有 20 元钱, 可以买几个文具盒? 还剩多少钱?

(2) 明明有 15 元钱, 可以买几瓶墨水? 还剩多少钱?

4. 第一天借出了 145 本,
第二天借出了 291 本。



这里还剩下
409 本。

(1) 第二天比第一天多借出了多少本?

(2) 原来一共有多少本?

