

河北省部分市县期末调研真题精选

(十) 秦皇岛市调研试题

题号	一	二	三	四	五	总分
得分						

一、我是小小神算手。(10+8+6=24 分)

1. 口算。

$36+42=$ $9 \times 4=$ $75-25=$ $500+270=$ $80+70=$

$110+60=$ $160-70=$ $72 \div 8=$ $900-500=$ $88+58=$

2. 用竖式计算。

$426+267$ $400-215$ $504+198$ $327-108$

3. 脱式计算。

$852-(431+298)$ $812-227-375$ $289-(906-758)$

二、想一想,填一填,你一定能行!(31 分)

1. 3 个百和 6 个一合起来是(),10 个一百是()。

2. 482 里面有()个百、()个十和()个一组成的。

3. 有 15 架飞机,每 3 架飞机编成一组,可以编成()组。如果每 4 架飞机编成一组,可以编成()组,还剩()架。

4. 在()里填上合适的单位。

丫丫吃一顿饭大约用 20(),红红跑 100 米用 18()



5. 根据要求填空。

409 354 798 573 101 813

(1) 在 400 与 800 之间的数()。(2 分)

(2) 比 300 大的数有()。(2 分)

(3) 比 800 多一些的数是(), 少一些的数是()。

6. 有 1、3、6 三个数字, 按要求填空。

(1) 组成最大的三位数是(), 最小的三位数是(), 它们的差是()。

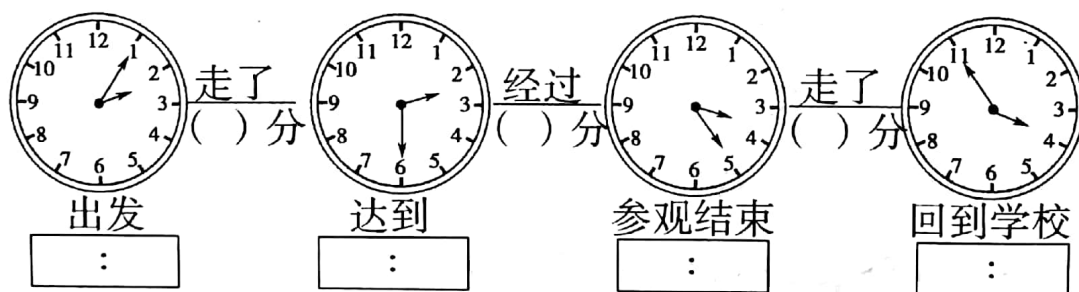
(2) 任选两个数字组成两位数, 可以组成()个两位数。

7. 找规律填一填。

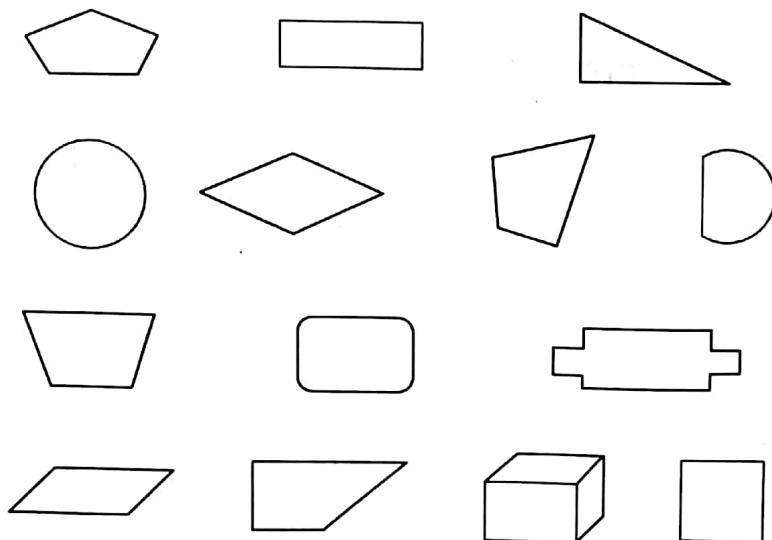
(1) 620、600、580、____、____、520、500

(2) 595、600、____、610、____、620、625

8. 同学们参观展览。




三、把你认为是四边形的涂上颜色。(7 分)



四、我会选。(把正确答案的序号填在括号内。10 分)

- 比 999 大 1 的数是()。
A. 1000 B. 1100 C. 998
- 二年级 35 名同学去动物园,每辆车只能坐 4 人,他们需要租()辆车。
A. 8 B. 9 C. 10 D. 11
- 一袋洗衣粉重 500 克,两袋洗衣粉重()。
A. 1 千克 B. 1000 千克 C. 500 克
- $\triangle + 167 = 130 + \square$ 哪个图形表示的数大?
A. \triangle 表示的数大 B. \square 表示的数大 C. 两个图形表示的数一样大
- 一个苹果重 180 克,一个梨和一个橘子一共重()克。



- A. 360 B. 400 C. 450

五、解决问题。(5+5+10+8=28 分)

- 扎一个礼品盒用 9 分米彩带,7 米长的彩带最多够扎几个礼品盒?

$$\square \bigcirc \square = \square (\text{个}) \cdots \cdots \square (\text{分米})$$

口答:最多够扎()个礼品盒。

- 为了欢迎“世博会”在中国的召开,二年级全体同学们在植树节那天,上午植树 127 棵,下午植树 143 棵,同学们植树节这天共植树多少棵?

树木还可以净化空气,减少噪音呢!



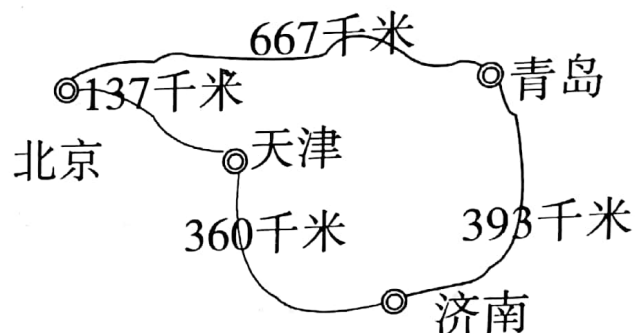
3. 看图回答问题。

(1) 从天津到青岛有两条路。

第一条从天津→()→青岛

第二条从天津→()→青岛


(2) 第一条路有多少千米?



(3) 第二条路有多少千米?

(4) 哪条路长, 长多少千米?

4. 下面是商店部分商品的价格。



150元



650元



359元

(1) 爸爸想买一辆自行车和一部电话 700 元钱够吗?

(2) 你能提出什么问题? 并计算出来。

