

# 河北省部分市县期末调研真题精选

## (十一) 沧州市泊头市调研试题

题号	一	二	三	四	总分
得分					

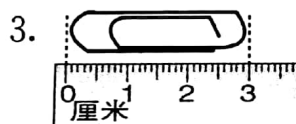
### 一、填一填。(每空1分,共23分)

1. 4 千克 = ( ) 克    1 米 = ( ) 分米 = ( ) 厘米


2. 按规律接着往下写数。

550、600、650、700、( )、( )。

234、345、456、567、( )、( )。



( ) 厘米



( ) 厘米

4. 在下面的( )里填上合适的单位。

5. 有 3、5、8 三个数字,按要求填空。

(1) 可以组成( )个三位数,其中最大的是( );

(2) 任选两个数字组成两位数,可以组成( )个两位数。

6.

姓名	聪聪	亮亮	红红	丫丫
刷牙时间	85 秒	1 分 15 秒	68 秒	52 秒

(1) 刷牙时间最长的是( ),最短的是( );

(2) 亮亮刷牙时间比红红长( )秒。

7. 把一张长 12 厘米、宽 8 厘米的长方形纸,剪下一个最大的正方形,这个正方形的边长是( )厘米,剩下的部分是一个( )形。



8. 最少加上( )个,才能正好平均分给 8 个小朋友;  
最少去掉( )个,才能正好平均分给 9 个小朋友。

## 二、计算。(23 分)

1. 直接写出得数。

①  $150 - 70 =$

②  $400 + 220 =$

③  $780 - 500 =$

④  $45 + 34 =$

⑤  $100 - 54 =$

⑥  $52 + 38 =$

2. 列竖式计算。

①  $148 + 357$

②  $532 - 315$

③  $78 \div 8$

④  $49 \div 6$

3. 用自己喜欢的方法计算。

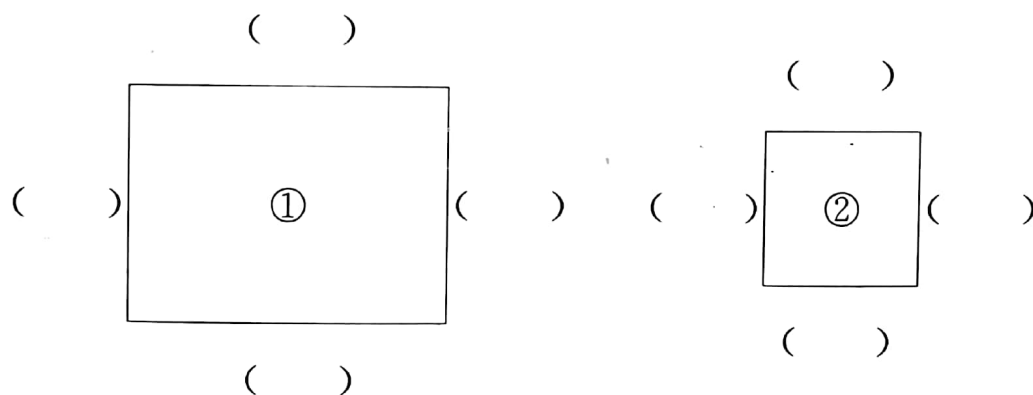
①  $318 + 256 - 119$

②  $645 - (145 + 273)$

③  $436 - (365 - 188)$

## 三、做一做。(24 分)

1. 先量一量下面两个图形每条边的长度,再说一说每个图形的名称和各自的特点。

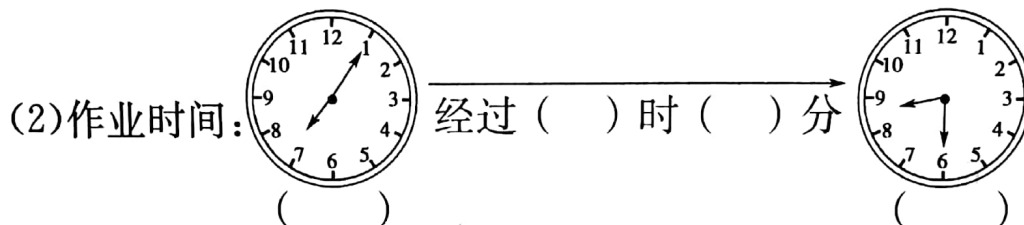



图①是( )形,它的特点是:\_\_\_\_\_


图②是( )形,它的特点是:\_\_\_\_\_




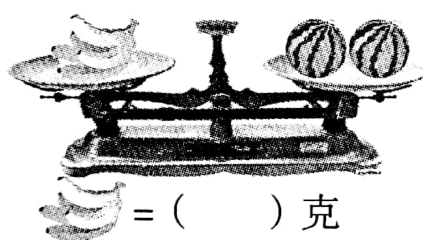
## 2. 看钟表,算时间。



## 3. 根据下面的天平图推算。



(2) 一个西瓜重 4 千克。



4. 学校组织一至四年级的同学去春游,可以怎样乘车,请你确定乘车方案。  
(用算式表示)

年级	一年级	二年级	三年级	四年级
人数	28	36	22	30



①号车准  
乘60人




②号车准  
乘60人

## 四、生活中的数学。(30 分)

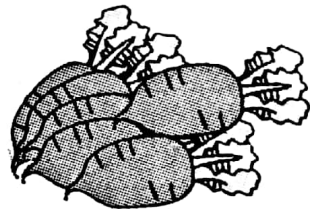
1. 丫丫有 66 颗珠子,最多能穿几串这样的珠子?





2. 兔妈妈拔了 126 个萝卜,吃了一段时间后还剩 49 个。


(1)兔妈妈吃了多少个?



(2)剩下的平均分给 8 只小兔,每只小兔可以分得几个,还剩几个?

3. 三个小朋友去图书馆。

(1)小丽从家出发,经过小雨家到图书馆,要走多少米?



(2)小红从家出发,经过小雨家和小丽家到图书馆,要走多少米?

