

## 河北省部分市县期末调研真题精选

## (五) 保定市涿州市调研试题

题号	一	二	三	四	五	总分
得分						

## 一、计算我最棒。(10+8+6=24 分)

## 1. 直接写得数。(10 分)

$64-19=$        $82+12=$        $13\div 5=$        $200+800=$        $300-80=$

$680-600=$        $470+50=$        $35+28=$        $280-90=$        $40+200=$

## 2. 用竖式计算。前两道要验算。(3+3+2=8 分)

$385+156=$

$901-212=$

$53\div 9=$

## 3. 用脱式计算。(6 分)

$152+237+563$

$800-(159+480)$

$624-354+246$

## 二、想一想,填一填。(第3小题2分,其他小题每空1分,共32分)

1. 一个数,百位上是6,十位和个位上都是9,这个数是( )位数。写作( ),读作( )。

2. 最大的三位数是( ),最小的四位数是( ),它们相差( )。



3. 678 中的 6 在( )位上,表示( )个( )。

4. 3 米=( )分米                      2000 克=( )千克

1 分米-2 厘米=( )厘米              120 秒=( )分

5. 用 2、5、8 三个数字可以组成( )个三位数,其中最大的数是( ),最小的数是( )。

6. 在括号里填上合适的单位。

小明的体重是 23( );一个桃子重 120( )。

妈妈的身高是 160( );吃一顿饭大约需要 15( )。

桌子高 7( );小红眨一下眼睛大约需要 1( )。

7. 20 个萝卜平均分给 5 只小兔,每只小兔分到( )个萝卜。

8. 在○里填上“>”、“<”或“=”。

573 ○ 537    601 ○ 599    802 ○ 820    90 分米 ○ 9 米

9. 将一个长方形的框架拉成平行四边形后,( )变了,边的( )没变。

10. 根据每组中的算式写出两个相关联的算式。

$$262-74=188$$

$$217+129=346$$

( )

( )

( )

( )

### 三、选择正确答案的序号写在题中的括号里。(6 分)

1. 1000 克的棉花和 1 千克的铁比较,( )。

A. 棉花重

B. 铁重

C. 一样重

2. 亮亮和聪聪进行 100 米赛跑,聪聪用了 18 秒,亮亮用了 20 秒。( )跑得快些。

A. 聪聪快

B. 亮亮快

C. 一样快



3. 一共有 40 个乒乓球,每 6 个装一盒,至少需要( )个盒子。

A. 6

B. 7

C. 8

4. 时针从 11 走到 12,经过的时间是( )。

A. 1 分

B. 1 秒

C. 1 小时

5. 下列图形中一定没有直角的是( )。

A. 长方形

B. 正方形

C. 平行四边形

6. 一个数除以 5,余数最大是( )。

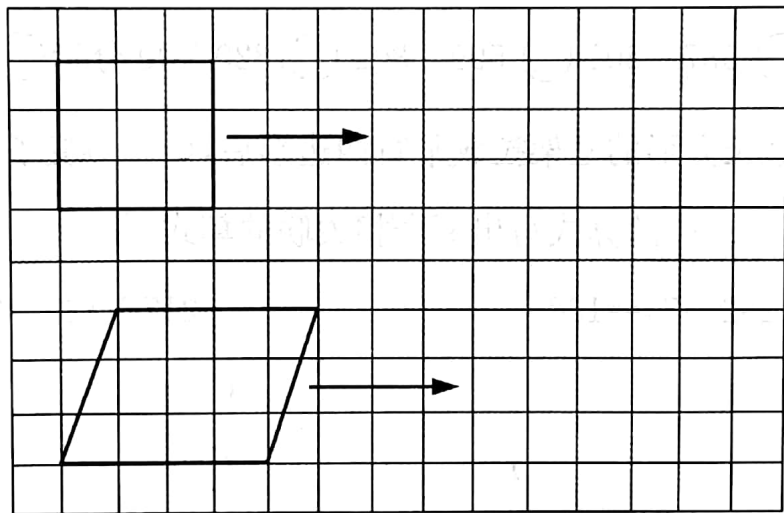
A. 4

B. 5


C. 6

#### 四、填一填,画一画,连一连。(4+5+4=13 分)

1. 在方格纸上画图形。画一个大一点的正方形,画一个完全一样的平行四边形。

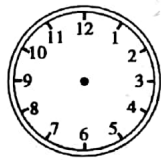


2. 在钟面上画出指定的时间并计算。



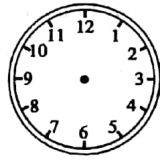
8:00 上第一节课

经过  
( ) 分



8:40 下第一节课

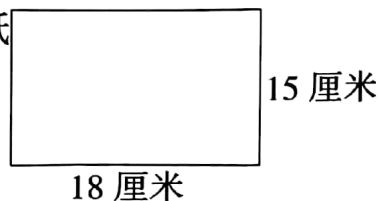
经过  
( ) 分



8:50 上第二节课

3. 如图:要在这张长 18 厘米,宽 15 厘米的长方形纸上,剪下一个最大的正方形。

(1)剪下的这个正方形的边长是( )厘米。



(2)剩下的长方形长是( )厘米,宽是( )厘米。

(3)请你在图上画一画剪下的图形。

### 五、用心思考,解决问题。(每小题 5 分,共 25 分)

1. 一只羊重 27 千克,一只公鸡重 3 千克。羊的体重是公鸡的几倍?

2. 一本《童话故事》书 8 元,60 元能买几本《童话故事》书,还剩多少元?


3. 扎一个礼品盒要用 7 分米的彩带(如下图),现在有 5 米长的彩带,最多可以扎几个礼品盒?



用 7 分米

4. 用 900 元买下面两件商品,还剩多少钱?

499 元



299 元



5. 公园里有牡丹花 380 棵,芍药花比牡丹花少 89 棵。两种花一共有多少棵?



由 扫描全能王 扫描创建