

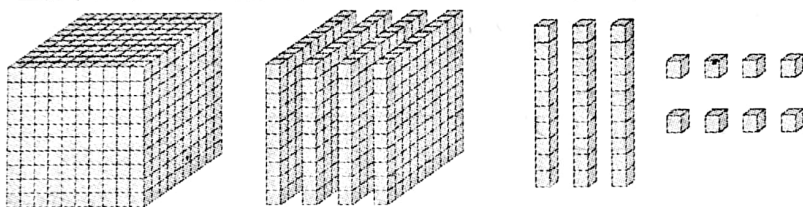
# 河北省部分市县期末调研真题精选


## (二) 唐山市滦南县调研试题

题号	一	二	三	四	五	六	七	总分
得分								

### 一、脑筋动一动,准确来填空。(每空 1 分,共 25 分)

1. 下图所表示的数是由( )个千,( )个百,( )个十和( )个一组成的;这个数读作( );写作( )。



2.  这几件衣服,共有( )种搭配方式。

3. 在括号里填上合适的单位。

- (1)一根旗杆高约 10( )。(2)一桶水重约 17( )。  
(3)一袋味精重约 100( )。(4)烧一壶开水一般需要 15( )。  
(5)上二年级的小红体重为 35( )。

4. 在一张长 11 厘米,宽 9 厘米的长方形纸上剪下一个最大的正方形,这个正方形的边长是( )厘米,剩下的长方形的长是( )厘米,宽是( )厘米。

5. ( )里最大能填几?

$$3 \times ( ) < 20$$

$$64 > ( ) \times 8$$

$$83 - 12 > ( ) \times 9$$

$$590 - 80 > ( )$$


6.  $\square \div 6 = 7 \dots \triangle$ , 当  $\triangle$  最大时,  $\square$  应该是( )。

7. 按规律填空。

573, 568, 563, ( ), ( ), ( )。

1, 9, 2, 8, 3, ( ), 4, 6, 5, 5。

8. 仔细观察天平图推算。





9. 黑兔、白兔和灰兔赛跑,黑兔跑得不是最快的,但比白兔快。它们三个中,灰兔是第( )名。

A. 1

B. 2

C. 3

10. 读出一个0的数是( )。

A. 800

B. 390

C. 401

#### 四、动动小脑瓜,计算顶呱呱。(共22分)

1. 直接写结果。(每题1分,共8分)

$420 - 290 =$

$64 \div 8 =$

$199 + 183 =$

$456 - 251 =$

$37 \div 7 =$

$67 \div 9 =$

$320 - 90 =$

$77 + 423 =$

2. 竖式计算并验算。(每题3分,共6分)

$494 + 138 =$

$400 + 386 =$


3. 混合运算。(8分)

$588 + (319 - 195)$

$238 + 169 - 325$

#### 五、写一写,算一算,认识时分秒。(共6分)


1. 按照钟面下面的提示写出时刻,填在空格里。(4分)



再过3分

:

(1)



再过9分

:


(2)



再过25分

:

(3)



再过35分

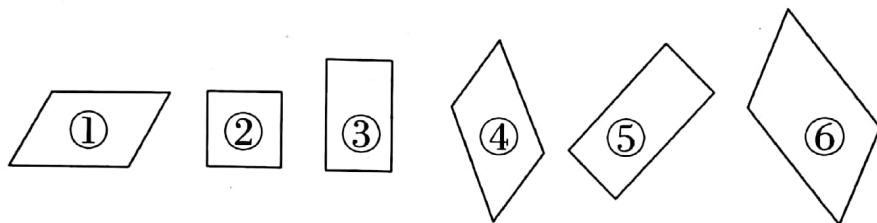
:

(4)



2. 从第(2)个钟面上表示的时刻到第(3)个钟面上表示的时刻,中间经历了( )时( )分。(2分)

六、看一看,填一填,我会认图形。(共3分)




上图中,( )是长方形,( )是正方形,( )是平行四边形。

七、我是解决问题小能手。(共14分)

1. 70元钱能买几条毛巾,还剩多少元?(4分)

$$\square \bigcirc \square = \square (\text{条}) \cdots \cdots \square (\text{元})$$

答:能买( )条毛巾,还剩( )元。



每条毛巾9元

2. 会议室里有8张4人沙发和10张单人沙发,此会议室一共可以坐多少人?(4分)

答:此会议室一共可以坐( )人。

3. 男孩:我买了7支铅笔,一共花了49元。

女孩:我买了6支铅笔,一共花了30元。

- (1)谁买的笔更便宜?(3分)

答:( )买的便宜

- (2)每支便宜多少?(3分)

答:每支便宜( )元钱。

