

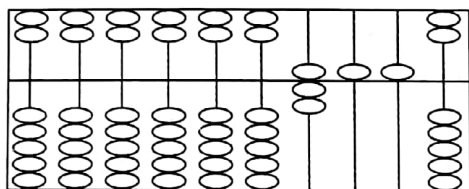
河北省部分市县期末调研真题精选

(三) 唐山市迁安县调研试题

| 题号 | 一 | 二 | 三 | 四 | 五 | 总分 |
|----|---|---|---|---|---|----|
| 得分 | | | | | | |

一、我会认真填一填。(共 28 分)

1. 写出下面算盘上表示的数()。



2. 在○里填上“>、<或=”。

5m ○ 500cm

200 秒 ○ 2 分

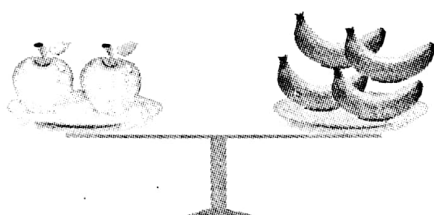
6kg ○ 800g

3. 在()里填上合适的单位名称。(7 分)

今天是小明的生日,爸爸专门为他定制了一个生日蛋糕,这个生日蛋糕高 11(),重 1()。晚饭后,一家三口到离家 900()远的电影院,看晚上 8()开始放映的电影,晚上 9()30()电影散场,这部电影放映了()分。

4. 用 5、6、9 三个数字可以组成()个不同的三位数;其中,最小的数是()。

5.



1 个苹果 = () 个香蕉



二、我会细心算一算。(22 分)

1. 用竖式计算。(6 分)

$$\begin{array}{r} \square \\ 8 \overline{) 69} \\ \square \square \\ \hline \square \end{array}$$

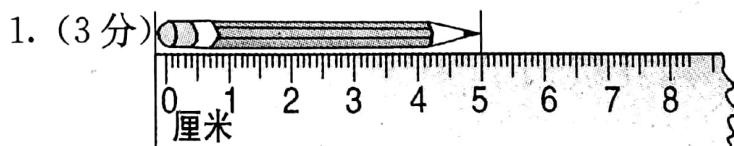
2. 竖式计算并验算。(10 分)

$$756 - 159 =$$

验算：

3. $600 - 215 - 185$ (6 分)

三、我是动物小行家。(21 分)



上图中的铅笔()。(将序号填在括号中)

①比 5 厘米短


②长 5 厘米

③比 5 厘米长

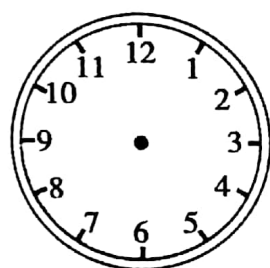


2. (1)在方格纸上画出一个长方形。(4 分)

(2)在长方形上画一条线,使它得到最大的正方形。(4 分)




3. 画表针,填一填。(10 分)

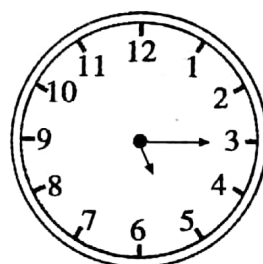


4: 00

经过



() 分



:

四、生活中的数学。(22 分)

- 小明爷爷家的果园有核桃树、梨树和桃树共 500 棵。梨树 155 棵,桃树 240 棵,聪明的小朋友,请你算一算他家果园种了多少棵核桃树?(7 分)

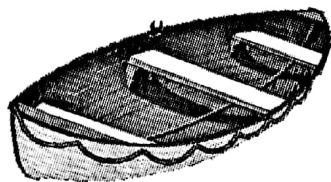


2. 小强的爷爷家养鸡 128 只,养的鸭比鸡多 98 只,小强的爷爷家养鸡和鸭一共多少只? (7 分)

3. 小丽的妈妈是一位心灵手巧的服务设计师。她现在有一块 5 米长的布料,每 6 分米可以做一条裤子。她可以做多少条? 还剩多少分米? (8 分)

五、我能行。(7 分)

二(1)班 51 名同学一起去公园划船。如果所有同学全都坐,且船上没有空座位。



每条大船限乘9人

每条小船租金6元。
每条大船租金8元。



(1)需要租大船、小船各几只? (2)共需要租金多少元?

