



河北省部分市县期末调研真题精选

(一) 张家口市蔚县调研试题

题号	一	二	三	四	五	六	总分
得分							

一、填一填,我最棒!(33分)

1. 正方形有()条边,每条边都(),四个角都是()角。
2. 一个数除以9有余数,余数最大是(),最小是()。
3. 用6、3、0、2这四个数字组成的三位数中,最大的是(),最小的是()。

4. 3个一和6个百组成的数是()。

5. 在()里填上合适的单位名称。

(1)一支铅笔长18()

(2)一个西瓜重5()

(3)一节课的时间是40()

(4)一个鸡蛋重50()

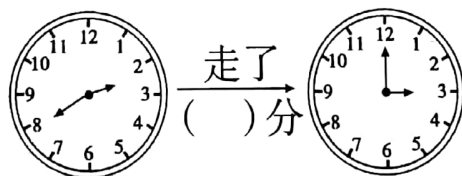
(5)教室的长大约8()

(6)小明跑100米要用26()

6. 5米=()厘米 1千克=()克 2分=()秒


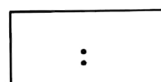
80厘米=()分米 3000克=()千克 180分=()时

7.



出发

到达




8. 三个小朋友照合影,一共可以照出()张不同的照片。

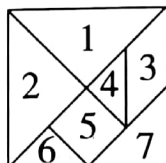
9. 将537、389、502、874、384从大到小排列。

() > () > () > () > ()




10. () 厘米
() 厘米  4 厘米
9 厘米

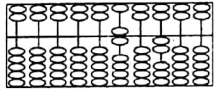

11. 七巧板由()种图形组成。




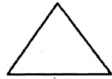

- 12.



二、当好小裁判。对的打“√”，错的打“×”。(5 分)

- 算盘上的数是 202。  ()
-  这条线段长 2 厘米。 ()
- 秒针从钟面上的一个数字走到下一个数字,经过的时间是 5 秒。 ()
- 3 个小朋友进行跳棋比赛,结果可能有 3 种。 ()
- 4000 克石头比 4 千克棉花重。 ()

三、我会选。把正确答案的序号,填在括号里。(5 分)

- $\blacksquare \div 5 = 6 \cdots \blacktriangle$, 那么 \blacktriangle ()。
A. 小于 6 B. 大于 5 C. 小于 5
- 测量物品时,天平下沉一端的物品 ()。
A. 重 B. 轻 C. 不确定
- 下列平面图形中,不是四边形的是 ()。
A.  B.  C. 
- 最小的四位数与最小的三位数相差 ()。
A. 10 B. 900 C. 1
- 分针从“3”走到“9”,经过的时间是 ()。
A. 30 分 B. 36 分 C. 6 分



四、计算题。(25 分)

1. 直接写得数。(5 分)

$30 \div 4 =$

$45 - 27 =$

$850 - 400 =$

$470 + () = 620$

$17 \div 2 =$

$39 + 47 =$

$260 + 80 =$

$930 - () = 840$

$380 - 70 - 80 =$

$1000 - 300 - 100 =$

2. 用竖式计算,带▲的要验算。(11 分)

$68 \div 9 =$

$\blacktriangle 547 + 278 =$

$\blacktriangle 800 - 394 =$

3. 算一算。(9 分)

$529 + 287 - 329$


$463 - 158 + 124$

$800 - (342 - 158)$

五、操作题。(共 7 分)

1. 量一量,填一填。

() 厘米



() 厘米

2. 从上题的长方形中截一个最大的正方形,正方形的边长是()厘米,剩下的长方形长是()厘米,宽是()厘米。

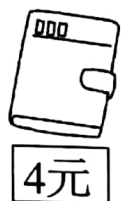
3. 在数位表中画不同的图形表示 203。

千位	百位	十位	个位



六、解决问题。(共 25 分)

1.



我带了13元。

他最多能买几个本?

2. 一瓶可乐能分给 5 个人,有 37 个客人,至少需要多少瓶可乐?

3.



481克



195克



102克



324克

(1) 苹果比菠萝轻多少克?

(2) 哪三种水果正好重 1 千克?

4. 同学们去春游,三年级去了 398 人,二年级比三年级少去 26 人,两个年级一共有多少人去春游?

