

期末检测试卷(二)

(时间:60 分钟 满分:100 分)

题号	一	二	三	四	五	六	七	八	总分
得分									

一、口算下面各题。(20 分)

$45 \div 9 =$ $8 \times 9 =$ $48 \div 6 =$ $80 + 600 =$

$430 - 30 =$ $3 \times 8 =$ $160 - 100 =$ $7 \times 9 =$

$650 + 60 =$ $9 \times 3 =$ $6 \times 5 =$ $200 + 800 =$

$700 - 80 =$ $50 + 70 =$ $280 + 90 =$

二、填空题。(23 分)

- 一袋方便面大约重 125(),小明的体重是 35()。
- 1 个西瓜的重量和 5 个菠萝的重量相等,1 个西瓜重 5 千克,1 个菠萝重()千克。
- 135 是由()个百,()个十和()个一组成的。
- 1 个千里面有()个百,或有()个十;1 个百里有()个一,或有()个十。
- 在 560 中,5 在()位上,表示 5 个(),6 在()位上,这个数的最高位是()位。
- 李平用 $\boxed{8}$ 、 $\boxed{2}$ 、 $\boxed{6}$ 三个数组成的最大三位数是(),最小三位数是()。



7. 先读一读,再根据每组数排列的规律接着往下写。

(1) 270、280、290、_____、_____。

(2) 1000、998、996、_____、_____。

(3) 607、608、609、_____、_____。

(4) 371、374、377、_____、_____。

8. 填上合适的单位。

课桌高 70()

一根跳绳长 2()

楼房高 24()

小明身高 1() 35()

三、在 \bigcirc 里填上“ $>$ ”“ $<$ ”或“ $=$ ”。(12 分)

678 \bigcirc 768

999 克 \bigcirc 1 千克

150+60 \bigcirc 750

820 克 \bigcirc 802 克


32 \div 8 \bigcirc 2 \times 2

580-80 \bigcirc 500

四、图书馆里有文艺书 499 本,工具书比文艺书多得多,科技书比文艺书少一些。工具书和科技书分别有多少本?(在工具书的下面画 \checkmark ,在科技书的下面画 \bigcirc)(4 分)

1000 本	510 本	480 本	299 本

五、在方格纸上画一个平行四边形和一个正方形。(4 分)



六、计算。(12 分)

1. 口算。

$36+43=$

$76-24=$

$120+50=$

$120-70=$

$27+18=$

$500+160=$

$520-300=$

$80+90=$

2. 列竖式计算。


$63\div 8=$

$400-215=$

$327-108=$

$421-136=$


七、连线。(共 5 分)




9:55



10:05



3:25



1:35

八、解决问题。(20 分)

1. 小羊体重 8 千克,小熊体重 72 千克,小熊的体重是小羊的几倍?



2. 公园里有 128 只大猴,小猴比大猴多 36 只,公园里一共有多少只猴子?

3. (1)23 人站队,平均每排站 8 人,可以站几排? 剩下几个人?



(2)如果每 4 人站一排,至少要站几排?

4.

