

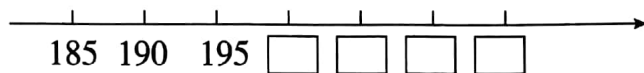
期末检测试卷(一)

(时间:60 分钟 满分:100 分)

题号	一	二	三	四	五	六	总分
得分							

一、填一填。(33 分)

1. 在□里填上合适的数。




2. 一个数由三个百和五个一组成,这个数是(),读作()。

3. ()和()是常用的质量单位。

4. $1\text{ kg} = ()\text{ g}$ $300\text{ 克} + 700\text{ 克} = ()\text{ 千克}$

5.

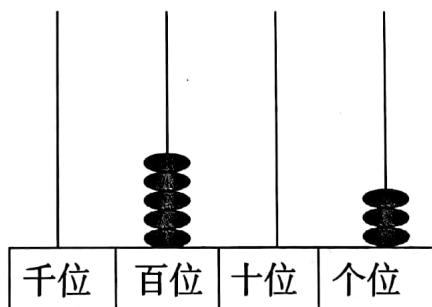


每袋食盐重()。

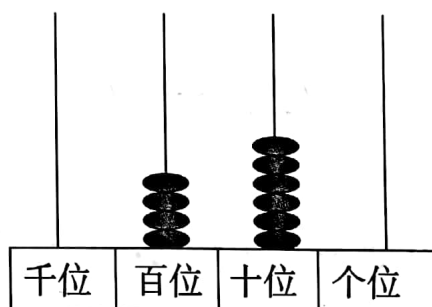
6. 长方形、正方形和平行四边形都是()边形。

7. $\square \times 8 = 72$ $32 \div \square = 8$

8. 写出下面计数器上表示的数。



写作: _____



写作: _____



9. 填“>”“<”或“=”。

500 克 ○ 5 千克

250 克 ○ 2 千克

308 ○ 298

1000-30 ○ 700

10. 一个有余数的除法算式中,除数是 6,余数最大是()。

11. 用 1、3、5 三个数字组成不同的三位数,并把它们按从大到小的顺序排列起来。

() > () > () > () > () > ()

二、估计质量,用线连一连。(8 分)







32 千克

150 克

5 千克

200 千克

三、写出钟面上的时刻。(8 分)



四、判断。(对的画“√”,错的画“×”)(10 分)

1. 读数和写数时,都要从最高位读起和写起。 ()

2. 在减法中,被减数必须大于减数。 ()

3. 1 千克棉花和 1000 克铁比较,铁比较重。 ()



4. 学校教师节开茶话会,参加会的老师有 54 人,8 个人一桌,至少要准备 7 桌大家才能坐下。 ()

5. 最小的三位数与最大的两位数的差是 1。 ()

五、计算。(21 分)

1. 口算。

$16 \div 4 =$	$9 \times 7 =$	$64 \div 8 =$	$87 - 9 =$
$5 \times 9 =$	$63 - 9 =$	$4 \times 9 =$	$65 \div 9 =$
$50 - 8 =$	$55 \div 9 =$	$68 - 50 =$	$7 \times 8 =$
$45 + 9 =$	$42 + 7 =$	$73 + 8 =$	$25 + 17 =$
$140 + 60 =$	$82 - 46 =$	$170 + 80 =$	$670 - 50 =$
$430 - 200 =$	$360 + 80 =$		

2. 用竖式计算,带☆的要验算。(18 分)

$29 \div 3 =$	$44 \div 5 =$	$50 \div 8 =$
---------------	---------------	---------------

☆ $375 + 608 =$	☆ $386 + 488 =$	☆ $470 + 248 =$
-----------------	-----------------	-----------------

六、解决问题。(30 分)

1. 爸爸、妈妈和小明三个人照相,变换他们的位置,可以照出几张不同的照片? 全部写出来。



2. 画出一个长方形和一个平行四边形。


3. 一套运动衣 305 元,一双运动鞋 129 元。


(1) 买一套运动衣和一双运动鞋共多少元?

(2) 一套运动衣比一双运动鞋贵多少元?

4. 同学们去动物园参观,一年级去了 256 人,二年级比一年级多去了 45 人,两个年级一共去了多少人?

5.



一个菠萝重 400 克,一个  重多少克?

