

期末检测题(A卷)(冀教版)

(时间:60分钟 总分:100分)

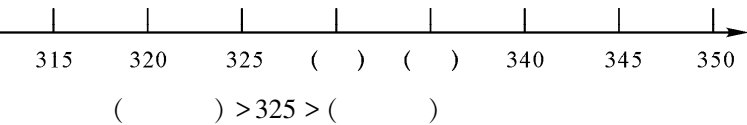
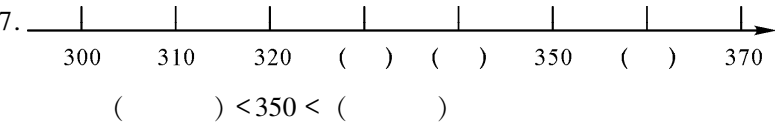
一、填空。(每空1分,共40分)

1. 小明每天记2个单词,他7天一共记()个单词。
2. 二年级科技兴趣小组收集了50只蝴蝶,平均放在7个盒子里,每个盒子放()只,还剩()只。

$\square \bigcirc \square = \square () \cdots \cdots \square ()$

3. 今年韶山小学平均每个班植树130棵,3个班一共植树()棵。
4. 5个一百是(),3个百和7个十组成()。
5. 三位数中最大的数是(),最小的数是()。
6. 写出下面各数。

六百零二() 9个百和8个一() 八百三十()



8. 548的最高位是()位,这个数读作()。
9. 用3、0、9组成一个三位数,最小是(),最大是()。
10. 按规律填空。
(1) 403、404、405、()、()、()。
(2) 500、510、520、()、()、()。
(3) 208、308、408、()、()、()。

二、判断题,对的打“√”,错的打“×”。(6分)

1. 6厘米等于60分米。()
2. 一个苹果重150千克。()
3. 一棵大树大约9厘米高。()
4. 20里面最多有3个6。()
5. 在有余数的除法中,余数要比除数小。()
6. 正方形的对边相等。()

三、计算。(16分)

1. 口算。(6分)

$155 + 332 =$ $467 - 126 =$ $900 - 800 =$

462 - 50 = 30 ÷ 8 = 50 ÷ 9 =

3. 用竖式计算,前两题要验算。(10 分)

478 + 235 = 304 - 256 = 70 ÷ 8 =

四、连线。(10 分)

71 ÷ 9	36 ÷ 4	33 ÷ 7	22 ÷ 6	25 ÷ 5
结果有余数		结果没余数		
35 ÷ 7	43 ÷ 8	82 ÷ 9	12 ÷ 4	67 ÷ 9

五、把符合要求的数圈起来。(5 分)

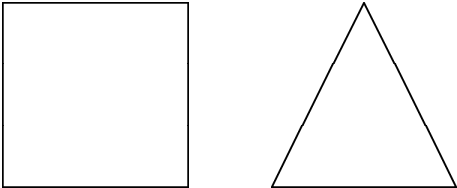
- 1. 比最大的两位数小 1 的两位数: 199 99 98 97
- 2. 百位上是 4 的数: 499 149 543 764
- 3. 比 320 多得多的数是: 322 889 310 321
- 4. 最接近 600 的数是: 499 149 593 864
- 5. 学校的跑道一圈的米数: 400 70 10 50

六、解决问题。(23 分)

1. 希望小学组织学生参观爱国主义教育基地。上午去了 269 人,下午比上午多去了 113 人,这一天一共有多少学生去参观?(5 分)

2. 一件羊毛衫是 220 元,一件大衣的价钱比一件羊毛衫的少 50 元。爸爸要买一件这样的大衣和一件这样的羊毛衫,他带了 400 元钱,够了吗?(5 分)

3. 如图,用小棒围三角形或正方形。



- (1) 用 23 根小棒一共可以围()个三角形,还剩()根。(4 分)
- (2) 用 23 根小棒一共可以围()个正方形,还剩()根。(4 分)
- 4. 小动物开联欢会,大象叔叔吹了 27 只气球,每个小动物要分 4 只,最多可以分给几个小动物? 还剩几个?(5 分)

○ = (个)…… (个)