

期末检测题(二)

时间:60 分钟

书写等级:_____

质量等级:_____

题 号	一	二	三	四	五	总 分
分 数						

一、填空。(共 35 分)

- $26 \div 7 = 3 \cdots 5$ 读作_____。
- $\triangle \div 8 = 3 \cdots \square$, \square 里最大是()。
- 33 米长的绳子,每 5 米剪一段,可以剪成这样的()段,还剩()米。
- 二(2)班有 33 个同学去划船,每条船能坐 5 人,要租()条船
- 一个数从右边起第()位是百位,第()位是十位。
- 408 读作_____,二百零五写作_____。
- $782 > \square 81$ \square 里可以填()。
- 根据每组数排列的规律接着往下写:
 - (1)270、280、290、____、_____。
 - (2)996、997、998、____、_____。
 - (3)108、207、306、____、_____。
- 填上合适的单位。

一瓶墨水大约重 60()	一块橡皮长 3()
文具盒大约 2()	房间宽 4()



10. 在○里填上 >、< 或 =。

3 厘米 ○ 3 分米

50 克 ○ 4 千克

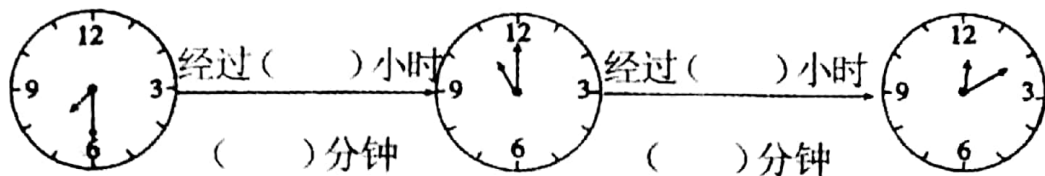
10 厘米 ○ 1 米

1 米 ○ 9 分米

6 秒 ○ 1 分

10 厘米 ○ 1 分米

11.



___时___分

___时

___时___分

二、计算。(共 30 分)

1. 直接写得数。

$78 + 19 =$

$100 - 73 =$

$80 - 35 =$

$29 + 17 =$

$700 + 20 =$

$450 - 230 =$

$280 + 90 =$

$300 + 200 =$

$3 + 500 =$

$390 - 20 =$

$500 + 200 =$

$720 - 400 =$

2. 脱式计算。

$262 + 202 - 47$

$386 + (403 - 258)$

$808 - 603 + 249$

3. 用竖式计算。

$600 - 274 =$

$808 - 194 =$

$389 + 274 =$

$289 + 374 =$

$861 - 375 =$

$38 \div 4 =$



三、对号入座。(共 10 分)

1. 一个苹果约重()。

①45 元

②200 克

③1 千克



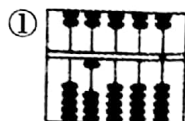
2. 秒针从钟面上的 3 走到 5, 经过的时间是()。

①2 分钟

②2 秒

③10 秒

3. 下面算盘中的数比 450 大的是()。



4.



我家离超市 200 米。

我家比你家离超市远得多。



小强家离超市可能有()米。

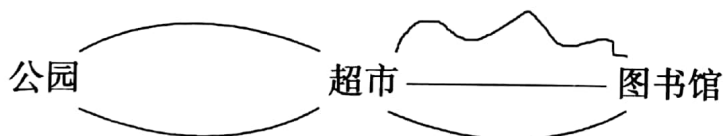
①205

②230

③100

④405

5. 如下图, 从公园到超市有 2 条路, 从超市到图书馆有 3 条路, 那么从公园经超市到图书馆共有()条路。


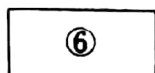
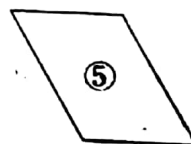
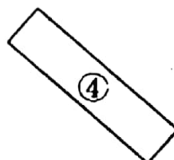

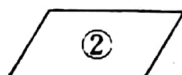
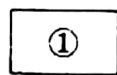


①5

②6

③1

四、按要求分一分。(共 9 分)



正方形

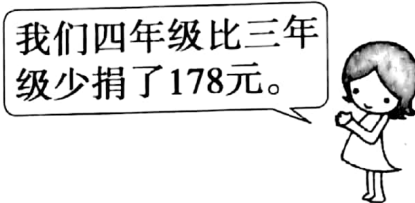
长方形

平行四边形



五、解决问题。(共 16 分)

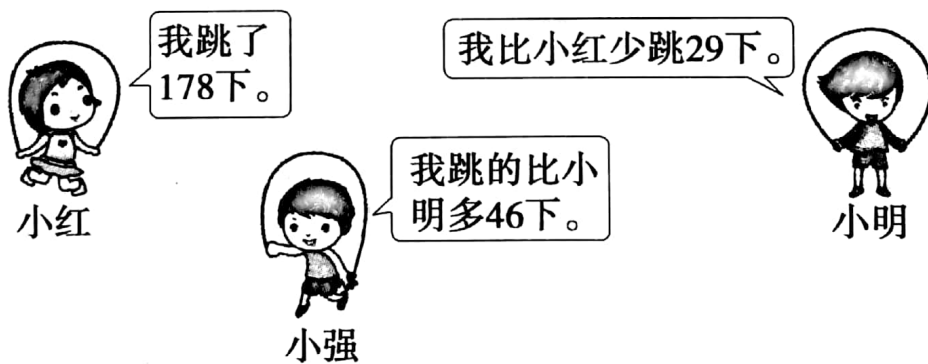
1. 学校举行为贫困地区小朋友捐款的活动。



三、四年级一共捐款多少元?

2. 一件上衣用 3 米布,妈妈买来 28 米布,可以做几件上衣?

3. 二年级举行跳绳比赛。



小强跳了多少下?

4. 2 只鸭子的质量等于 4 只鸡的质量。已知 1 只鸭子重 4 千克,一只鸡重多少千克?

