

期末检测题(三)

时间:60 分钟

书写等级:_____

质量等级:_____

题 号	一	二	三	四	五	总 分
分 数						

一、计算。(共 37 分)

1. 直接写得数。

$$\begin{array}{llll} 19 + 27 = & 96 - 61 = & 55 + 16 = & 18 + 26 = \\ 43 - 18 = & 25 + 56 = & 80 - 37 = & 56 - 33 = \\ 630 + 180 = & 430 - 250 = & 450 + 260 = & 760 - 480 = \end{array}$$

2. 用竖式计算。

$$496 + 501 = \qquad 519 + 282 = \qquad 601 - 299 =$$

$$419 + 301 = \qquad 519 - 303 = \qquad 381 - 245 =$$

$$55 \div 6 = \qquad 35 \div 4 = \qquad 74 \div 8 =$$



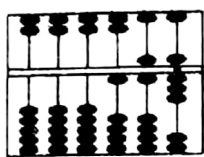
3. 脱式计算。

$$794 - (289 - 184) \quad 605 - 286 + 378 \quad 384 + 107 - 386$$

二、填空。(23 分)

1. 由 5 个百、3 个十和 8 个一组成的数是()。

2. 读写下面算盘上的数。



读作()

写作()

3. 写出下面钟表上的时刻。



()



()



()

4. 在○里填上“>”“<”或“=”。

$$1000 \bigcirc \text{一千}$$

$$63 \div 7 \bigcirc 2 \times 8$$

$$701\text{m} \bigcirc 701\text{cm}$$

$$210 + 100 \bigcirc 587$$

$$1000 - 800 \bigcirc 200$$

$$540 - 90 \bigcirc 470$$

5. 把 301 克、3 千克、70 克、20 千克按从轻到重的顺序排列。

() < () < () < () < ()

三、选择。(将正确答案的序号填在括号里)(共 8 分)

1. () \div () = 4……5, 除数最小是()。

①4

②5

③6

2. 下面三个数中, 最接近 1000 的数是()。

①980

②999

③1010

3. 下面的三种图形中,()的四条边都相等, 4 个角都是



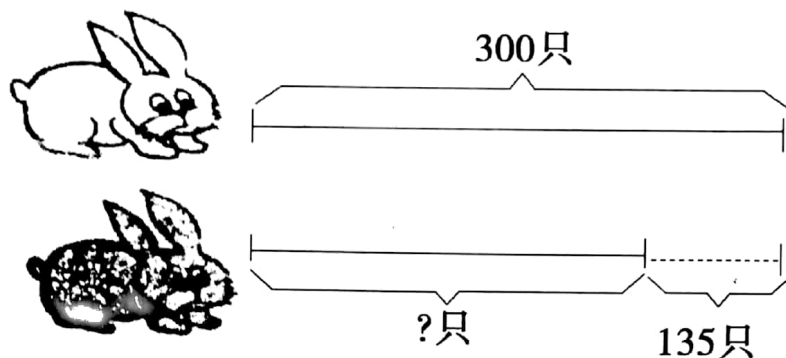
直角。

①正方形

②长方形

③平行四边形

4. 看一看,选一选。



如图所示:求白兔和黑兔共有多少只? 列式正确的是()。

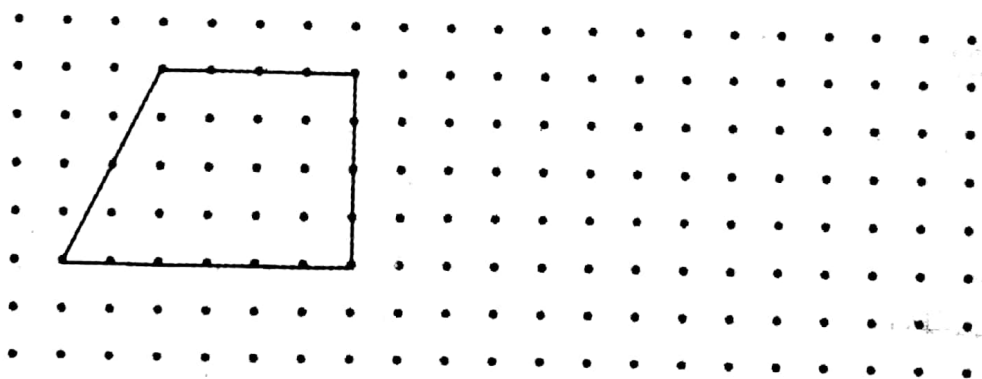
① $300 + 135$

② $300 - 135 + 300$

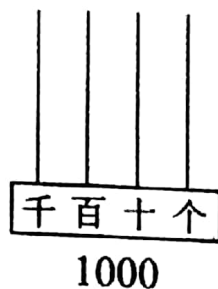
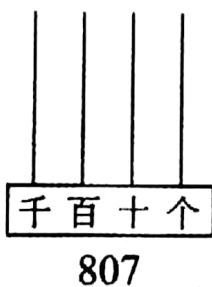
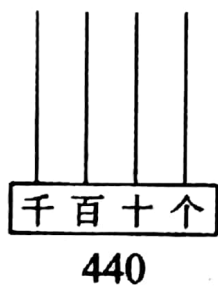
③ $300 + 300 + 135$

四、画一画。(共 12 分)

1. 在下面的图形里加一条线段,把它变成一个平行四边形和一个三角形,并在图中画一个正方形和一个长方形。



2. 在下面计数器上画珠子。



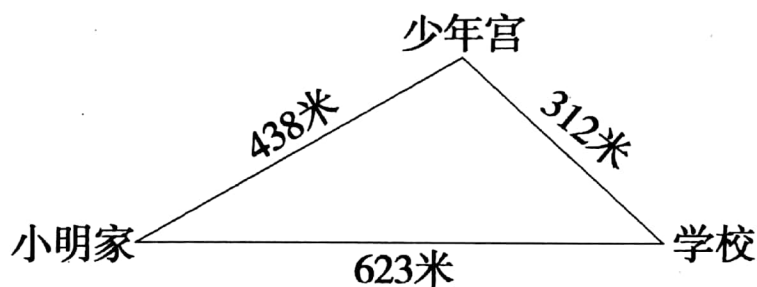
3. 画一条比 5cm 长 2cm 的线段。



五、解决问题。(共 20 分)

1. 新华小学一年级有少先队员 385 人,二年级少先队员人数比一年级多 99 人。一年级和二年级一共有少先队员多少人?

2. 如下图。小明从家经过少年宫到学校比小明从家直接到学校远多少米?



3. $\triangle \triangle \triangle \blacktriangle \blacktriangle \triangle \triangle \triangle \blacktriangle \blacktriangle \triangle \triangle \triangle \blacktriangle \blacktriangle$ 这样排列下去,第 27 个是哪个颜色的图形?

4. 4 件上衣和 2 条裤子,一共有几种搭配方案?

