

期末检测题(四)

时间:60 分钟

书写等级:_____

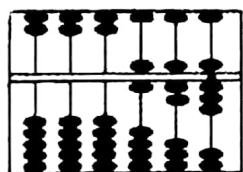
质量等级:_____

题 号	一	二	三	四	总 分
分 数					

一、填空。(共 44 分)

1. 个位上是最小的一位数,百位上是 8,十位上的数字比个位上的数字多 6,这个三位数是(),读作()。

2. 读写下面算盘上的数。




读作()


写作()

3. 把 401 克、4 千克、80 克、30 千克按从轻到重的顺序排列。
() < () < () < ()


4. 读出下面钟表上的时刻。



()



()



()

5. 在除法算式里,商是 8,除数是 9,余数是最大的一个,那么被除数是()。

6. 单位换算。

半时 = () 分 95 秒 = () 分 () 秒


30dm = () cm 150cm = () m () cm

7. 有 42 颗糖,平均分给 5 个小朋友,每个小朋友得到()



颗,还剩()颗。

8. 3 件衬衫 3 条裙子,1 条裙子和 1 件衬衫搭配着穿,共有()种穿法。



铅笔长约()厘米。

10. 用 2, 9, 6 组成的最大三位数是(), 最小三位数是()。

11. 分针指向 4, 时针在 9 和 10 之间, 这时是()时()分。

12. 用适当的单位填空。

(1) 一袋水泥重 50()。

(2) 爸爸一拃约长 18()。

(3) 小学生上一节课要 40() (4) 教室长约 8()。

(5) 1 个桃约重 300()。

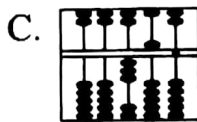
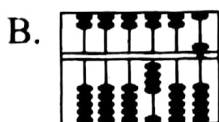
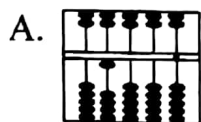
(6) 看一部电影需 1() 30()。

13. 一张长方形纸片有()个直角。如果连续对折两次后再打开, 一共有()个直角。

14. 从 57 个苹果中至少拿走()个后, 就可平均分给 9 个小朋友。

二、选择正确的答案。(10 分)

1. 下面算盘中的数比 400 小的是()。



2.



我家离学校 1000 米。

小方



我家比你家离学校少的多。

小明

小明家离学校可能有()米。

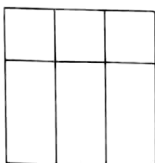
A. 950

B. 830

C. 100

D. 705



3.  左图中有()个长方形,()个正方形。

A. 15

B. 6

C. 3

4. 分针从钟面上的3走到8,经过的时间是()。

A. 2 分钟

B. 2 秒

C. 25 秒

5. 小明身高1米30厘米,比小华矮10厘米,小华身高()。

A. 40 厘米

B. 1 米 40 厘米

C. 1 米 20 厘米

三、计算。(共26分)

1. 口算。

$$23 + 48 = \quad 54 - 17 = \quad 240 - 70 = \quad 500 - 150 =$$

$$600 - 400 = \quad 70 + 290 = \quad 460 - 40 = \quad 80 + 50 =$$

$$90 + 400 = \quad 300 + 300 = \quad 430 - 60 = \quad 610 - 50 =$$

2. 列竖式计算。

$$73 \div 8 =$$

$$808 - 384 =$$

$$756 + 194 =$$

$$574 - 286 =$$

$$743 - 169 =$$

$$451 + 276 =$$

3. 脱式计算。

$$352 - 116 - 58$$

$$527 + 278 + 149$$

$$752 - (116 + 50)$$

$$942 - (432 + 298)$$



四、解决问题。(共 20 分)

1. 贝贝家到学校 600 米。



我家到学校比贝贝家近一些。

我家到学校比贝贝家远得多。



丽丽家离学校有多远? (画“√”) 强强家离学校有多远? (画“○”)

579 米	700 米	1000 米
()	()	()

2.



我每天看 6 页, 一周能看多少页?



(共 63 页)

我每天看 8 页, 至少几天可以看完?



3. 水果店运来 500 箱苹果, 第一天卖了 190 箱, 第二天卖了 274 箱。两天一共卖了多少箱苹果? 还剩多少箱苹果?

4. 下面有 4 名小朋友, 他们每 2 人要下一盘跳棋, 这 4 名小朋友共要下多少盘跳棋?



苗苗



红红



贝贝



乐乐

