



期末调研真题卷(二)

时间: 60分钟 分值: 100分

题号	一	二	三	四	五	六	总分
得分							

一、填空。(24分)


1. 下面的纸条长()厘米。



2. 579 是由()个百、()个十和()个一组成的。

3. 长方形的对边(), 四个角都是()。

4. 15 分米 - 7 分米 = () 分米



$$\square \div \square = \square (\text{个}) \cdots \cdots \square (\text{个})$$

6. 比较下面蝴蝶的数量, 并用“>”或“<”表示。



291 只 ○ 304 只

699 只 ○ 600 只

7. 在()里填上合适的质量单位。

一袋洗衣粉重 1() 一袋醋重 450()

一个橘子重 50() 一袋瓜子重约 200()



8. 在()里填上合适的时间单位。

做10道口算题用时1() 课间休息10()

爸爸每天工作8() 眼睛眨一下用1()

摸摸自己的脉搏,1()大约跳了80下。

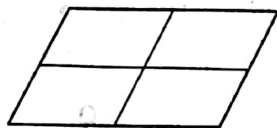
9. 一次科技研讨会上,三位科学家见面后,热情地握手,他们每两人握一次手,一共握()次手,然后三位科学家站成一排拍照留念,可以照出()张不同的照片。

二、判断。(10分)

1. 黑板长40厘米。 ()
2. 小亮身高115米。 ()
3. $300\text{克} + 700\text{克} = 1\text{千克}$ 。 ()
4. 878,十位上的7表示7个一。 ()
5. 长方形、正方形、平行四边形、圆都属于平行四边形。 ()

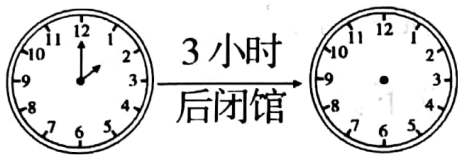
三、选择。(10分)

1. $63 \div 8 = 7 \cdots \square$,它的余数是()。
A. 8 B. 9 C. 7
2. 一个足球重()。
A. 250千克 B. 400克 C. 25千克
3. 右面的图形中一共有()个平行四边形。
A. 5 B. 8 C. 9
4. 用0、6、8可以组成()个不同的三位数。
A. 4 B. 5 C. 6
5. 甲、乙、丙三人进行乒乓球比赛,如果两人比赛一场,共需进行()场。
A. 3 B. 5 C. 6



四、我会填。(8分)

学校图书馆下午的开放时间如钟面所示。



1. 开馆时刻是()。
2. 根据条件在钟面上画出闭馆的时刻。

五、计算。(24分)

1. \square 里最大能填几?(6分)

$$\square \times 8 < 42$$

$$\square \times 9 < 55$$

$$\square \times 5 < 21$$

$$4 \times \square < 30$$

$$3 \times \square < 29$$

$$6 \times \square < 41$$

2. 三位数加减三位数。(4分)

$$198 + 517 =$$

$$338 - 116 =$$

$$425 - 292 =$$

$$332 + 410 =$$

$$164 + 66 =$$

$$140 + 358 =$$

$$765 - 205 =$$

$$262 + 236 =$$

$$770 - 153 =$$

$$493 - 214 =$$

$$812 + 73 =$$

$$526 - 257 =$$

$$474 + 189 =$$

$$445 - 221 =$$

$$529 - 485 =$$

3. 、各代表多少?(7分)

$$\begin{array}{r} 9 \text{ } \\ - \text{ } 3 \\ \hline 5 \quad 7 \end{array}$$

$$\text{} = (\quad)$$

$$\text{} = (\quad)$$

$$\begin{array}{r} \text{} \text{ } \\ - 2 \quad 8 \\ \hline 4 \quad 4 \end{array}$$

$$\text{} = (\quad)$$

$$\text{} = (\quad)$$

$$\begin{array}{r} 4 \quad 6 \\ - \text{ } \\ \hline 3 \quad 8 \end{array}$$

$$\text{} = (\quad)$$

$$\begin{array}{r} \text{} 5 \\ + 2 \text{ } \\ \hline 6 \quad 9 \end{array}$$

$$\text{} = (\quad)$$

$$\text{} = (\quad)$$



4. 在□里填上合适的数。(7分)

$$\begin{array}{r} 28\square \\ + 1\square5 \\ \hline 403 \end{array}$$

$$\begin{array}{r} \square2\square \\ - 6\square7 \\ \hline 241 \end{array}$$

$$\begin{array}{r} 5\square7 \\ + 3\square4 \\ \hline 921 \end{array}$$

六、生活中的数学。(24分)

1. 小军拿 13 元钱去买本子,每个本子 3 元,能买几个? 还剩多多少钱?

2. 商店卖出智能手机 50 台,卖出 ipad168 台,卖出的智能手机比 ipad 少多少台?

3. 奶奶早晨锻炼身体,从 6 时开始,到 6 时 50 分结束,奶奶锻炼身体共多长时间?

