



期末调研真题卷(三)

时间: 60分钟 分值: 100分

题号	一	二	三	四	五	六	七	总分
得分								

一、口算。(10分)

$30 \div 4 =$

$35 \div 7 =$

$50 \div 6 =$

$21 \div 3 =$

$34 \div 8 =$

$72 \div 9 =$

$10 \div 3 =$

$16 \div 5 =$

$29 \div 4 =$

$55 \div 9 =$

$73 \div 8 =$

$63 \div 7 =$

$40 \div 5 =$

$52 \div 8 =$

$24 \div 4 =$

二、填空。(29分)


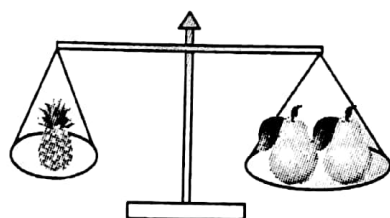
1. 46 厘米 + 54 厘米 = () 厘米 = () 分米 = () 米

2. 东东身高 80 厘米, 他再长 () 厘米正好是 1 米。

3. 32 个气球, 平均分给 6 个同学, 每人可以分 () 个, 还剩 () 个。

4. 一个数除以 5, 余数最大是 ()。

5.



() 最轻, () 最重。

6. 24 个十减去 9 个十得 () 个十, 写作 ()。

7. $5\square 8 < 542$, \square 里最大填 ()。



8. 在()里填上合适的质量单位。



200 () 800 () 4 () 3 ()

9. 学校上午 8 时上第一节课,每节课 40 分,第一节下课是()时
()分,课间休息 10 分,第二节课()时()分开始
上课。

10. 在○里填上“>”“<”或“=”。

$980 \bigcirc 908$

$725 \bigcirc 752$

$1000 \bigcirc 900$

$23+25 \bigcirc 50$

$7 \times 9 \bigcirc 9 \times 7$

$8 \times 6 \bigcirc 6 \times 8$

$56 \div 7 \bigcirc 24 \div 3$

$3 \text{ 千克} \bigcirc 300 \text{ 克}$

$54 \text{ 克} \bigcirc 5 \text{ 千克}$

三、判断。(10 分)

1. 一步长 80 厘米。 ()
2. 980 读作九百八零。 ()
3. 三角形也是四边形。 ()
4. 一个鸡蛋约重 45 千克。 ()
5. 5 个百和 3 个十组成 503。 ()

四、选择。(8 分)

1. 一根筷子长()。
A. 20 米 B. 20 厘米 C. 20 克
2. 长方形有()个直角。
A. 2 B. 3 C. 4



3. 600 里面有()个十。

A. 6

B. 60

C. 600

4. 5 个 2 分硬币大约重()。

A. 5 克

B. 5 千克

C. 5 米

五、按要求做题。(16 分)

1. 在()里填上合适的单位名称。(5 分)



眨 1 下眼睛大约需要 1() 笑笑每天睡 9()

课间休息时间为 10() 淘气吃饭用了 15()

小刚跑 50 米大约用 14()

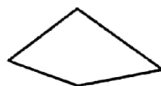


2. 用字母表示下面横线上的长度单位。(6 分)

折尺的长度是1 米。()

小红的身高是1 米 7 厘米。()

尺子长20 厘米,也就是2 分米。()

3. 下列图形中哪些是平行四边形? 请涂上自己喜欢的颜色。(5 分)



六、计算。(9 分)

$$365 + 36 =$$

$$122 + 188 =$$

$$542 + 25 =$$

$$446 + 52 =$$

$$581 + 63 =$$

$$23 + 139 =$$

$$144 - 19 =$$

$$271 - 119 =$$

$$316 - 16 =$$



七、生活中的数学。(18 分)

1. 草地上有白羊 76 只,黑羊比白羊多 26 只,草地上一共有多少只羊?

2. 幼儿园小朋友分糖吃,一共有 29 块糖,平均每人分得 3 块,可以分给几个小朋友? 还剩几块?

3. 小明的妈妈带 300 元钱到商店,买了一副手套,花了 29 元钱,买了一双鞋花了 147 元钱。

①小明妈妈一共花了多少钱?

②小明妈妈还剩多少钱?

③一双鞋比一副手套贵多少钱?

