



河北省部分市县期末调研真题精选

(八) 承德市调研试题

题号	一	二	三	四	总分
得分					

一、填一填。(22分)

- 3 米 = () 分米 600 厘米 = () 米
- 一个数百位上是 5, 十位上是 0, 个位上是 8, 这个数是 (), 读作 ()。
- 填上合适的质量单位。



400 ()



2 ()



20 ()



100 ()

4. 按规律写数。

365, 370, 375, 380, (), ();

560, 570, 580, 590, (), ();

750, 800, 850, 900, (), ()。

5. 把下面三种蔬菜按不同的位置摆放, 有 () 种摆法。



6. 写出钟面上表示的时刻。



()



()



()



()

7. 根据下面的算式, 分别写出两个有关的算式。

$$584 - 235 = 349$$

()

()

$$408 + 319 = 727$$

()

()



8. 哪个图形表示的数大? (填“>”或“<”)

$$120 + \star = 150 + \triangle$$

$$\square - 22 = \star - 28$$

$$\star \bigcirc \triangle$$

$$\square \bigcirc \star$$

二、计算。(23 分)

1. 直接写出得数。

$$\textcircled{1} 66 + 32 =$$

$$\textcircled{2} 95 - 35 =$$

$$\textcircled{3} 70 + 120 =$$

$$\textcircled{4} 180 - 90 =$$

$$\textcircled{5} 320 + 80 =$$

$$\textcircled{6} 450 - 60 =$$

2. 列竖式计算。

$$\textcircled{1} 521 - 316$$

$$\textcircled{2} 204 + 298$$

$$\textcircled{3} 55 \div 7$$

$$\textcircled{4} 76 \div 9$$

3. 用自己喜欢的方法计算。

$$\textcircled{1} 166 + 248 + 322$$

$$\textcircled{2} 307 + (206 - 199)$$

$$\textcircled{3} 562 - (483 - 209)$$

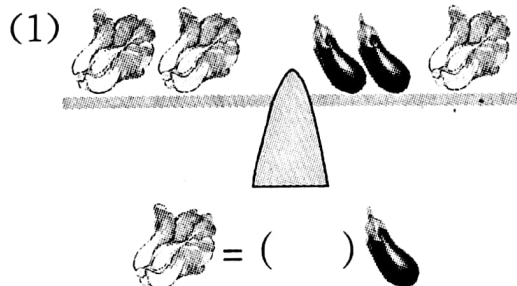
三、做一做。(25 分)

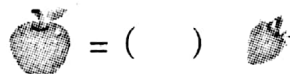
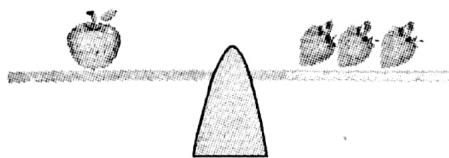
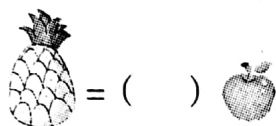

1. 用 \triangle 、 \square 、 \bigcirc 三个图形表示 324。

千位	百位	十位	个位


我用 \triangle 表示一个(), 用 \square 表示一个(), 用 \bigcirc 表示一个()。

2. 根据下面的天平图推算。





3. 下面是一个长方形。



(1) 量得长方形的长是()厘米, 宽是()厘米。

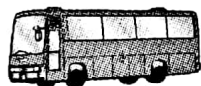
(2) 从长方形上剪下一个最大的正方形, 如何剪, 画在图上, 正方形的边长是()厘米。

(3) 想一想, 剩下的长方形的长是()厘米, 宽是()厘米。

(4) 把这个长方形剪开, 拼成一个平行四边形, 怎样剪画在图上。

4. 乘车去旅游。

25 人



限乘客 8 人



限乘客 3 人

可以怎样乘车, 请你制定两个方案, 用算式表示出来。

四、生活中的数学。(30 分)

1. 做一个小灯笼需要 4 张纸。

(1) 22 张纸可以做几个小灯笼, 还剩几张纸?

(2) 30 张纸可以做几个小灯笼, 还剩几张纸?



2. 小小图书馆。



小小图书馆藏书

种类	数量/本
科技书	230
故事书	125
连环画	268

(1)科技书和连环画一共有多少本?

(2)故事书比科技书少多少本?

(3)科技书和故事书的总数比连环画多多少本?

3. 兔有多少只?

公鸡 64 只,
母鸡 260 只



兔比鸡少
76 只

