

全真模拟训练卷

普通学校卷

(二)

题号	一	二	三	四	五	六	七	总分
得分								

一、填空。(26 分)

1. 苹果每千克 8 元,48 元能买(6)千克苹果。
2. 2090 读作(二千零九十),它是由(9)个十和(2)个千组成的。
3. 写出 4999 后面紧连的 2 个数:(5000),(5001)。
4. 最小的三位数是(100),最大的四位数是(9999)。
5. 按要求排列下面各数。
1990 1998 1989 2000 199
(199) < (1989) < (1990) < (1998) < (2000)
6. 一盏台灯原价 400 元,现价 300 元,便宜了(100)元。
7. 5 千克=(5000)克,4500 克=(4)千克(500)克。
8. 里最大能填几?

$$\boxed{6} \times 4 < 26$$

$$\boxed{5} \times 5 < 28$$

$$\boxed{8} \times 6 < 53$$

$$\boxed{8} \times 3 < 25$$

$$7 \times \boxed{5} < 38$$

$$9 \times \boxed{6} < 60$$

9. 在括号里填上合适的质量单位。



重 5(千克)。



重 200(克)。



重 20(千克)。

二、判断,正确的在括号里画“√”,错误的在括号里画“×”。(8分)



10千克棉花比10千克的木头轻。

(×)

一个四位数,它的最高位是千位。



(√)



十位上的7表示的数比千位上的3表示的数大。

(×)

在除法算式中,余数一定要比除数小。



(√)

三、脱式计算。(18分)

$$\begin{aligned} & (26-14) \div 3 \\ &= 12 \div 3 \\ &= 4 \end{aligned}$$

$$\begin{aligned} & 76-21+13 \\ &= 55+13 \\ &= 68 \end{aligned}$$

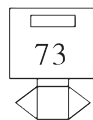

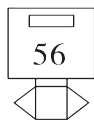
$$\begin{aligned} & 64 \div (31-23) \\ &= 64 \div 8 \\ &= 8 \end{aligned}$$

$$\begin{aligned} & 41+52-36 \\ &= 93-36 \\ &= 57 \end{aligned}$$

$$\begin{aligned} & 42-36 \div 6 \\ &= 42-6 \\ &= 36 \end{aligned}$$

$$\begin{aligned} & 56-(26+24) \\ &= 56-50 \\ &= 6 \end{aligned}$$

四、猜一猜,连一连。(6分)



我的邮箱号是最小的。



我的邮箱号是……

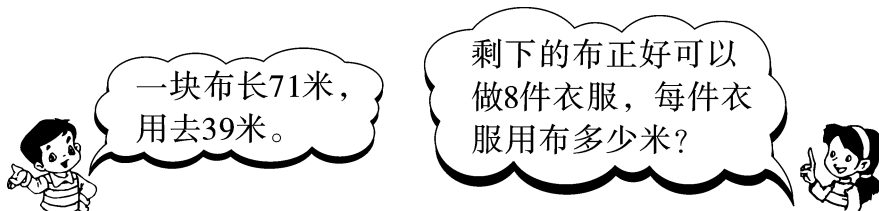


我的邮箱号不是最大的。



五、用数学。(16 分)


1. 做衣服。(5 分)



【答案】 $(71-39) \div 8 = 4$ (米)

答: 每件衣服用布 4 米。

2. 买皮球。(5 分)



【答案】 $8 \times 6 + 52 = 100$ (元)

答: 妈妈原来有 100 元钱。

3. 二(1)班的 18 名男生和 17 名女生准备乘车去公园玩。(6 分)



(1) 如果都乘面包车, 那么至少需要几辆?

【答案】 $(18+17) \div 9 = 3$ (辆) $\cdots \cdots 8$ (人) $3+1=4$ (辆)

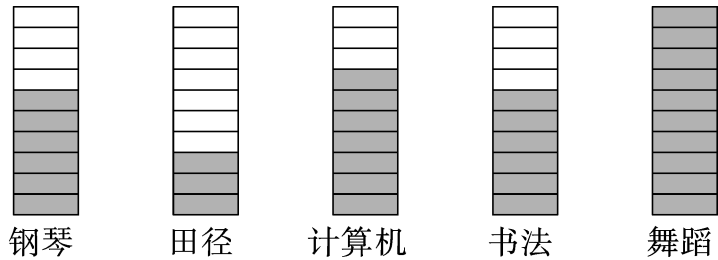
答: 至少需要 4 辆。

(2) 如果都乘出租车, 那么至少需要几辆?

【答案】 $(18+17) \div 4 = 8$ (辆) $\cdots \cdots 3$ (人) $8+1=9$ (辆)

答: 至少需要 9 辆。

六、二(1)班有 56 名同学,他们参加课外兴趣小组的情况如下图。(每人只能参加一个课外兴趣小组)(19 分)



每个 ☐ 代表 1 人。

1. 完成下面的统计表。(5 分)

课外兴趣小组	钢琴	田径	计算机	书法	舞蹈
人数	6 人	3 人	7 人	6 人	10 人

2. 二(1)班一共有(32)人参加课外兴趣小组,有(24)人没参加。(4 分)

3. (舞蹈)兴趣小组最受同学们欢迎。(2 分)

4. 参加(钢琴)兴趣小组和(书法)兴趣小组的人数一样多。

(4 分)

5. 你还能提出什么问题? 自己提一提并解答。(4 分)

【答案】答案不唯一,如:参加什么兴趣小组的人数最少?

答:参加田径兴趣小组的人数最少。

七、(创新题)田田练了 8 天字,前 7 天,每天练 4 张纸,最后 1 天练了 5 张纸。田田 8 天一共练了多少张纸?(7 分)

【答案】 $4 \times 7 + 5 = 33$ (张)

答:田田 8 天一共练了 33 张纸。

