

河北省部分市县期末调研真题精选

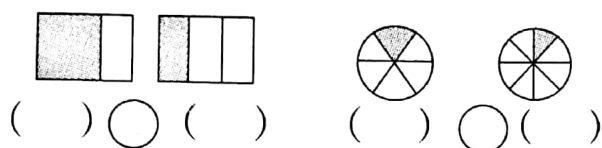
(十一) 沧州市泊头市调研试题

题号	一	二	三	四	五	总分
得分						

一、填一填。(每空 1 分,共 23 分)

1. 6 千米=()米 300 平方分米=()平方米

2. 用分数表示下面各图中的阴影部分,并比较它们的大小。



3. 我国人均耕地面积为 0.079 公顷,这个数读作()公顷;我国人均绿地面积为七点八九平方米,这个数写作()平方米。

4. 运动会立定跳远成绩如下表。

姓名	郭亮	马良	李天	赵宁	刘章	王臣
成绩(米)	1.68	1.79	1.65	1.81	1.70	1.76

获得第一名的同学是(),第二名是(),第三名是()。

5. 填上合适的单位名称。

数学课本厚 6() 游泳池的面积约是 1250()

红红身高 1.52() 练习本封面的面积约是 3()

6. 要放暑假了,聪聪和亮亮约定 7 月 30 日去游长城,今天是 6 月 12 日,从今天算起,到 7 月 30 日要经过()天。

7. 夏天到了,学校买来 32 台电风扇,每台的价格是 88 元,估一估,学校大约花了()元。

8. 王老师 15:30 开车从甲地出发,17:30 到达乙地,每小时行 62 千米,甲地到乙地的距离是()千米。

9. 学校组织夏令营活动,准备了红、黄、白三种颜色的帽子。小明、小亮、小丽三个人选择了不同颜色的帽子。小明:“我戴的不是红色的。”小



丽：“我戴的既不是红色的，也不是黄色的。”那么，小明戴的是（ ）色的帽子，小亮戴的是（ ）色的帽子，小丽戴的是（ ）色的帽子。

二、选一选。(14 分)

- 下面说法正确的是()。
A. 二月份有 29 天
B. 2018 年有 52 个星期零 2 天
C. 平年的 1 月和闰年的 1 月天数一样
- 在乘法竖式 $\begin{array}{r} 36 \\ \times 25 \\ \hline \end{array}$ 中,计算 2×3 时,实际计算的是()。
A. 20×3 B. 30×2 C. 20×30
- 学校操场的跑道每圈 400 米,亮亮跑了 5 圈,正好是()千米。
A. 2 B. 20 C. 200
- 中午 12 时用 24 时计时法表示是()。
A. 0:00 B. 12:00 C. 24:00
- 周长是 40 厘米的正方形,面积是()平方厘米。
A. 160 B. 1600 C. 100
- 把一张长方形纸对折 3 次,每份是这张纸的()。
A. $\frac{1}{3}$ B. $\frac{1}{4}$ C. $\frac{1}{8}$
- 一个学习小组有男生 6 人,女生 4 人,男生占这个小组人数的()。
A. $\frac{4}{10}$ B. $\frac{6}{10}$ C. $\frac{4}{6}$

三、计算。(20 分)

- 直接写出得数。

① $1 - \frac{7}{10} =$

② $\frac{3}{5} + \frac{1}{5} =$

③ $\frac{7}{9} - \frac{3}{9} =$

④ $\frac{5}{7} + \frac{2}{7} =$

⑤ $\frac{9}{16} + \frac{6}{16} =$

⑥ $\frac{12}{36} - \frac{8}{36} =$

⑦ $\frac{11}{40} + \frac{19}{40} =$

⑧ $\frac{17}{24} - \frac{15}{24} =$

- 列竖式计算。

① $2.8 + 8.6$

② $10 - 6.8$

③ 43×35

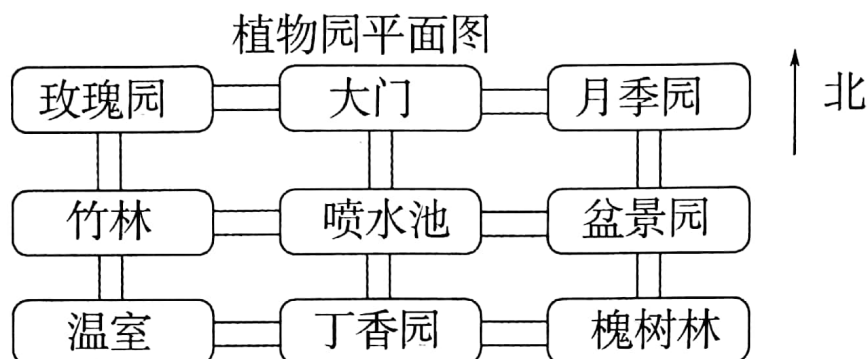
④ 57×82



四、做一做。(15 分)

1. 请你用图形分别表示 $\frac{1}{3}$ 和 $\frac{1}{4}$ 。

2. 看图认方向。

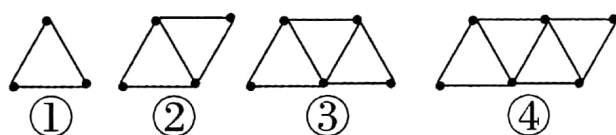


(1) 大门的西边是(), 东边是()。

(2) 竹林在丁香园的()方向, 丁香园在竹林的()方向。

(3) 从大门去盆景园要先向()走, 再向()走就到了。

3. 用火柴棒按下图的方式搭三角形。



(1) 从图②开始, 每增加一个三角形, 用几根火柴?

(2) 接着摆下去, 图⑤、图⑥各用几根火柴? 把各图三角形的个数和用火柴的根数填入下表。

图号	①	②	③	④	⑤	⑥
三角形个数(个)						
用火柴根数(根)						

五、生活中的数学。(28 分)

1. 妈妈买来一个西瓜, 聪聪吃了它的 $\frac{2}{8}$, 妈妈吃了它的 $\frac{3}{8}$ 。

(1) 他们一共吃了这个西瓜的几分之几?

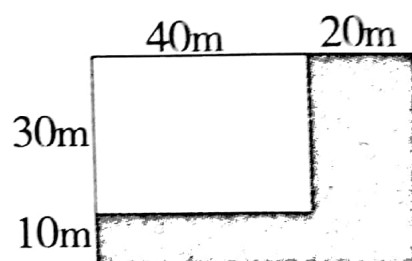


(2)爸爸回来后,把剩下的西瓜都吃了,爸爸吃了这个西瓜的几分之几?

2. 超市购进 30 箱冰糖雪梨,每箱 24 瓶,每瓶 3 元,超市一共花了多少元?

3. 一个长方形停车场,长 40 米,宽 30 米,扩建后如下图。

(1)这个停车场扩建后的面积是多少平方米?



(2)扩建后的停车场面积比原来增加了多少平方米?

4. 你最爱吃的水果是什么? 丫丫在三(2)班做了调查。

三(2)班同学最爱吃的水果调查表

最爱吃的水果	苹果	香蕉	雪梨	葡萄	桃子
人数(人)	√√√ √√√	√√√ √√	√√√√√ √√√	√√√ √	√√√√ √√√

(1)整理调查结果,填写在下面的统计表中。

最爱吃的水果	苹果	香蕉	雪梨	葡萄	桃子
人数(人)					

(2)从上面的统计结果中,你得到了哪些信息?

