

## 全真模拟训练卷

普通学校卷(二)

题号	一	二	三	四	五	六	七	总分
得分								

## 一、认真思考,仔细填写。(23分)

1. 在括号里填上合适的单位。

教室里课桌桌面的面积是 40( 平方分米 ),一颗纽扣的面积约是 2( 平方厘米 ),一个生活小区约占地 20000( 平方米 ),明明每天大约睡 8( 小时 )。

2. 在括号里填上合适的数。

400 平方分米=( 4 )平方米

3 时=( 180 )分

2 平方分米=( 200 )平方厘米

20 元 3 角 3 分=( 20.33 )元

3. 在
- $\bigcirc$
- 里填上“>”“<”或“=”。

0.56  $\bigcirc$  0.651.64 米  $\bigcirc$  16.4 分米0.48 元  $\bigcirc$  4.08 元3 时  $\bigcirc$  190 分

4. 用 24 时计时法表示下面的时刻。

早上 5:40

下午 4:30

晚上 8:00

( 5:40 )

( 16:30 )

( 20:00 )

5. 南京长江大桥铁路桥全长 6.772 千米,6.772 读作( 六点七七二 )。

6. 2011 年全年共有( 365 )天,是( 平 )年;2020 年全年共有( 366 )天,这一年的 2 月份有( 29 )天。

7. 一个长方形的长是 12 厘米,宽是 5 厘米,周长是( 34 )厘米,面积是( 60 )平方厘米。

8. 中华人民共和国是 1949 年 10 月 1 日成立的,到 2016 年的 10 月 1 日,经过了( 67 )周年。

## 二、我是小法官。(对的画“√”,错的画“×”)(5分)

1. 两位数乘两位数,积可能是两位数,也可能是三位数。

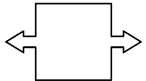
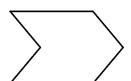


( × )

2. 边长是 4 厘米的正方形,它的周长和面积相等。

( × )

3. 琳琳出生于 1994 年 2 月 29 日。 ( × )  
 4. 妈妈 9 月 31 日从北京出差回来,给小刚带了变形金刚。 ( × )  
 5. 圆有无数条对称轴,半圆也有无数条对称轴。 ( × )

三、选一选,把正确答案的序号填在括号里。(5 分)

1. 下列年份中,( C )是闰年。  
 A. 1900 年      B. 1999 年      C. 1996 年      D. 2001 年
2.  $\square 24 \div 6$  的商是( C )。  
 A. 两位数      B. 三位数      C. 两位数或三位数
3. 下列图形中不是轴对称图形的是( C )。  
 A.       B.       C.       D. 
4. 8 袋面包重 16 千克,3 袋面包重( C )千克。  
 A. 2      B. 3      C. 6
5. 李想早上 8 时到学校,下午 4 时 30 分放学,李想一天在校的时间是( A )。  
 A. 8 小时 30 分钟      B. 10 小时 30 分钟      C. 9 小时

四、我是计算小能手。(24 分)

1. 看谁算得又对又快。(6 分)

$$\begin{array}{llll} 80 \times 20 = 1600 & 442 \div 2 = 221 & 40 \times 20 = 800 & 360 \div 6 = 60 \\ 248 \div 4 = 62 & 2.4 - 0.3 = 2.1 & 630 \div 7 = 90 & 9.6 - 2.8 = 6.8 \\ 2.5 + 4 = 6.5 & 1.2 + 3.6 = 4.8 & 600 \div 6 = 100 & 30 \times 90 = 2700 \end{array}$$

2. 用竖式计算,带※的要验算。(12 分)

$$15.23 - 0.32 = 14.91 \quad \quad \quad \text{※} 39 \times 55 = 2145 \quad \quad \quad 45 \times 72 = 3240$$

$$\begin{array}{r} \begin{array}{r} 15.23 \\ - 0.32 \\ \hline 14.91 \end{array} \quad \begin{array}{r} \begin{array}{r} 39 \\ \times 55 \\ \hline 195 \\ 195 \\ \hline 2145 \end{array} \quad \text{验算:} \quad \begin{array}{r} 39 \overline{) 2145} \\ \underline{195} \phantom{0} \\ 195 \phantom{0} \\ \underline{195} \phantom{0} \\ 0 \end{array} \quad \begin{array}{r} \begin{array}{r} 45 \\ \times 72 \\ \hline 90 \\ 315 \\ \hline 3240 \end{array} \end{array}$$

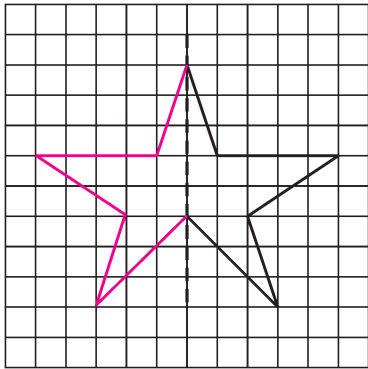
$$3.54 + 6.46 = 10 \quad \quad \quad \text{※} 287 \div 7 = 41 \quad \quad \quad 684 \div 6 = 114$$

$$\begin{array}{r} \begin{array}{r} 3.54 \\ + 6.46 \\ \hline 10.00 \end{array} \quad \begin{array}{r} \begin{array}{r} 41 \\ 7 \overline{) 287} \\ \underline{28} \phantom{0} \\ 7 \phantom{0} \\ \underline{7} \phantom{0} \\ 0 \end{array} \quad \text{验算:} \quad \begin{array}{r} 41 \\ \times 7 \\ \hline 287 \end{array} \quad \begin{array}{r} \begin{array}{r} 114 \\ 6 \overline{) 684} \\ \underline{6} \phantom{00} \\ 8 \phantom{0} \\ \underline{6} \phantom{0} \\ 24 \\ \underline{24} \\ 0 \end{array} \end{array}$$

3. 用你喜欢的方法计算。(6 分)

$$\begin{array}{lll} 25 \times 18 \times 4 & 63 \times (25 + 24) & 504 \div 2 \div 3 \\ = 25 \times 4 \times 18 & = 63 \times 49 & = 252 \div 3 \\ = 100 \times 18 & = 3087 & = 84 \\ = 1800 & & \end{array}$$

五、画出下面图形的另一半,使它成为轴对称图形。(3 分)



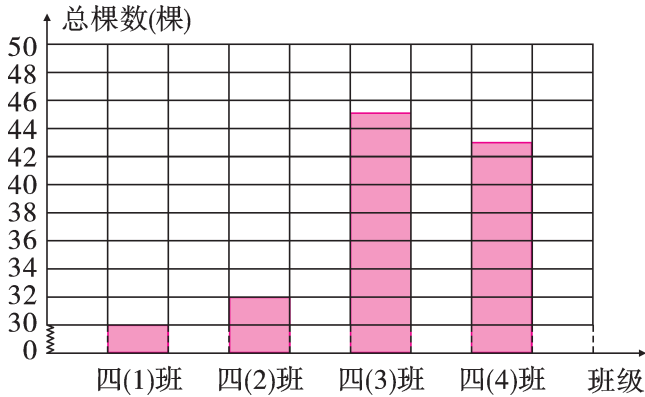
六、下面是实验小学四年级各班的种树情况。(15 分)

- 四(1)班种松树 22 棵,杨树 8 棵;
- 四(2)班种松树 20 棵,杨树 12 棵;
- 四(3)班种松树 24 棵,杨树 21 棵;
- 四(4)班种松树 23 棵,杨树 20 棵。

1. 根据上面的数据,完成下表。(4 分)

班级	四(1)班	四(2)班	四(3)班	四(4)班
总棵数(棵)	30	32	45	43

2. 完成下面的统计图。(4 分)



3. ( 四(3) )班种树最多,( 四(1) )班种树最少,两班相差( 15 )棵树。  
(3 分)

4. 四个班一共种了多少棵树?(4 分)

【答案】 $30+32+45+43=150$ (棵)

答:四个班一共种了 150 棵树。

七、走进生活,解决问题。(25 分)


1. 商店里有三种相框,价格如下:



5.8元



8.9元



7.8元

小华带了 15 元钱,要买两个相框,她该怎样买呢? 请用算式表示出来。(4 分)

【答案】 $5.8+8.9=14.7$ (元)(答案不唯一)

2. 小明和小强共有 303 张卡片,小明卡片的张数是小强的 2 倍,小强有多少张卡片?(4 分)

【答案】 $303\div(2+1)=101$ (张)

答:小强有 101 张卡片。

3. 小丽借了一本故事书,共 150 页,她 3 天一共看了 60 页。照这样的速度,一个星期能看完吗? 如果不能,那么请你给她提个建议。(4 分)

【答案】 $60\div3\times7=140$ (页)

$140<150$ ,不能看完。

答:不能看完,每天可以多看 2 页。(建议不唯一,合理即可)

4. 有一个收废电池的任务,红红如果每天收 28 节,那么 8 天就完成了任务,而明明 7 天就完成了同样的任务,明明每天收多少节废电池?(4 分)

【答案】 $28\times8\div7=32$ (节)

答:明明每天收 32 节废电池。

5. 一个长方形的长是 6 厘米,长比宽的 2 倍还长 2 厘米。这个长方形的面积是多少平方厘米?(4 分)

【答案】 $(6-2)\div2=2$ (厘米)

$6\times2=12$ (厘米<sup>2</sup>)

答:这个长方形的面积是 12 平方厘米。

6. (创新题)求出下面图形中阴影部分的面积。(5 分)

【答案】 $8\times8\div4\div2\times4=32$ (厘米<sup>2</sup>)

答:图形中阴影部分的面积是 32 平方厘米。

