

河北省部分市县期末调研真题精选

(七) 邢台市柏乡县调研试题

题号	一	二	三	四	五	六	总分
得分							

一、认真想,细心算。(10+6+9=25 分)

1. 直接写出得数。

$$15 \times 60 = \quad 400 \times 20 = \quad 125 \times 8 = \quad \frac{5}{6} - \frac{2}{6} = \quad \frac{5}{8} + \frac{3}{8} =$$

$$480 \div 8 = \quad 1.4 + 2.2 = \quad 6 - 0.5 = \quad 2.32 + 6.68 = \quad 15^2 =$$

2. 列竖式计算。

$$801.6 - 21.9 =$$

$$15.78 + 2.45 =$$

$$135 \times 24 =$$

3. 脱式计算。(能简算的要简算)

$$15.35 - (5.35 + 7.2) \quad 17 \times 25 \times 2 \times 4 \quad 10 - \frac{5}{7} - \frac{2}{7}$$

二、填一填,你能行!(25 分)

1. 据第六次人口普查公报显示,我市总人口为 370341 人,改写成以“万”为单位的数是()万人,这个小数读作(),约是()万人。(保留两位小数)

2. $\frac{5}{6}$ 里面有()个 $\frac{1}{6}$, 7 个 $\frac{1}{18}$ 是()。

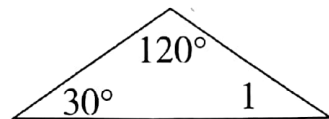
3. 0.24 的计数单位是(),它有()个这样的计数单位。



4. 5.068 扩大()倍是 5068,()缩小 100 倍是 0.025。
5. 一种花瓶单价为 x 元,上午卖出 3 个,下午又卖出 4 个,一天卖出花瓶共收入()元,当 $x=5$ 时,这一天共卖出()元。

6. $3 \div 4 = \frac{(\quad)}{(\quad)} = \frac{(\quad)}{16} = \frac{24}{(\quad)} = (\quad)$ (填小数)

7. 右图三角形 $\angle 1$ 的度数是()。



8. 在 \bigcirc 里填上“ $>$ ”、“ $<$ ”或“ $=$ ”。

5.08 \bigcirc 5.8

2.34 \bigcirc 2.43

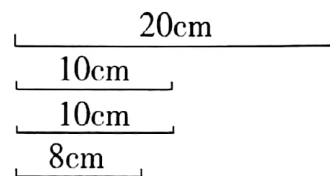
0.2 千米 \bigcirc 200 米

$\frac{10}{18} \bigcirc \frac{8}{36}$

0.39 $\bigcirc \frac{39}{100}$

9. 48 和 16 的最大公因数是(), $\frac{24}{36}$ 化简成最简分数是()。

10. 在右图四条线段中选择三条,围成一个三角形,围成的是()三角形,它的周长是()厘米。



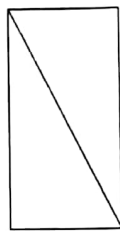
三、快乐 A、B、C。(将正确答案的序号填在括号里)(10 分)

1. 吸烟不仅有害健康而且花钱。如果一位吸烟者每天吸一包 18 元的香烟,那么他每年花在吸烟上的钱大约要()元。
A. 360 B. 5000 C. 7000 D. 10000
2. 明明今年 12 岁,妈妈今年 36 岁。如果用 a 表示明明某一天的年龄,用()表示妈妈这一年的年龄比较合适。
A. $3a$ B. $a+24$ C. $24a$ D. $a+36$
3. 根据 $6 \times 7 = 42$ 、 $66 \times 67 = 4422$ 、 $666 \times 667 = 444222$, 猜测 $6666 \times 6667 = (\quad)$
A. 44444222 B. 4442222 C. 44442222 D. 44444442
4. 下面的分数中,()不是最简分数。
A. $\frac{13}{52}$ B. $\frac{7}{12}$ C. $\frac{10}{21}$ D. $\frac{16}{17}$



5. 如图,为防止门框变形,木工师傅往往在门框上斜着钉一根木条,这利用了()。

- A. 三角形两边之和大于第三边
- B. 三角形内角和是 180°
- C. 三角形的稳定性
- D. 不能确定



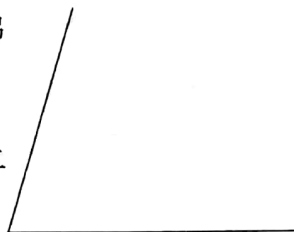
四、相信你能做出准确的判断。(对的在括号内打“√”,错的打“×”)(10分)

1. 在小数点的后面添上“0”或者去掉“0”,小数的大小不变。 ()
2. 两个数的最大公约数是12,这两个数的公约数的个数有6个。 ()
3. 把一个饼平均分成6份,每份是它的 $\frac{1}{6}$,5份是它的 $\frac{5}{6}$ 。 ()
4. 一个三角形的两个内角分别是 37° 、 52° ,这个三角形是钝角三角形。 ()
5. 0.5 和 0.7 之间有无数个小数。 ()

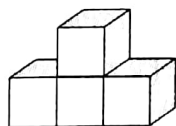
五、动画世界我翱翔——按要求操作。(7+6=13分)

1. (1)在右面空白处把梯形画完整(大小自定),并作出梯形的高。


(2)画一条线段,把这个梯形分成一个三角形和一个平行四边形。




2. 仔细观察下图,分别画出从不同方向上看到的图形。




正面看



上面看



右面看



六、解决生活中的问题。(4+4+4+5=17 分)

1. 实验小学的同学们和山区的小朋友们“手拉手”，给山区小学捐书 369 套，每套 18 本。如果每人只读一本书，这些书可以满足 7000 人同时阅读吗？

2.



妈妈一共带了50元钱，
买完东西，会找回多少
钱呢？



我刚买了6.30元的
青菜，再买38.8元
钱的肉。

3. 小明看一本 200 页的故事书，第一天看了 $\frac{2}{9}$ ，第二天看了 $\frac{1}{9}$ ，一共看了几分之几？还剩几分之几没看？

4. 四年级男女生赛假综合等级评定情况如下图。

(1) 男生在()等级的人数最多。

(2) 女生在()等级的人数最少。

(3) 这个班一共有()人，不及格的有()人。

(4) 根据图中数据，对这个班级的成绩进行简单的分析。

