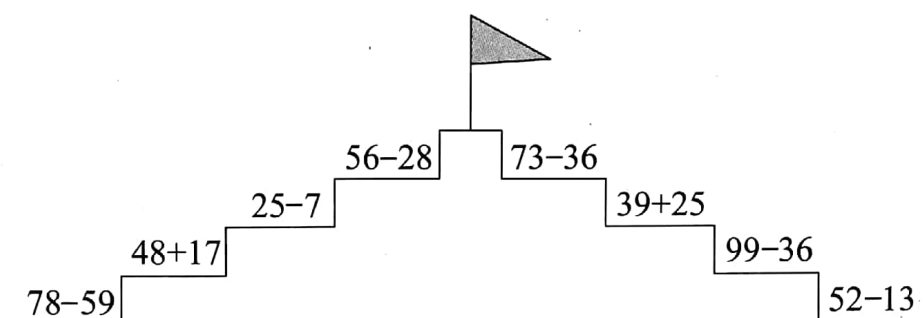


第七单元检测试卷

(时间:40 分钟 满分:100 分)

题号	一	二	三	四	五	六	七	八	九	总分
得分										

一、夺红旗。(8 分)



二、竖式计算。(12 分)

$$39 + 48 =$$

$$66 + 17 =$$

$$45 + 45 =$$

$$92 - 36 =$$

$$55 - 26 =$$

$$80 - 44 =$$

三、哪只小老鼠算错了? 改正过来。(6 分)


$$\begin{array}{r} 58 \\ + 27 \\ \hline 75 \end{array}$$

$$\begin{array}{r} 62 \\ - 34 \\ \hline 38 \end{array}$$

$$\begin{array}{r} 80 \\ + 43 \\ \hline 37 \end{array}$$



四、谁是冠军。(按得数大小排列算式)(10 分)



_____ > _____ > _____ > _____ > _____

五、蜜蜂采蜜。(12 分)

$$45+36$$

$$27-15$$

$$56-46$$



$$67-24$$

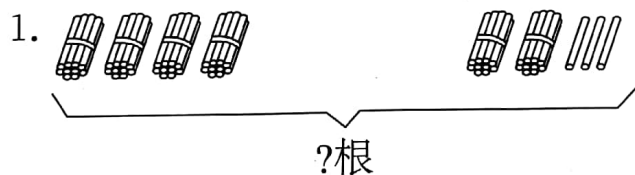
$$78-25$$

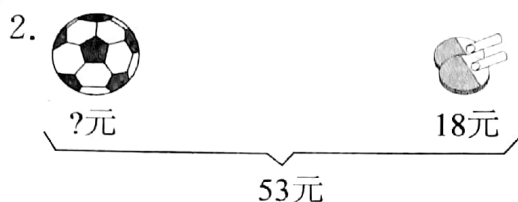
$$86-53$$

六、请把表格补充完整。(9 分)

品种	原有(箱)	卖出(箱)	还剩(箱)
苹果	65		23
梨	78	35	
香蕉		45	16

七、看图列式计算。(12 分)





八、列式计算。(6分)

1. 一个数是 66, 另一个数是 57, 这两个数相差多少?

2. 45 减去一个数还剩 18, 减去的这个数是多少呢?

九、解决生活中的问题。(25分)

1. 山坡上有 48 只白山羊, 黑山羊比白山羊多 15 只, 黑山羊有多少只?

2. 小浩投飞镖, 两次共投了 85 分, 第二次投了 39 分, 第一次投了多少分?

3. 还可以再上来多少位乘客?



