


## 第三单元检测试卷

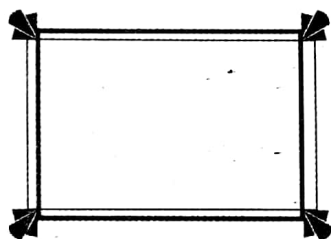
(时间:40 分钟 满分:100 分)

题号	一	二	三	四	五	六	七	八	总分
得分									

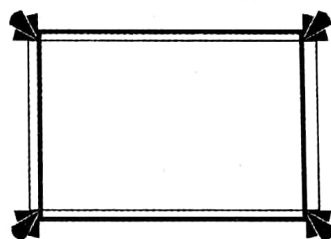
一、读出下面各数,并按要求填入方格里。(10 分)




个位是 1 的数



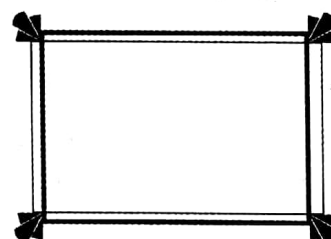
比 50 大的数



十位是 1 的数



比 50 小的数



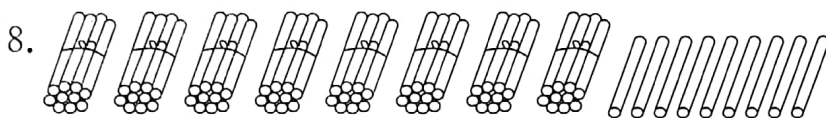
二、填空。(24 分)

- 在计数器上,从右边起:第一位是个位,第二位是( )位,第三位是( )位。
- ( )个一是一十,10 个十是( )。
- 56 里面有( )个十和( )个一。
- 7 个十和 5 个一组成的数是( )。
- 4 个十是( ),90 里面有( )个十。

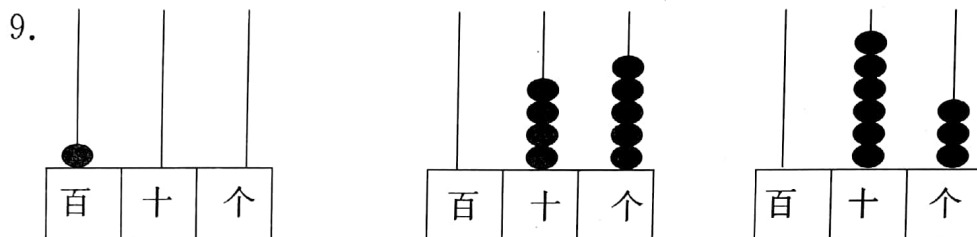


6. 37、38、( )、( )、41、42。

7. 45 前面的一个数是( )，后面的一个数是( )。



( )个十和( )个一是( )。



写作：( )

写作：( )

写作：( )

读作：( )

读作：( )

读作：( )

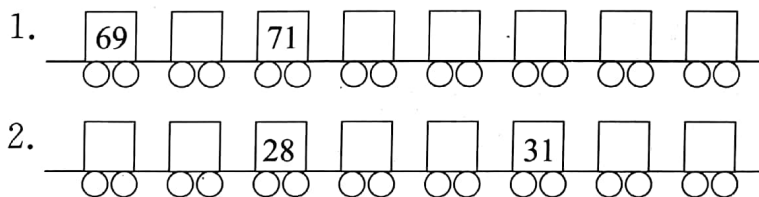
10. 个位是 6 的两位数共有多少个？写下来。

\_\_\_\_\_ 共( )个


11. 十位比个位上大 2 的两位数共有多少个？写下来。

\_\_\_\_\_ 共( )个

### 三、数字接龙。(12 分)



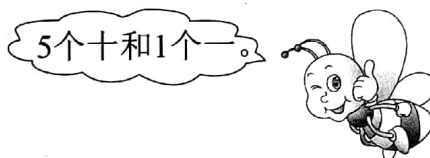
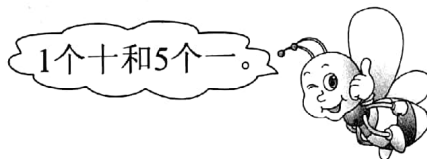

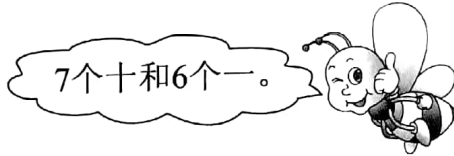
### 四、排队，按从大到小的顺序把数填入□里。(10 分)



□ > □ > □ > □ > □



五、连一连。(8 分)



六、我会选。(在合适的答案下画“√”)(15 分)

1.

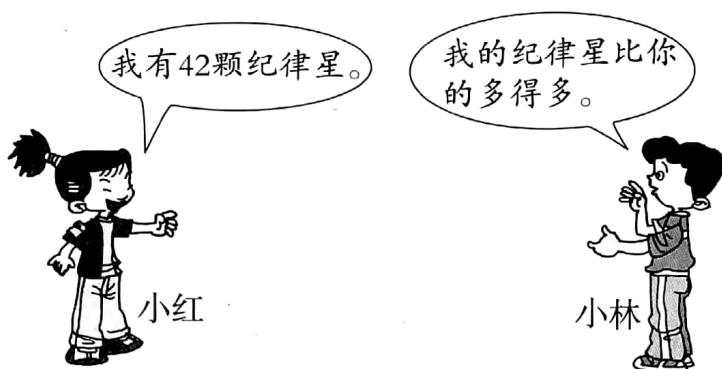


鸭有多少只?

32 只	40 只	80 只



2.



小林可能有多少颗纪律星？

32 颗	50 颗	93 颗

3. 老师买来 48 个本子，给美术小组的同学每人发一本，还剩下很多，美术小组可能有多少人？

39 人	56 人	15 人

七、看数画珠。(6 分)

百	十	个

43

百	十	个

25

百	十	个

100

八、想一想，填一填。(15 分)

- 在 3、5、7 三个数字中，任选两个组成两位数，可以组成( )个不同的两位数，其中最大的是( )，最小的是( )。
- 乐乐做仰卧起坐，一分钟做了 51 个，得了第一名，洋洋做 49 个得了第三名。小宁得了第二名，小宁做了( )个仰卧起坐。
- 十位上的数与个位上的数之和是 15，这个数可能是( )。

