

第四单元检测试卷

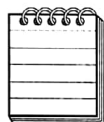
(时间:40 分钟 满分:100 分)

题号	一	二	三	四	五	六	七	总分
得分								

一、填一填。(20 分)

1. 人民币的单位有()、()、()。

2. 写价格。



8.30 元

5.20 元

2.40 元

19.00 元

()元()角 ()元()角 ()元()角 ()元()角

3. 将下列物品的价格按由高到低的顺序排队。



13 元 4 角



39 元

78 元

3 元 5 角

42 元

_____、_____、_____、_____、_____。

4. (1) 一张  可以换 () 张  和 ()

张 。

(2) 一张  可以换 () 张  和 ()

张 。



二、计算。(24 分)

$2 \text{ 角} + 6 \text{ 角} =$

$7 \text{ 元} + 6 \text{ 元} =$

$1 \text{ 元} 3 \text{ 角} + 5 \text{ 角} =$

$3 \text{ 角} + 7 \text{ 角} =$

$4 \text{ 分} + 6 \text{ 分} =$

$3 \text{ 元} 6 \text{ 角} + 2 \text{ 元} =$

$5 \text{ 角} + 8 \text{ 角} =$

$1 \text{ 元} - 5 \text{ 角} =$





$2 \text{ 元} 1 \text{ 角} + 9 \text{ 角} =$

$11 \text{ 元} + 5 \text{ 元} =$

$10 \text{ 元} - 3 \text{ 角} =$

$1 \text{ 元} 5 \text{ 角} + 5 \text{ 角} =$

三、下面的商品应该怎样付钱？照样子填表。(12 分)

商品					
单价		14 元 3 角 5 分	28 元 6 角 5 分	49 元 7 角	30 元 8 角
应 付	10 元	1 张	() 张	() 张	() 张
	1 元	4 张	() 张	() 张	() 张
	1 角	3 个	() 个	() 个	() 个
	1 分	5 个	() 个	() 个	() 个

四、小猫迷路了，快来把它们送回家吧！(8 分)



一支钢笔 15()

一个棒棒糖 5()

一个篮球 48()

一个练习本 8()



五、走进超市。(16 分)



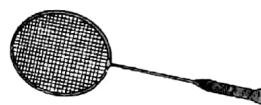
5 元



35.00 元



1 元 5 角



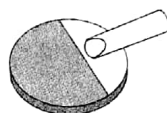
16 元



5 角








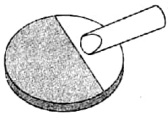



2.00 元



9 元



20 元

买的物品	应付的钱(列算式)
 	
 	
 	
  	

六、购物。(8 分)

小马虎来到商店买了 1 个练习本,2 枝铅笔,共花去 8 角钱。
1 个练习本的价钱相当于 2 枝铅笔的价钱,那么一个练习本多少钱呢?



七、我帮妈妈买东西。(12分)



4元5角



2元3角



3元2角



4元5角



7元

- (1) 买一瓶酱油和一管牙膏应付多少钱?

- (2)一袋洗衣粉比一块香皂贵多少钱?

- (3) 自己提出问题,并解答。

