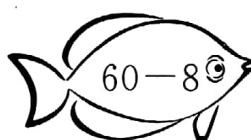
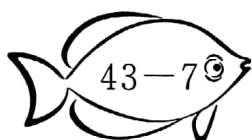
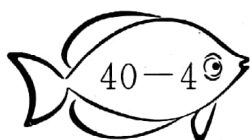
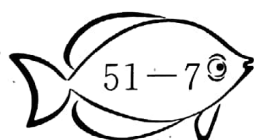
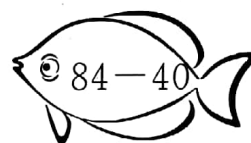
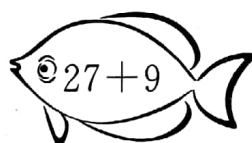




第五单元检测试卷

(时间:40 分钟 满分:100 分)

题号	一	二	三	四	五	六	七	八	总分
得分									

一、连一连,看看小猫能吃到哪条鱼。(8 分)



二、在○里填>、<或=,在□里填最大的数。(9 分)

$37+20 \bigcirc 67$

$40 \bigcirc 20+21$

$38+40 \bigcirc 78$

$98-80 \bigcirc 28$

$36 \bigcirc 49-7$

$58-9 \bigcirc 40$

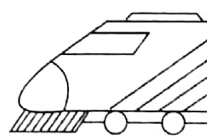
$39-\square > 12$

$\square + 20 < 37$

$8+\square < 26$



三、帮小动物找到它的车厢，算出得数并连线。(18 分)

	得数的十位、个位相差4	得数的个位是5	得数最小	得数在40~50之间	得数最大	得数的十位、个位相差7	得数在30~40之间	得数的个位是0	得数十位、个位上的数相同
---	-------------	---------	------	------------	------	-------------	------------	---------	--------------


 $21-4=$

 $66-6=$

 $23+8=$


 $82-40=$

 $46+5=$

 $58+40=$

 $55+30=$

 $99-70=$

 $84-7=$

四、列竖式计算。(18 分)

$$24+8=$$

$$7+46=$$

$$34-8=$$

$$55+9=$$

$$21-8=$$

$$67+7=$$




五、填一填。(12 分)

1. $33 \xrightarrow{-8} \square \xrightarrow{+7} \square \xrightarrow{+40} \square \xrightarrow{-6} \square \xrightarrow{+9} \square \xrightarrow{-6} \square$

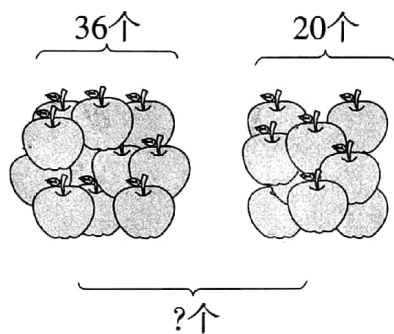
2. $56 \xrightarrow{+8} \square \xrightarrow{-7} \square \xrightarrow{-30} \square \xrightarrow{+7} \square \xrightarrow{-8} \square \xrightarrow{+9} \square$



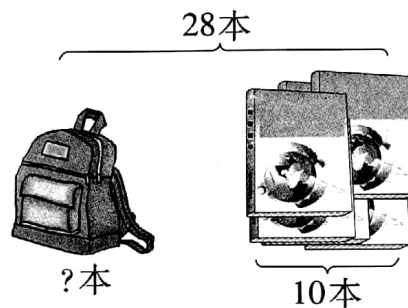
六、体育用品店。(12 分)

			
原来有	45 个	() 个	32 个
卖出	20 个	28 个	() 个
还剩	() 个	9 个	30 个

七、看图列式计算。(10 分)



$$\square \bigcirc \square = \square (\text{个})$$



$$\square \bigcirc \square = \square (\text{本})$$

八、解决问题。(13 分)

1.



(1) 买一桶食用油和一袋大米要用多少钱?



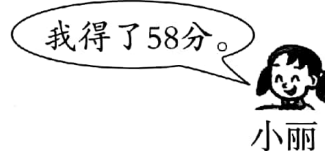


(2)买一桶食用油和一瓶酱油一共多少钱?

(3)你还能提出什么数学问题?

问题:

列式:

2. 小刚、小芳、小丽一起玩套圈游戏。他们每人套两次,可能套中哪两个小动物呢?(把序号填在括号里)



小刚套上(),小丽套上(),小芳套上()。

