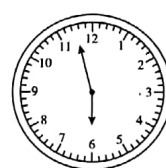
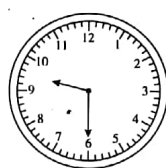




## 二、连一连。(10 分)



1 时

4 时半

9:30

大约 6 时

3:00

## 三、小动物们读得对不对？请你把错的读正确。(16 分)

1.



7 时

2.



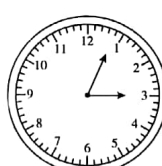
12 时

3.



11 时

4.



快 3 时了



#### 四、看钟表,用两种方法写出时间。(16分)



\_\_\_\_\_

\_\_\_\_\_

\_\_\_\_\_

\_\_\_\_\_

\_\_\_\_\_

\_\_\_\_\_

\_\_\_\_\_

\_\_\_\_\_

#### 五、仔细观察再填一填。(16分)

小红		乐乐			
----	--	----	--	--	--

			丽丽		
--	--	--	----	--	--

					
--	--	--	--	---	--

	小青				
--	----	--	--	--	--

					小明
--	--	--	--	--	----

第1组	第2组	第3组	第4组	第5组	第6组
-----	-----	-----	-----	-----	-----

讲台

玲玲

- 这个班共有( )个小组,每个小组有( )个座位。
  - 玲玲的前面有2人,后面有2人,左边有1人,右边有( )人。
- 小红的左边有( )人,前面有( )人。
- 小青的前面有( )人,后面有( )人。

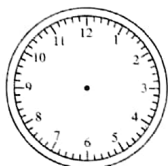


小明的后面有( )人,右边有( )人。

丽丽的左边有( )人,右边有( )人。

乐乐的前面有( )人,左边有( )人。

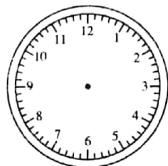
## 六、根据给出的时间画出时针和分针。(12分)



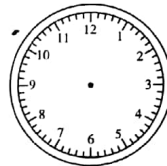
5:00



3:30



7时刚过



快4时了

## 七、智力快车。(12分)

1.



2. 小明早晨( )上课,他早晨( )到校,他迟到了吗?

