

第六单元检测题

时间:60 分钟

书写等级:_____

质量等级:_____

题 号	一	二	三	四	五	总 分
分 数						

一、计算。(共 52 分)

1. 口算

$500 + 270 =$

$800 - 400 =$

$300 + 620 =$

$780 - 400 =$

$65 + 30 =$

$760 - 60 =$

$80 + 80 =$

$46 - 24 =$

$780 - 660 =$

$420 + 70 =$

$540 - 430 =$

$520 + 270 =$

$23 + 15 =$

$82 - 39 =$

$100 - 45 =$

$43 - 27 =$

2. 竖式计算

$278 + 369 =$

$783 - 284 =$

$603 - 247 =$

$802 - 245 =$

$257 + 428 =$

$859 + 126 =$

3. 脱式计算

$382 - (126 + 75)$

$750 - 248 - 144$

$193 + 278 - 245$



$308 - 249 + 254$

$252 - 116 - 58$

$289 - (904 - 758)$

二、填空题。(共 13 分)

- 3 个百加 4 个百是(), 8 个百减 4 个百是()。
- 比 328 多 500 的数是(), 比 735 少 262 的数是()。
- 万以内数的加法的验算可以用交换()的位置再加一遍的方法, 也可以用()减其中一个加数, 等于另一个加数。
- 用()加减数等于被减数和被减数减()等于减数来验算()。
- 用 3、0、5 三个数字组成一个最大的三位数是(), 最小的三位数是(), 它们的和是(), 差是()。
- 一种相机, 原价每台 920 元, 现价 900 元, 便宜了()元。
- 下面哪道题的结果大于 400? 在()里划“√”
 $67 + 323$ () $628 - 205$ () $595 - 217$ ()
- 760 里面有()个百和()个十。
- 在()里填上合适的数。
() + 350 = 850 () - 80 = 230 $580 - () = 80$
- 把两道算式合并为一道, 再计算出来。

$$\begin{cases} 782 - 625 = 157 \\ 157 + 289 = () \end{cases}$$

$$\begin{cases} 329 + 286 = 615 \\ 911 - 615 = () \end{cases}$$

三、对的打“√”, 不对的改正过来。(3 分)

门诊

$$\begin{array}{r} 135 \\ + 69 \\ \hline 825 \end{array}$$

门诊

$$\begin{array}{r} 386 \\ + 259 \\ \hline 635 \end{array}$$

门诊

$$\begin{array}{r} 581 \\ - 337 \\ \hline 254 \end{array}$$



门诊

+

$$\begin{array}{r} 536 \\ -287 \\ \hline 349 \end{array}$$

门诊

+

$$\begin{array}{r} 782 \\ -435 \\ \hline 247 \end{array}$$

门诊

+

$$\begin{array}{r} 153 \\ +787 \\ \hline 830 \end{array}$$

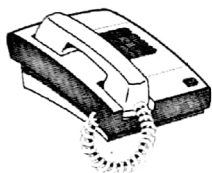
四、列式计算。(共6分)

1. 一个加数是345,和是538,另一个加数是多少?

2. 已知差是272,被减数是647,减数是多少?

五、解决问题。(共26分)

1. 小小商店。



72元



282元



403元



395元

(1) 买一部电话机和一个电饭锅一共需要多少钱?

(2) 买一辆自行车和一台电风扇一共需要多少钱?

(3) 请你再提出一个问题,并解答。

2.



有328只黑羊。

有445只白羊。




一共有多少只羊?



3. 养鸡场有公鸡 354 只,母鸡的数量比公鸡多 298 只,养鸡场一共有多少鸡?

4.



便宜了多少元?

5.




一捆电线长 861 米, 先用去 156 米, 又用去 259 米。

这捆电线比原来短了多少米?



6. 看电影。



先估计一下电影院的座位够不够坐,再算一算,如果够坐,还有多少个座位空着? 如果不够坐,还差多少个座位?

