

# 第四单元检测题

时间:60 分钟

书写等级:\_\_\_\_\_

质量等级:\_\_\_\_\_

题 号	一	二	三	四	五	六	七	八	九	总 分
分 数										


## 一、填空。(共 3 分)

1. 生活中,我们常用( )和( )来表示物品有多重。称较轻的物品时,用( )作单位;称较重的物品时,用( )作单位。

2. 5 千克 = ( ) 克      7000 克 = ( ) 千克

3. 一瓶水重 500 克, ( ) 瓶水重 1 千克。

## 二、在( )里填上“克”或“千克”。(8 分)




120 ( )



4 ( )



6 ( )



3 ( )



50 ( )



1 ( )



650 ( )



2 ( )

## 三、在○里填上“>”“<”或“=”。(9 分)

990 克 ○ 1 千克

8 千克 ○ 800 克

37 克 ○ 3 千克

600 克 ○ 6 千克

1000 克 ○ 1 千克

480 克 ○ 500 克



5 千克 ○ 5 克

10 克 ○ 10 千克

4 千克 ○ 4 克

#### 四、对号入座。(每题 3 分,共 12 分)

1. 在一块橡皮、一把椅子和一只老虎中,最重的是( )。

①橡皮

②椅子

③老虎

2. 8 千克铁块和 8 千克木头( )。

①铁块重

②一样重

③木头重

④无法判断

3. 把 72 克的药水倒入小瓶中,如果每瓶盛 8 克药水,需要( )个小瓶。

①8

②9

③64

4. 妈妈买回 4kg 糖,分给姐姐和弟弟各一半,姐姐分到( )糖。

①2kg

②1g

③2g

#### 五、我当小法官。(对的打“√”,错的打“×”)(10 分)

1. 4 千克的大米比 6 千克的棉花重。( )

2. 3 个壹角硬币重 6 千克。( )

3. 一袋奶粉重 500 克,那么 10 袋就是 1 千克。( )


4. 妈妈买了一箱苹果重约 15 克。( )

5. 厘米是重量单位。( )

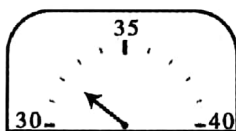
#### 六、看图写出重量。(18 分)



\_\_\_\_\_ 千克



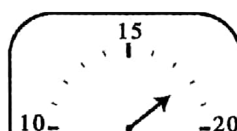
\_\_\_\_\_ 克



\_\_\_\_\_ 千克



\_\_\_\_\_ 克



\_\_\_\_\_ 千克

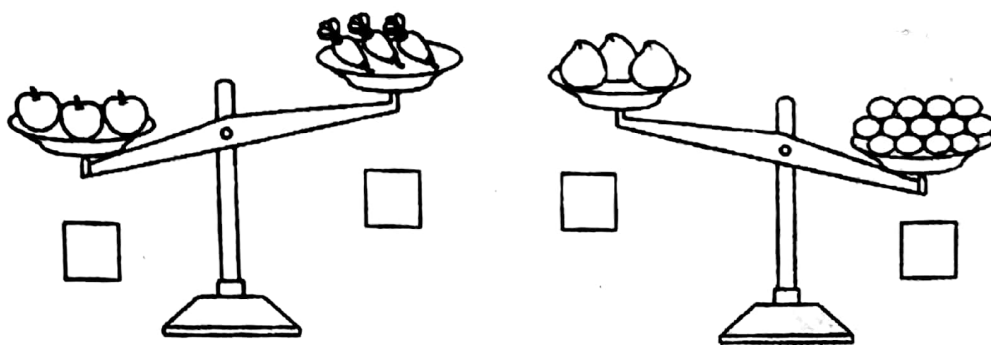


\_\_\_\_\_ 克

#### 七、按要求做下列各题。(10 分)

1. 轻的画“√”,重的画“×”。





2. 哪个物体最重？哪个最轻？（从重到轻编上序号）



( ) ( ) ( )

### 八、算一算。（10分）

$$5 \text{ 克} + 50 \text{ 克} = ( ) \text{ 克}$$

$$19 \text{ 千克} - 6 \text{ 千克} = ( ) \text{ 千克}$$

$$36 \text{ 千克} - 20 \text{ 千克} = ( ) \text{ 千克}$$

$$32 \text{ 克} \div 4 = ( ) \text{ 克}$$

$$38 \text{ 千克} - 8 \text{ 千克} = ( ) \text{ 千克}$$

$$70 \text{ 克} - 10 \text{ 克} = ( ) \text{ 克}$$

$$72 \text{ 千克} \div 9 = ( ) \text{ 千克}$$

$$45 \text{ 千克} - 10 \text{ 千克} = ( ) \text{ 千克}$$

$$6 \text{ 千克} \times 4 = ( ) \text{ 千克}$$

$$7 \text{ 克} \times 6 = ( ) \text{ 克}$$

### 九、解决问题。（20分）

1. 3 千克鸡蛋 18 元钱, 1 千克鸡蛋多少钱?

2. 几袋方便面约重 1 千克?



3.



2 千克



200 克



3000 克



300 克



(1) 请把这些蔬菜和水果的质量按从重到轻的顺序排列。


(2) 多少棵白菜刚好重 10 千克？

(3) 你还能提出什么数学问题？并解答。

4. 把这些萝卜平均分给 9 只小兔，每只小兔至少分到多少千克？



46 千克

5.  每千克 5 元。

32 元钱可以买多少千克香蕉？

