



第一单元测试卷



冀教版

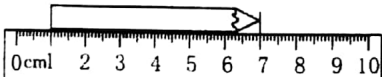


时间：60 分钟

满分：100 分

题号	一	二	三	四	五	六	总分
得分							

一、我是填空小行家。(14 分)

- 要准确表示出物体的长度,就要使用统一的()来测量。
- 我们学过的长度单位有()、()、()。
- $1\text{ m} = ()\text{ dm} = ()\text{ cm}$ $50\text{ dm} = ()\text{ m}$
 $5\text{ m} 3\text{ dm} = ()\text{ m} ()\text{ cm}$
- (1)鸟类世界中最小的鸟是蜂鸟,它一般约重 1.6 克,身长约 5 ()。
(2)课桌的高度约为 7()。
(3)篮球场长 28(),宽 15()。
-  这支铅笔长()厘米。

二、火眼金睛判对错。(对的打“√”,错的打“×”)(5 分)

- 一棵大树高约 9 分米。 ()
- 小明立定跳远的成绩是 8 米。 ()
- 100 厘米的绳子和 1 米的绳子一样长。 ()
- 如果用不同的工具测量同一个物体的长度,测量的结果就不一样。 ()
- 小明每分钟大约走 60 厘米。 ()

三、对号入座。(10 分)

- 小红走一步大约是 30()。

A. 厘米

B. 分米



2. 体育课上我们进行了 50()托球跑的游戏。

A. 厘米

B. 米

3. 一张课桌的长是 1()20()。

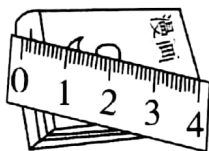
A. 厘米

B. 米

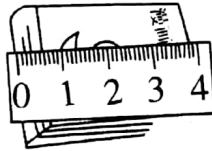
4. 下面测量方法正确的是()。



A



B



C

5. 一米的一半是()。

A. 50 分米

B. 50 厘米

四、算一算,比一比。(22 分)

1. 在○里填上“>”“<”“=”。

9 厘米○ 9 分米

2 分米○ 20 厘米

45 厘米○ 4 米

99 厘米○ 1 米

10 分米○ 100 厘米

200 厘米○ 1 米+1 米

2. 按从大到小的顺序排列。

35 厘米

20 厘米

3 分米

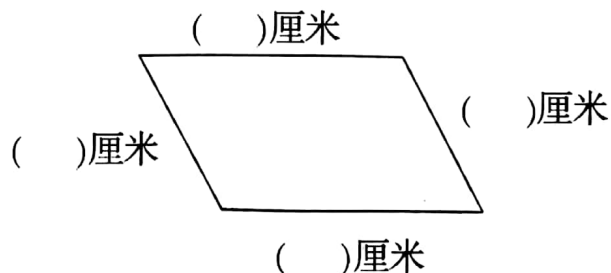
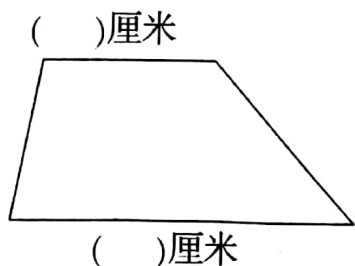
34 分米

30 米

() > () > () > () > ()

五、动手操作题。(15 分)

1. 量一量。



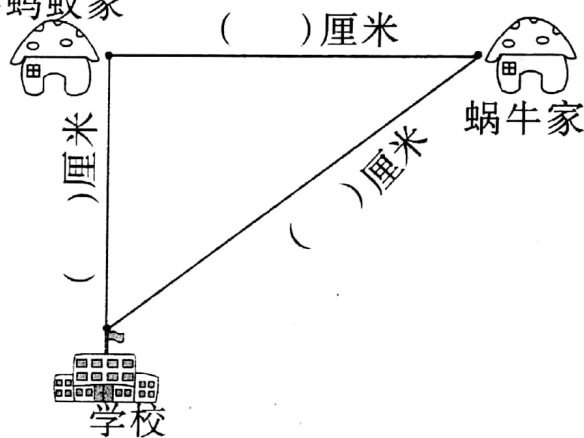
2. 画一条比 6 厘米短 2 厘米的线段。

3. 量一量, 填一填。

(1) 估一估, () 家离学校近一些, 再量一量, 写在图上。

(2) 蜗牛去上学, 最少爬 () 厘米。

(3) 蚂蚁从家出发先到蜗牛家, 然后到学校, 共爬了 () 厘米。



六、解决问题。(34 分)

1. 连衣裙长多少厘米?

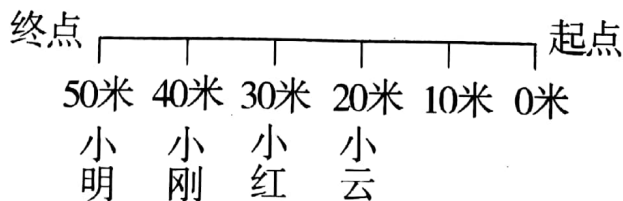


我长 58 厘米。

我比你长 30 厘米。



2. 学校正在举行秋季运动会。



(1) 正在进行的是 () 米短跑比赛。

(2) () 是冠军, () 最有可能获得亚军。



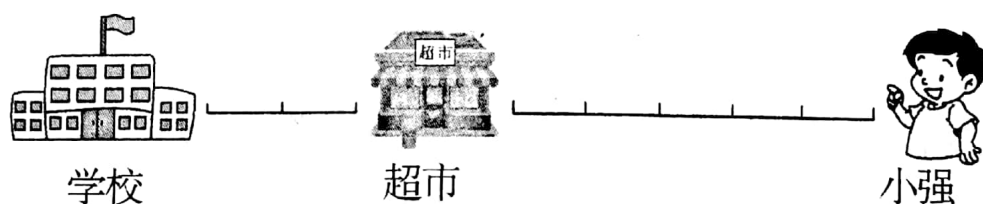
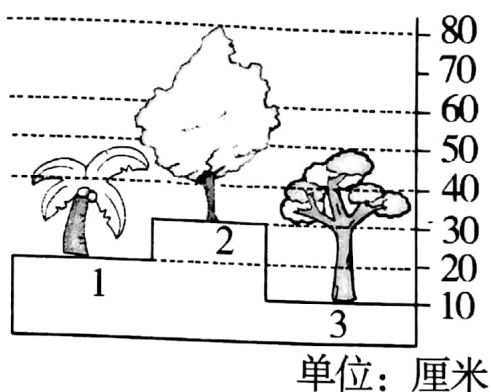
(3) 小明到终点时, 小红和小云一共跑了()米。

3. (1) ()号小树最高, 高是()厘米。

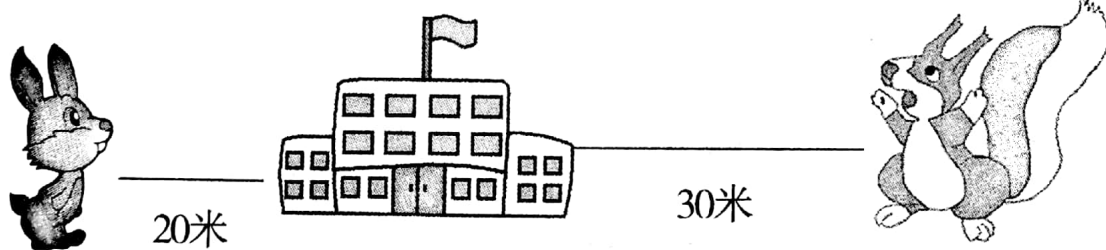
(2) ()号小树最矮, 高是()厘米。

(3) 2号小树和3号小树相差()厘米。

4. 小强经过超市去学校, 要走多少米? (每个小格代表 10 米)



5.



(1) 兔子和松鼠, 谁离学校近, 近了多少钱?

(2) 从松鼠家走到兔子家, 一共要走多少米?

