

北师大版一年级（下）数学期中测试卷（四）

时间：60 分钟 满分：100 分

题号	一	二	三	四	五	总分
得分						

一、口算。（30 分）

$12-5=$

$18-9=$

$6+8=$

$11-9=$

$6+9=$

$12-4=$

$14-5=$

$7+4=$

$16-7=$

$13-6=$

$8+5=$

$15-8=$

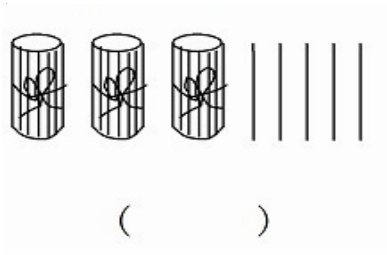
$7+9=$

$19-9=$

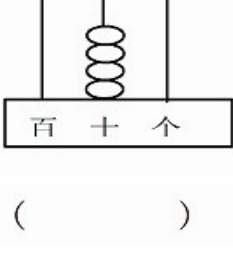
$11-9=$

二、填一填。（40 分）

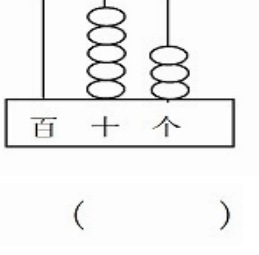
1. 看图写数。



()



()



()

2.最大的两位数是（ ），最小的两位数是（ ）。

3.10 个十是（ ），80 里面有（ ）个十。

4.6 个十和 8 个一是 ()。

5.个位上是 6，十位上是 7，这个数是 ()。

6 与 89 相邻的两个数是 ()，()。

7.在 里填上 “>” “<” 或 “=”。

$53 \bigcirc 35$

$99 \bigcirc 100$

$10 \bigcirc 17-7$

$80 \bigcirc 85$

$18 \bigcirc 16+2$

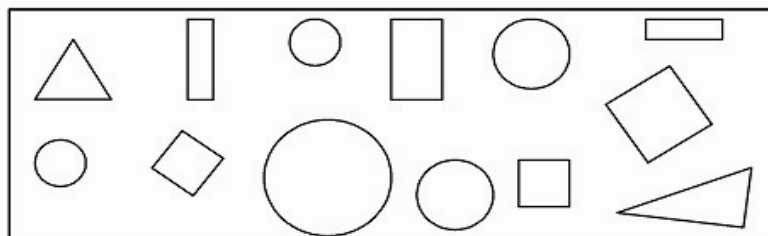
$60 \bigcirc 45$

$20 \bigcirc 18+2$

$57 \bigcirc 67$

$13-5 \bigcirc 13-8$

三、数一数。(8 分)



() 个
 () 个
 () 个
 () 个

四、想一想。(10 分)



(1) 小林收了多少节？在你认为合适的答案下面画“√”。

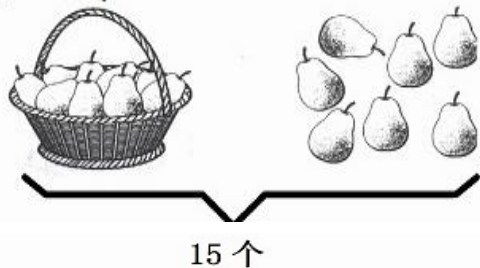
16 节	38 节	22 节
<input type="checkbox"/>	<input type="checkbox"/>	<input type="checkbox"/>

(2) 小丽收了多少节？在你认为合适的答案下面画“√”。

16 节	38 节	22 节
<input type="checkbox"/>	<input type="checkbox"/>	<input type="checkbox"/>

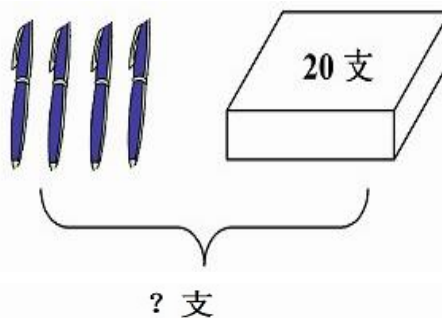
五、看图列算式。(12 分)

1、 ? 个



$$\square \bigcirc \square = \square ()$$

2、



$$\square \bigcirc \square = \square ()$$

参考答案

一、口算

7 9 14 2 15 8 9 11 9 7 13 7 16 10 2

二、填一填

1.35、40、53

2.99、10

3.100、8

4.68

5.76

6.88、90

7.>、<、=

<、=、>

=、<、>

三、数一数

正方形 (3)个

长方形 (3) 个

圆形 (4) 个

三角形 (2) 个

四、想一想

1.38 ($\sqrt{\quad}$)

2.16 ($\sqrt{\quad}$)

五、看图列式

1.15-7=8

2.20+4=24