



北师大版一年级（下）数学期中测试卷（三）

时间：60 分钟 满分：100 分

题号	一	二	三	四	五	六	总分
得分							

一、填一填。（每空 1 分，共 37 分）

题

答

要

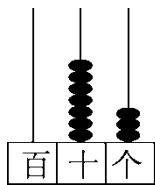
不

内

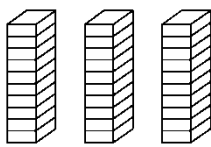
线

订

装

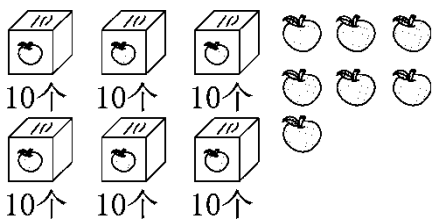


1.



写作：()

写作：()



67再添上3就是()

个十，即()。

2. 59 前面的两个数是(), (), 后面的两个数是(), ()。

3. 26 中, 6 在()位上, 表示 6 个(); 2 在()位上, 表示()。

4. 在 13, 92, 21, 35, 38 中, 35 比()小一些, 比()小得多。

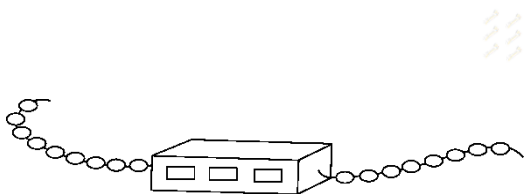
5. 从 8, 2, 3 这三个数中任选两个数, 组成最大的两位数是(), 最小的两位数是()。

6. 盒子里面有 9 颗珠子, 数一数, 一共有()颗珠子。

座位号

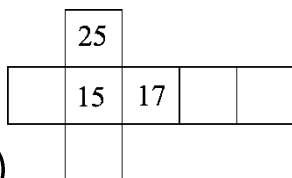
班级

姓名



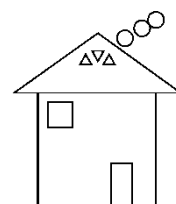
7. 按规律填数。

(1) 15, 25, (), (), 55, ()。



(2)

8. 右图中有()个三角形, ()个长方形, ()个正方形, ()个圆。



9. 用一个 在纸上能描出一个()形。

10. 先写数, 再按数的大小排队。

我是由6个十和5个一组成的。

我的十位上是5, 个位上是6。

我是69后面紧跟的数。

我的个位上是5, 十位上的数字比个位上的数字大3。

() () () ()

() > () > () > ()

二、判断。(对的画“√”, 错的画“×”)(每题1分, 共5分)

1. 小明的爷爷今年70岁, 小明比爷爷小一些。 ()

2. 七巧板中包含3种图形。 ()

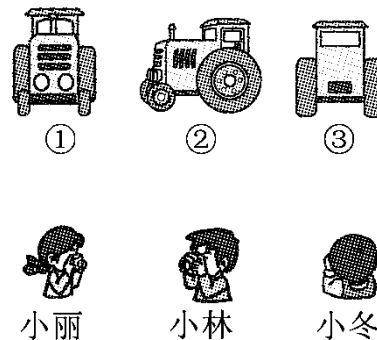
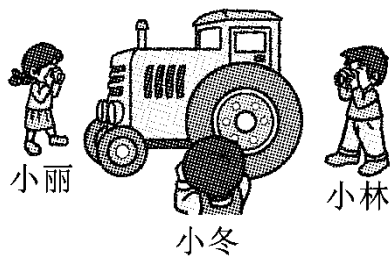
3. 在算 $12 - 9$ 时, 可以先算 $10 - 9 = 1$, 然后再算 $1 + 2 = 3$, 就是 $12 - 9 = 3$ 。 ()

4. 两个同样大的正方形可以拼成一个长方形。 ()


5.  左图中共有 2 个长方形。 ()

三、连一连。(1 题 6 分, 2 题 12 分, 共 18 分)

1. 下面的 3 张照片分别是谁拍的?

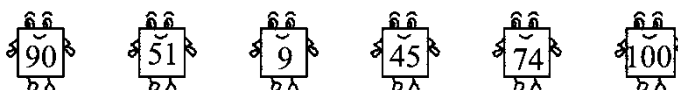


2. 找朋友。

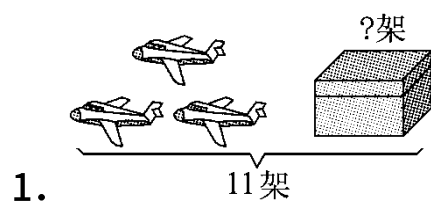


欢迎小于 60 的朋友。

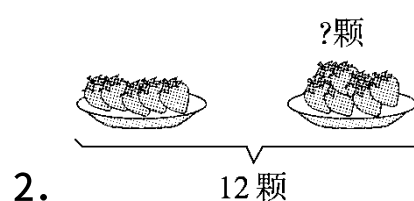
欢迎大于 60 的朋友。



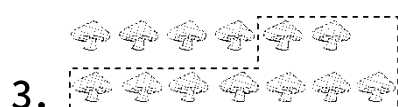
四、看图列式计算。(每题 2 分, 共 8 分)



$$\square \bigcirc \square = \square \text{ (架)}$$



$$\square \bigcirc \square = \square \text{ (颗)}$$

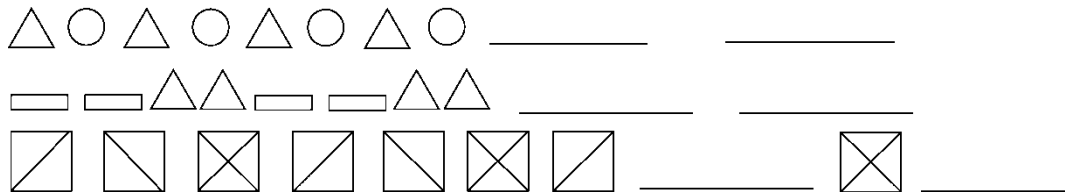


$$\square \bigcirc \square = \square \text{ (朵)}$$

$$\square \bigcirc \square = \square \text{ (个)}$$

$$\square \bigcirc \square = \square \text{ (个)}$$

五、动手操作题。(按规律画图)(每题 2 分, 共 6 分)



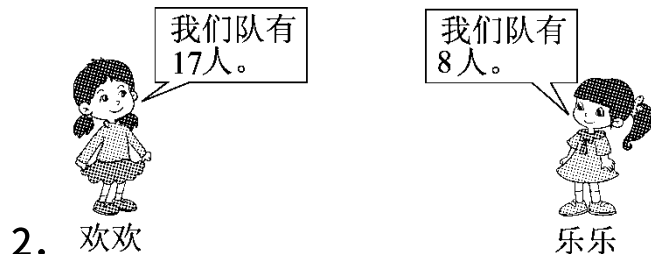
六、解决问题。(1, 2 题各 3 分, 3 题 9 分, 4 题 4 分, 共 19 分)

1. 春雷小学的同学参加“绿色行动”。



四年级可能种了多少棵树?(画“○”)

76 棵	50 棵	86 棵



2. 欢欢

乐乐

乐乐所在队再添几人就和欢欢所在队的人数一样多?

$$\square \bigcirc \square = \square (\text{人})$$

3. 育才小学正在组织向灾区小朋友捐款活动。



我捐了9元。



我捐了8元。

我比淘气多捐了6元。



(1) 明明捐了多少元？

$$\square \bigcirc \square = \square (\text{元})$$

(2) 明明比桐桐多捐了多少元？

$$\square \bigcirc \square = \square (\text{元})$$

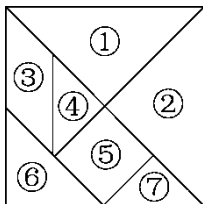
(3) 淘气和桐桐一共捐了多少元？

$$\square \bigcirc \square = \square (\text{元})$$

4. 小欣今年8岁，小阳今年15岁，再过20年，小阳比小欣大多少岁？


$$\square \bigcirc \square = \square (\quad)$$

七、我会认七巧板。(1题4分，2题3分，共7分)



1. ⑤号图形是()形，⑥号图形是()形。

2. 请你用①号图形和②号图形拼出一个新的图形，并画出来。





答案

一、1. 73 30 7 70

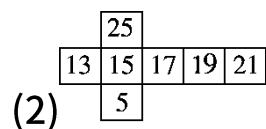
2. 58 57 60 61

3. 个 一 十 2个十

4. 38 92 5. 83 23

6. 26 点拨：盒子外面有 17 颗珠子， $17+9=26$ (颗)。

7. (1)35 45 65



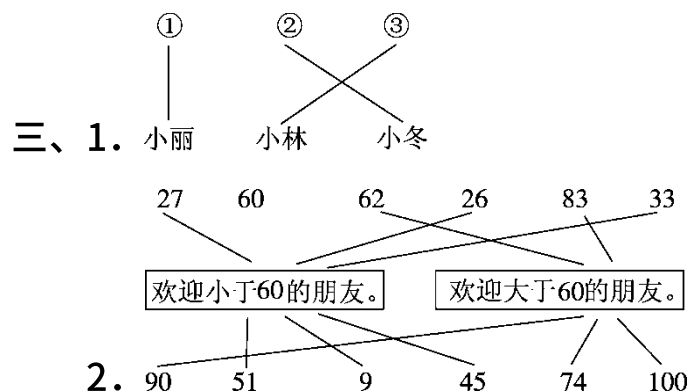
8. 4 1 2 3 9. 正方

10. 65 56 70 85 85 70 65 56

二、1. × 点拨：孙子的年龄应该比爷爷小得多。

2. √ 3. √ 4. √

5. × 点拨：共有 3 个长方形。



四、1. $11-3=8$ 2. $12-5=7$



3. $13-9=4$ 4. $8+9=17$ $9+8=17$

或写减法算式 $17-8=9$ $17-9=8$



五、1. \triangle \bigcirc

2.  

3.  

六、1.

76 棵	50 棵	86 棵
\bigcirc		

2. $17-8=9$

3. (1) $9+6=15$

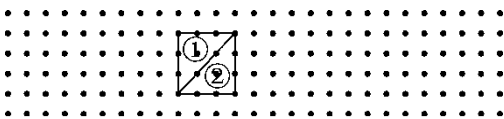
(2) $15-8=7$

(3) $9+8=17$

4. $15-8=7$ (岁)

点拨：年龄差不会随着年龄的增长而改变，今年相差 7 岁，20 年后仍相差 7 岁。

七、1. 正方 三角

2. 

点拨：答案不唯一。