

北师大版一年级（下）数学期中测试卷（二）

时间：60 分钟 满分：100 分

题号	一	二	三	四	五	六	总分
得分							

一、填一填。（6 题 8 分，7 题 12 分，其余每空 1 分，共 39 分）

1. 一个两位数，十位上是 8，个位上是 3，这个数是()，
读作()。

2. 6 个十加 4 个十是()，与 40 相邻的数是()和
()。

3. 在 41，58，63，50，27，80，69 中，大于 50 的数有
()，小于 60 的数有()。

4. 15 比 9 大()，6 比 14 小()。

5. 89 前面一个数是()，后面第三个数是()。

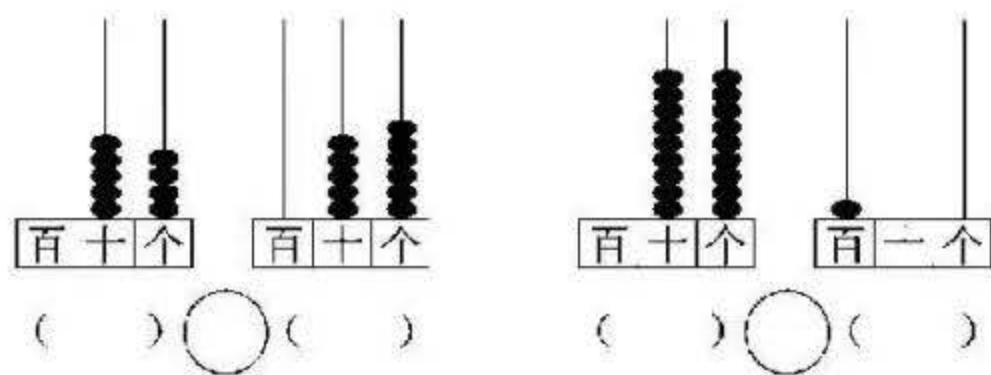
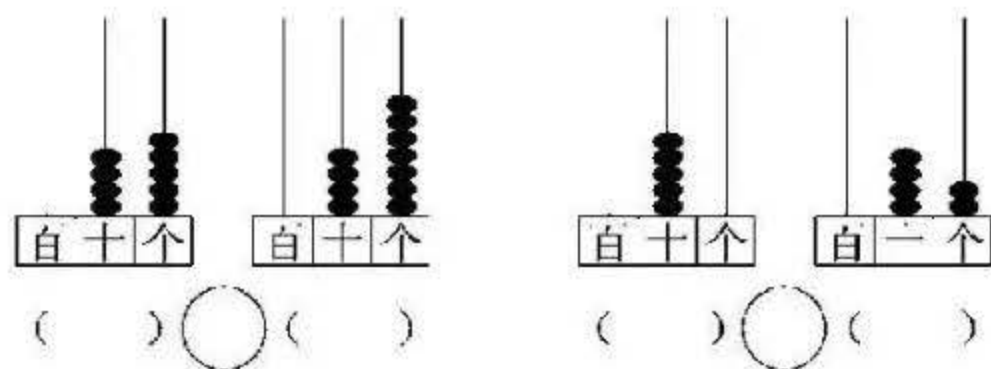
6. 找规律填数。

	29			32
70	72			78

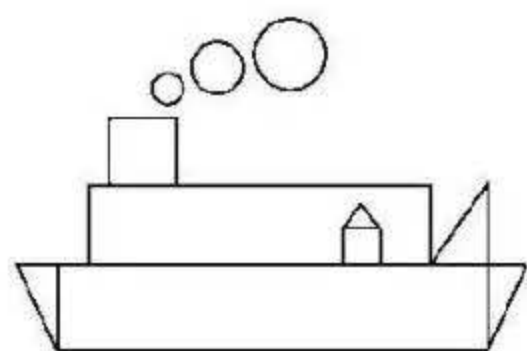
40 () () 55 60 () () () () 85 () 95 ()

7. 看图写数，再比较大小。

座位号 _____ 班级 _____ 姓名 _____



8. 数一数，填一填。



() 个圆

() 个正方形

() 个长方形

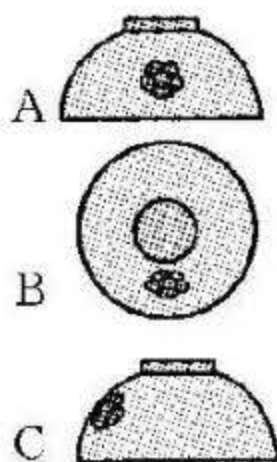

() 个三角形

9. 一个两位数，个位上的数比十位上的数大 6，这个两位数可能是 ()。

10. 写出三个十位上是 5 的数：()，()，()。

二、连一连。(1 题 3 分，2 题 5 分，共 8 分)

1. 它们分别看到的是哪幅图？请你连线。




2. 找朋友，把得数相同的算式连起来。



$11 - 5$




$11 - 4$



$13 - 8$



$12 - 3$




$12 - 9$



$15 - 10$



$14 - 8$



$15 - 8$



$11 - 8$




$16 - 7$

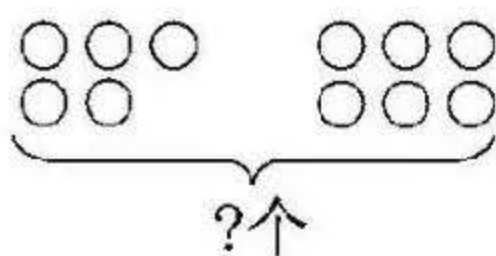
三、判断。(每题 2 分, 共 10 分)

1. 10 个十是 100, 100 个一也是 100。()
2. 从不同方向观察一个物体, 看到的形状可能不同。()
3. 99 的 十位上和个位上都是 9, 表示的意义也相同。()
4. 40 比 39 大 1, 而比 41 小 1。()
5. 59 读作五九。()

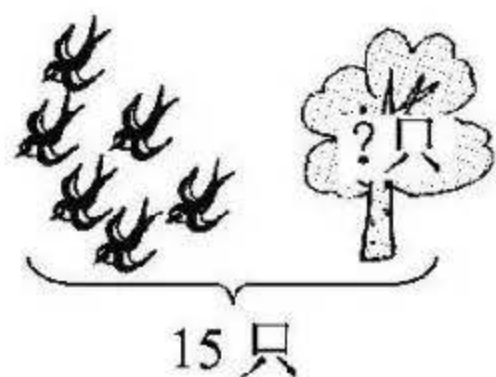
四、看图列式计算。(8 分)



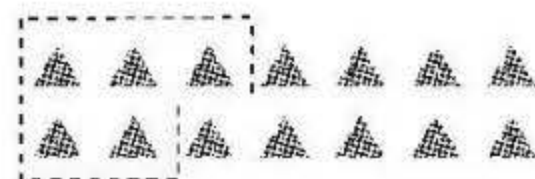
$\square + \square = \square \text{ (颗)}$



$\square \bigcirc \square = \square \text{ (个)}$



$\square \bigcirc \square = \square \text{ (只)}$



$\square \bigcirc \square = \square \text{ (个)}$

☒☒五、选一选。(每题 3 分, 共 6 分)

我吃了35只害虫。



我吃的比你吃的少一些。



1.




可能吃了多少只害虫？(画“√”)

10 只

30 只

15 只

我的苹果个数和小熊的差不多。



小羊

我有45个苹果。



小熊

我的苹果个数比小熊的多得多。



小猴

2.

小羊可能有多少个苹果？(画“√”)

小猴可能有多少个苹果？(画“○”)

18 个

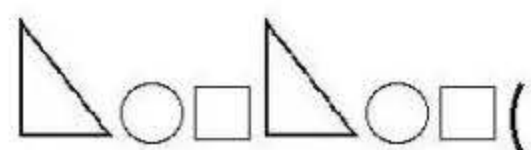
47 个

36 个

73 个

六、动手操作题。(1 题 5 分, 2 题 9 分, 共 14 分)

1. 找规律接着画。




() ()



() () () ()

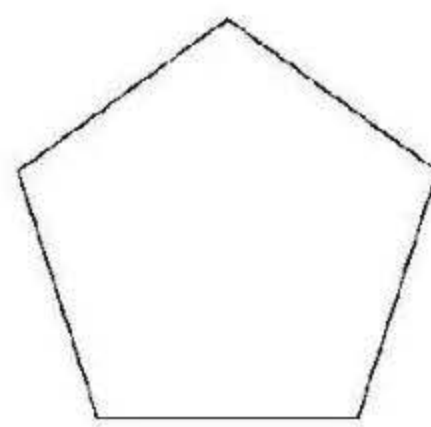
2. 分一分, 画一画。



分成两个三角形



分成两个长方形




分成三个三

角形

七、解决问题。(1题7分,2题8分,共15分)

1. 收玉米。

我只收了14个玉米。



我收了9个玉米。



小羊还要收多少个玉米才能和小牛收得同样多?

$$\square \bigcirc \square = \square (\text{个})$$

2.

车上有9人。



又来了6人。



有20个座位,
够不够?



$$\square \bigcirc \square = \square (\text{个})$$

$$\square \bigcirc 20$$

够 ☐

不够 ☐ (在合适的 ☐ 里画“√”)

答案

一、1. 83 八十三 2. 100 39 41

3. 58, 63, 80, 69 41, 58, 50, 27

4. 6 8

5. 88 92

点拨：89 前面一个数比 89 小 1，即 $89-1=88$ ；后面第三个数比 89 大 3，即 $89+3=92$ 。

6. 28 30 31 33 74 76 80 82

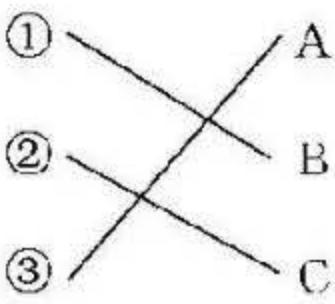
45 50 65 70 75 80 90 100

7. $45<47$ $50>42$ $54<56$ $99<100$

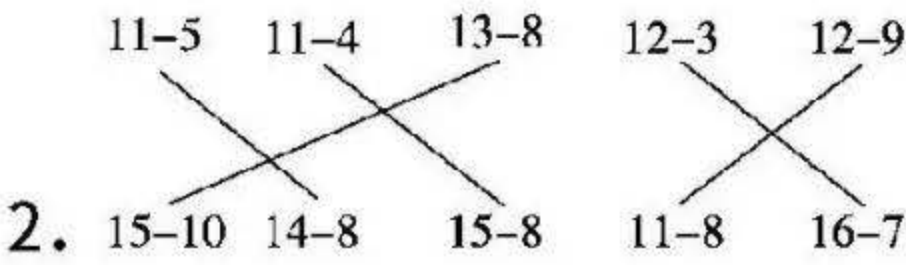
8. 3 2 2 4

9. 17, 28, 39

10. 50 51 52(答案不唯一)



二、1.



三、1. $\sqrt{\quad}$ 2. $\sqrt{\quad}$

3. \times 点拨：十位上的 9 表示 9 个十，个位上的 9 表示 9 个一，意义不同。

4. $\sqrt{\quad}$

5. × 点拨：59 读作五十九。

四、 $7+4=11$ $5+6=11$

$15-6=9$ $14-5=9$

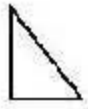




五、

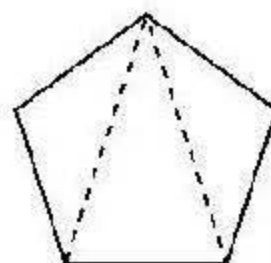
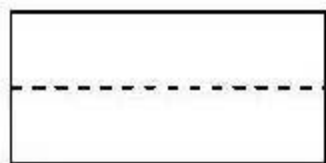
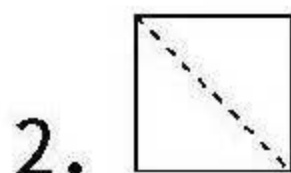
1.

10 只	30 只	15 只
	√	

2.

18 个	47 个	36 个	73 个
	√		○

六、1.     



(答案不唯一)

七、1. $14-9=5$

2. $9+6=15$

$15 < 20$

够 ☒

不够 ☐