


苏教版一年级（下）数学期中测试卷（二）

时间：60 分钟 满分：100 分

题号	一	二	三	四	五	六	总分
得分							

一、填空。(27 分)

1.圈一圈,数一数。



()



()

2.写一写,读一读。



写作:()

读作:()



写作:()

读作:()



写作:()

读作:()

3.4 个十和 3 个一是();82 是由()个十和()个一组成的。

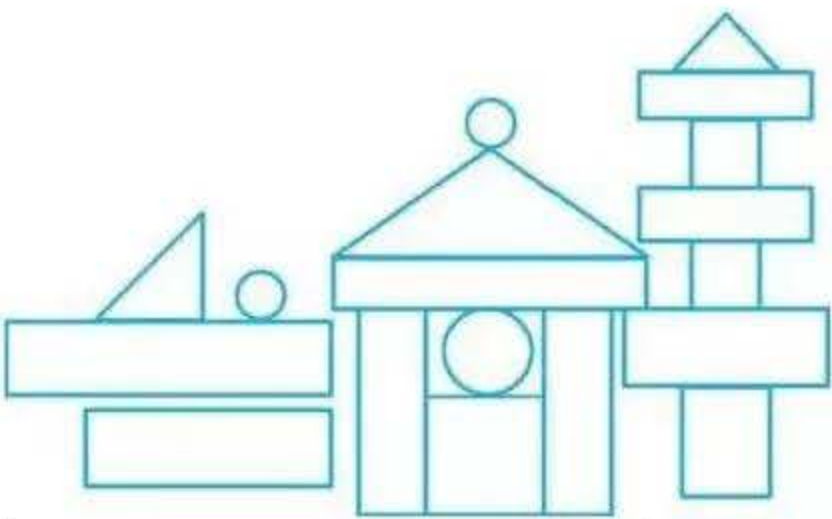
4.77 十位上的数字是(),表示()个十;个位上的数字是(),表示()个一。

5.最小的两位数是(),最大的两位数是()。

6.一个两位数,个位上与十位上的数字之和是 10,这个两位数最大是 (),最小是()。

7.写出两个个位上是 3 的两位数:(),();写出两个十位上是 6 的两位数:(),()。

8.数一数,填一填。



正方形	()个
长方形	()个
三角形	()个
圆	()个

二、判断。(对的在括号里画√” ,错的画 “×”)(8 分)

- 1.26 比 30 少一些,比 2 多得多。 ()
- 2.与 89 相邻的两个数是 87 和 88。 ()
- 3.个位上和十位上的数字相同的两位数共有 10 个。 ()
- 4.两个三角形一定可以拼成一个正方形。()

三、按要求完成下列各题。(31 分)

1.口算。(6 分)

11-9=	47-7=	18-9=	13-7=
20+8=	55-50=	15-6=	12-3=

$13+2-8=$
 $38-8+6=$
 $18-6-7=$
 $13+5-9=$

2.连一连。(6 分)



正方形

长方形

圆

三角形

3.在🍎里填上正确的数。(6 分)

$\text{🍎}+6=66$
 $73-\text{🍎}=3$
 $\text{🍎}-20=9$

$56-\text{🍎}=50$
 $\text{🍎}+9=99$
 $4+\text{🍎}=64$

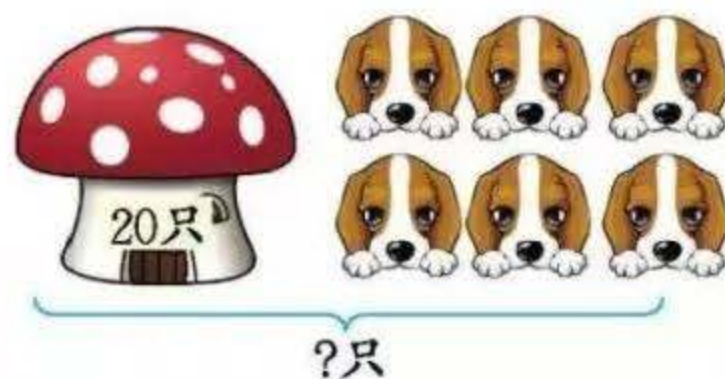
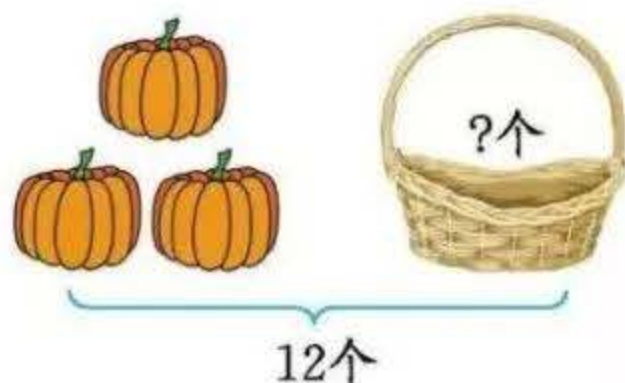
4.圣诞树上挂了 45 个小铃铛。小星星比小铃铛多得多,雪花片比小铃铛少一些。小星星可能有多少个?画 “☒”;雪花片可能有多少个?画 “○”。(4 分)

84 个	20 个	27 个	41 个

5.按规律接着填一填。(9 分)

<div> <div>23, 25, 27</div> <div>29, 31, 33</div> </div>	<div> <div>30, 40, 50</div> <div>____, ____, ____</div> </div>
<div> <div>37, 47, 57</div> <div>____, ____, ____</div> </div>	<div> <div>30, 33, 36</div> <div>____, ____, ____</div> </div>

四、看图列式计算。(8 分)



$$\square \bigcirc \square = \square (\text{个})$$

$$\square \bigcirc \square = \square (\text{只})$$

五、根据下图,填写出不同的算式。(16 分)



$$\square \bigcirc \square = \square$$

$$\square \bigcirc \square = \square$$

$$\square \bigcirc \square = \square$$

$$\square \bigcirc \square = \square$$

六、解决问题。(10 分)

1.一(1)班举行跳绳比赛。乐乐跳了多少下?豆豆跳了多少下?(5 分)

我跳了83下。



小雪

我比你少跳了3下。



乐乐

我比乐乐多跳了5下。



豆豆

2.水果店新进了 15 箱水果,早上卖出去了 5 箱,下午卖出去了 7 箱。

现在还剩多少箱水果?(5 分)

如果又新进了 9 箱,那么现在水果店有多少箱水果?



参考答案

- 一、1. 33 24
2. 23 二十三 41 四十一 15 十五
3. 43 8 2
4. 7 7 7 7
5. 10 99
6. 91 19
7. (答案不唯一)13 23 61 62
8. 3 14 3 3

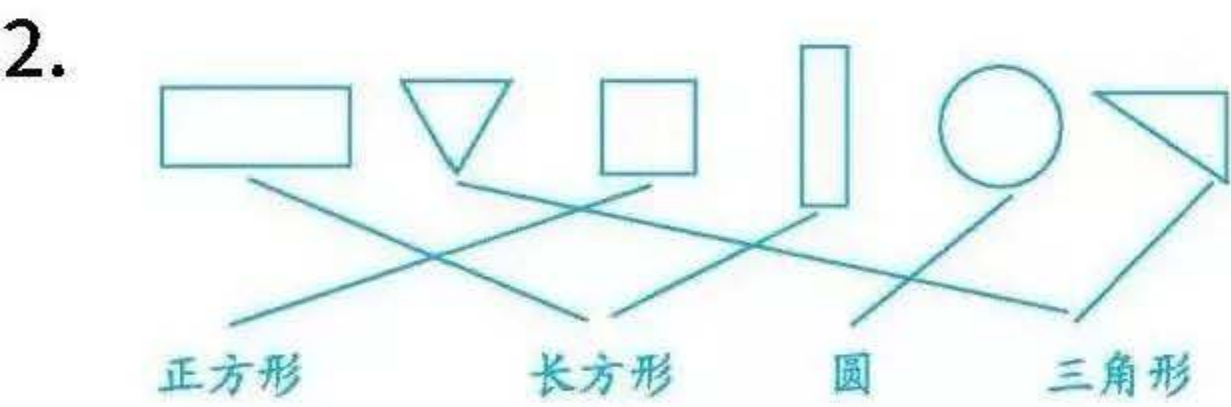
二、1. $\sqrt{\quad}$

2. \times

3. \times

4. \times

- 三、1. 2 40 9 6 28 5 9 9 7 36 5 9



3. 60 70 29 6 90 60

4.

84 个	20 个	27 个	41 个
⊗			○

5. 60 70 80 67 77 87 39 42 45

四、 $12-3=9$ $20+6=26$

五、 $6+8=14$ $8+6=14$ $14-6=8$ $14-8=6$

六、1.乐乐: $83-3=80$ (下) 豆豆: $80+5=85$ (下)

2. $15-5-7=3$ (箱) $3+9=12$ (箱)