

人教版一年级（下）数学期中测试卷（三）

时间：60 分钟 满分：100 分

题号	一	二	三	四	五	六	七	八	总分
得分									

一、看图写数。（6 分）



() 个十,

() 个十,

() 个十,

() 个一。

() 个一。

() 个一。

写作: ()

写作: ()

写作: ()

读作: ()

读作: ()

读作: ()

二、填空。

1、和 70 相邻的两个数是 () 和 ()。

2、100 是由 () 个十组成的。

3、个位上是 9，十位上是 2，这个数是 ()。

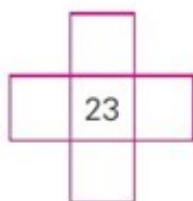
4、按规律填数。

() () 33 34 () 36 () ()

() 80 () 60 () 40 () 20 ()

5、根据百位数表填数。

(1)

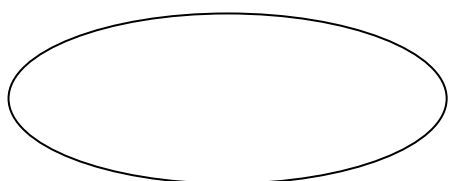


(2)

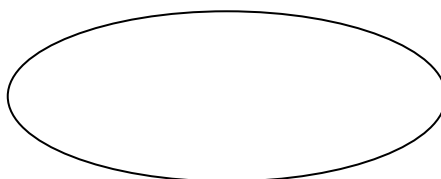


6、按要求写数。

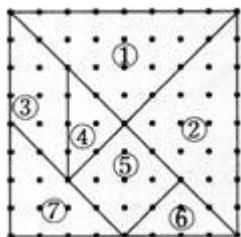
个位上是 5 但比 60 小的两位数。



个位上是 6 但比 56 小的两位数。



7、



(1) 左上图是一幅七巧板，它是由 () 种图形组成的。其中有 () 个正方形，() 个三角形，() 个平行四边形。

(2) 右上图的小鸭子，它是由 () 种图形组成的。其中有 () 个三角形，() 个平行四边形。

三、直接写得数。

$15-8=$

$44+9=$

$50+8=$

$20+3=$

$9+20=$

$58-8=$

$8+80=$

$1+70=$

$45+8=$

$3+70=$

$5+30=$

$85-80=$

$9+7=$

$70+8=$

$14-8=$

四、在 () 里填上合适的数。

$() + 9 = 13$

$() - 9 = 9$

$78 - () = 70$

$19 - () = 10$

$() + 10 = 90$

$66 - () = 6$

$32 + () = 62$

$89 - () = 9$

五、在○里填上 “>” “<” 或 “=”。

$67-30\bigcirc35$

$69\bigcirc25+40$

$99\bigcirc100$

$88\bigcirc65+8$

$100\bigcirc10+10$

$3+20\bigcirc23$

六、看图填一填。



1、按不同的活动项目分一分填写下表。

活动项目	跳绳	踢键子	掷铁饼
人数			

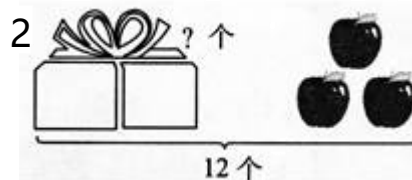
2、按性别分一分填写下表。

性别	男孩	女孩
人数		

七、看图列式。



$$\square \bigcirc \square = \square$$

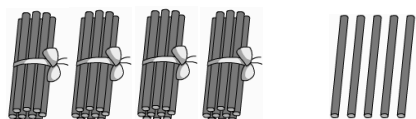


$$\square \bigcirc \square = \square$$



$$\square \bigcirc \square \bigcirc \square = \square$$

4、




八、解决问题。

1、



$$\square \bigcirc \square = \square \quad (\text{个})$$

2、



(1) 鸡比鸭少多少只?

$$\square \bigcirc \square = \square \quad (\text{只})$$

(2) 鸡比鹅少多少只?

$$\square \bigcirc \square = \square \quad (\text{只})$$

(3) 鸡和鹅一共有多少只?

$$\square \bigcirc \square = \square \quad (\text{只})$$

3、小图书室有 90 本图书, 借出 40 本书, 还剩下多少本?

$$\square \bigcirc \square = \square \quad (\text{本})$$

4、饲养场共养 15 只兔子, 其中黑兔有 8 只, 白兔有多少只?

$$\square \bigcirc \square = \square \quad (\text{只})$$

5、树上小鸟飞走了 20 只, 还剩 9 只, 树上原来有多少只小鸟?

$$\square \bigcirc \square = \square \quad (\text{只})$$

参考答案

一、3, 5, 35, 三十五, 2, 4, 24, 二十四, 8, 7, 87, 八十七。

二、69, 71, 10, 29, 31, 32, 35, 37, 38, 90, 70, 50, 30, 10.

13, 22, 24, 33, 16, 25, 26, 15, 25, 35, 45, 55, 16, 26, 36,
46, 3, 1, 5, 1, 3, 1,

三、7, 53, 58, 23, 29, 50, 88, 71, 53, 37, 35, 5, 16, 78, 6.

四、4, 18, 8, 9, 80, 60, 30, 80,

五、 $> > < > > =$

六、4, 2, 3, 5, 4

七、 $8+5=13$, $12-3=9$, $15-3-4=8$, $40+5=45$, $5+40=45$, $45-40=5$,
 $45-5=40$,

八、 $14-8=6$, $12-6=6$, $11-6=5$, $6+11=17$, $90-40=50$, $15-8=7$, $20+9=29$