

# 人教版一年级（下）数学期中测试卷（四）

时间：60 分钟 满分：100 分

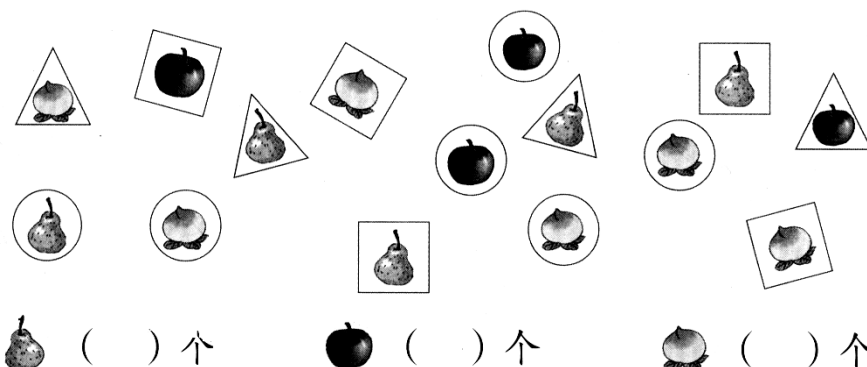
题 号	一	二	三	四	五	六	七	总 分
得 分								

温馨提示：亲爱的同学，本次试题共 4 页，总分为 100 分，检测时间为 60 分钟，请仔细审题，细心答题，相信你一定会有出色的表现！祝你考出好成绩。

## 一、我会填。（共 14 分，除 10 题 3 分外，其余每空 1 分。）

- 由 7 个十和 6 个一组成的数是（ ）。
- 23 是个（ ）位数，100 是一个（ ）位数。
- 74 前面的一个数是（ ），后面的一个数是（ ）。
- 在计数器上，从右边起第一位是（ ）位，第二位是（ ）位，第三位是（ ）位。

## 5、数一数



## 6、把这些数从大到小排一排：75、60、36、48、57、80。（3 分）

( ) > ( ) > ( ) > ( ) > ( ) > ( )

## 二、对错我会判。（共 6 分）

- 读数 and 写数都是从个位起。（ ）
- 连续数五十二前面的三个数，分别是五十一、五十、四十九。（ ）
- 两个大小完全一样的三角形，只能拼成一个平行四边形。（ ）

### 三、在你认为合适的答案下面打“√”（共 6 分）

1、梨有 40 个，苹果的个数比梨少得多，苹果可能有多少个？

18 个 ☐

28 个 ☐

48 个 ☐

2、小汽车的价钱比飞机便宜一些，小汽车可能要多少钱？




60 元

? 元

73 元 ☐

57 元 ☐

22 元 ☐

3、 的价钱比 30 元少一些。一个书包多少元？

10 元	27 元	32 元
<input type="checkbox"/>	<input type="checkbox"/>	<input type="checkbox"/>

### 四、直接写得数。（15 分）

$70+6=$

$40+5=$

$80+8=$

$6+90=$

$78-8=$

$12-5=$

$44-40=$

$4+20=$

$60-6=$

$70+3=$

$8+7=$

$37-30=$


$10+5=$

$93-3=$


$6+40=$


### 五、操作平台、展我风采。（共 24 分）


1、画一画，使正方形变成两个形状、大小一样的图形。（4 分）





2、看图数数，填数字。（10 分）




有 ( ) 个  。

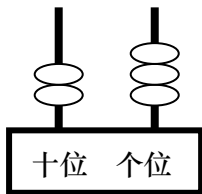
有 ( ) 个  。

有 ( ) 个  。

有 ( ) 个  。

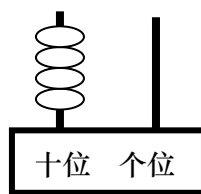
有 ( ) 个  。

### 3、写一写、画一画。(共 10 分)



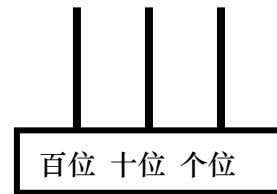
写作: ( )

读作: ( )



写作: ( )

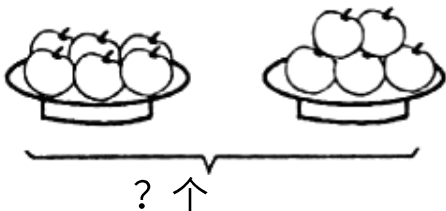
读作: ( )



写作: 100

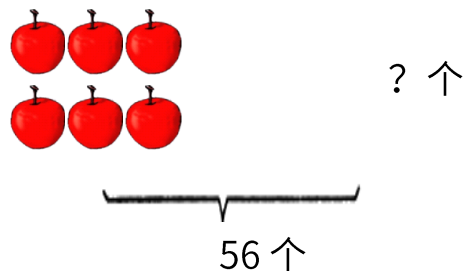
### 六、看图列式计算。(共 20 分)

1、



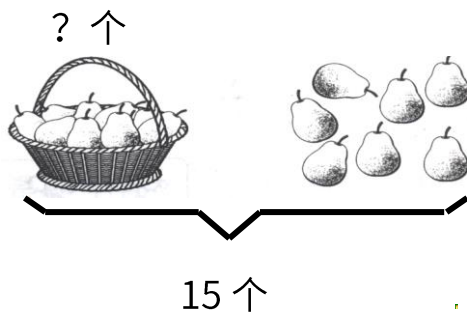
$$\square \bigcirc \square = \square$$

2、

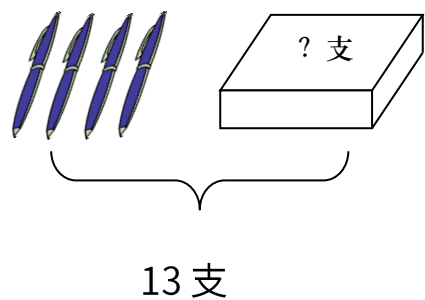


$$\square \bigcirc \square = \square$$

3、



4、



$$\square \bigcirc \square = \square \quad ( \quad ) \qquad \square \bigcirc \square = \square \quad ( \quad )$$

七、生活实践园。(共 15 分)

1、美术小组有 30 人，其中女生有 20 人，男生有多少人？（5 分）

$$\square \bigcirc \square = \square$$

2、商店原有 48 台电视机，卖出了 8 台后，还剩下多少台？（5 分）

$$\square \bigcirc \square = \square$$

3、有 37 个包子，每 10 个装一笼，能装几笼？还剩几个？（5 分）

参考答案

一、1、76 2、两 三 3、73 75 4、个 十 百 5、5 4 6

6、 $80 > 75 > 60 > 57 > 48 > 36$

二、1、 $\times$  2、 $\sqrt{\quad}$  3、 $\times$

三、1、18 个  $\sqrt{\quad}$  57 元  $\sqrt{\quad}$  27 元  $\sqrt{\quad}$

四、76 45 88 96 70 7 4 24 54 73 15 7 15 90  
46

五、1、略

2、6 5 2 2 2

3、23 二十三 40 四十 画图略

六、1、 $6+5=11$  2、 $56-6=50$  3、 $15-7=8$  (个) 4、 $13-4=9$  (支)

七、1、 $30-20=10$  2、 $48-8=40$

3、 $37-10-10-10=7$  (个) 答：能装3笼还剩7个