



调研预测卷(三)



时间：60 分钟 满分：100 分

密

封

线

内

不

得

答

题

题号	一	二	三	四	五	六	七	八	九	总分
得分										


rèn zhēn tián kòng

一、认真填空。(18 分)

- 38 里面有()个一和()个十。
- $72 - () = 9$ $68 - () = 9$
- 1, 2, 3, …… , 9 都是()位数, 其中最小的数是(), 最大的数是()。
- 和 39 相邻的两个数是()和()。
- 4 元 - 1 元 2 角 = ()元()角
- 一个笔记本 3 元钱, 一支铅笔 6 角钱, 买一个笔记本和一支铅笔共花()元()角钱。
- 找规律。
(1) ■ ▲ ■ ▲ ■ ▲ ■ () ()
(2) ● ○ ● ○ () ○ ● () ()

zhǔn què pàn duàn

二、准确判断。(对的打“√”, 错的打“×”)(每题 1 分, 共 4 分)

- 一个加数是 37, 另一个加数是 35, 和是 62。 ()
- 一个长方形有四条边, 正方形的四条边都相等。 ()
- 妈妈买韭菜用去 3 元, 买肉用去 7 元 5 角, 一共用去 10 元 5 角。 ()
-  钟面上的时刻是快 5 时了。 ()

kuài lè xuǎn zé

三、快乐选择。(将正确答案的序号填在括号里)(8 分)

- 100 的百位上的 1 表示()
A. 一个十 B. 十个一 C. 一个百



2. 下面哪个数最接近 70()

A. 59

B. 72

C. 69

3. 姐姐有 1 元 8 角, 买铅笔用去 8 角, 还剩()

A. 9 角

B. 1 元 5 角

C. 1 元

4. 一大瓶可乐的价格为()

A. 6 元 5 角

B. 6 角 5 分

C. 6 分

四、在 \bigcirc 里填上 “ $>$ ” “ $<$ ” 或 “ $=$ ”。(6 分)

74 \bigcirc 47

96 \bigcirc 69


39 \bigcirc 93

100 \bigcirc 99

97 \bigcirc 79

88 \bigcirc 37

五、看图填空。(9 分)



老虎在第 1 节车厢。

1. 熊排在第()节车厢。

2. 狐狸排在()的前面。

3. 猴子排在()的后面, 在()的前面。

4. 大象排在()的前面。

5. ()在()的前面, ()在()的后面。

六、开心计算。(16 分)

$$26 - 12 =$$

$$38 - 15 =$$

$$35 - 28 =$$

$$37 + 32 =$$

$$8 + 48 =$$

$$80 + 3 =$$

$$38 - 10 =$$

$$72 - 8 =$$

$$9 + 81 =$$

$$60 - 7 =$$

$$61 - 18 =$$

$$32 + 20 =$$

$$42 - 16 =$$

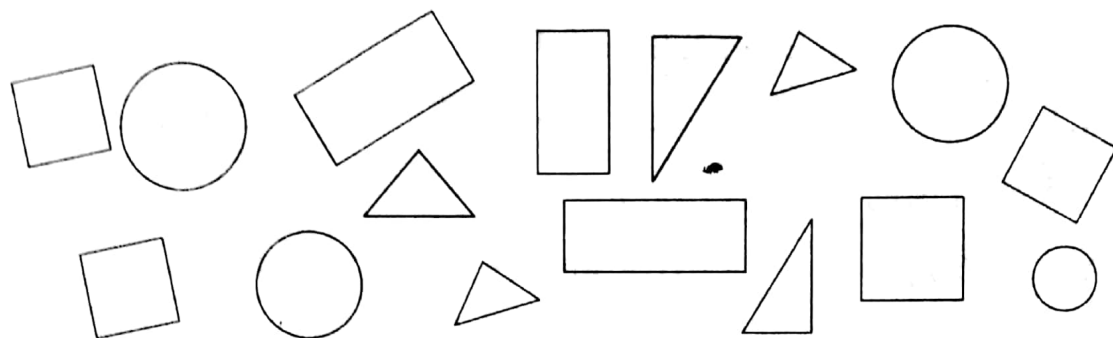
$$45 + 46 =$$

$$37 + 28 =$$

$$96 - 28 =$$



七、数一数，填一填。(7分)



一共有()个图形。()最多,()最少,()和()同样多,三角形比长方形多()个,长方形比正方形少()个。

gēn jù shí jiān huà chū shí zhēn hé fēn zhēn

八、根据时间，画出时针和分针。(6分)



12:00



1:30



11:30

zǒu jìn shēng huó

九、走进生活。(26分)

1. 二人一共有多少本新书?



我有28本新书。

我有36本新书。



2. 买完书后,还剩几元?



我有15元。



定价: 7元



3. 小明比爷爷小多少岁? (5 分)



小明

我今年13岁。

我今年72岁。



爷爷

4. 小红上午写了 20 个毛笔字, 下午写了 26 个毛笔字。

(1) 下午比上午多写几个毛笔字?

(2) 小红一天一共写了多少个毛笔字?

5. 买文具。



9元



1元



3元

全买应付多少钱?

