

市南区实验小学 2017-2018 学年度第二学期期末复习卷

学校： 班级： 姓名：

一、基础部分。

1、直接写得数。

$$\begin{array}{lllll} 89+1= & 73-2= & 6+37= & 81-4= & 54+5= \\ 38-6= & 63+24= & 22+8= & 50-4= & 27+72= \\ 78-8= & 96-80= & 78-8= & 84-80= & 5+35= \\ 85+3= & 42+50= & 35+6= & 40-2= & 51-9= \\ 26+20+4= & 89-8-9= & 24-2-20= & & \end{array}$$

2、算一算

$$52+17= \quad 47+26= \quad 72-43=$$

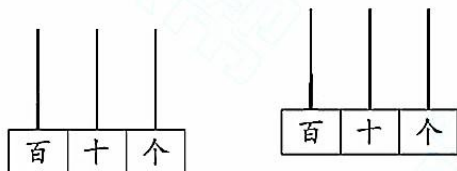
$$84-47+16=$$

$$91-26-59=$$

3、填一填。

(1) 65 里面有 () 个十和 () 个一。

(2) 画一画，填一填。



() ()

这个数，个位上是 3，
十位上的数字比个位
上的数字多 3。

这个数是最小的
三位数。

(3) 比 65 少 1 的数是 ()，

比 39 多 1 的数是 ()。

(4) 与 50 相邻的两个数是 () 和 ()。

(5) 1 元 = () 角 1 角 = () 分。

(6) 在括号里填上合适的长度单位。

大楼高 20 () 一条裤子长 1 ()

铅笔长 15 () 一支雪糕长 12 ()

(7) 比一比。(在“○”中填上“>”“=”“<”。)

$$70+17 \bigcirc 17+20$$

$$2 \text{ 元 } \bigcirc 1 \text{ 元 } 9 \text{ 角}$$

$$54-40 \bigcirc 54-4$$

$$8 \text{ 角 } \bigcirc 1 \text{ 元}$$

$$13+20 \bigcirc 30+12$$

$$4\text{m} \bigcirc 400\text{cm}$$

(8) 读出钟面上的时间



() 时半



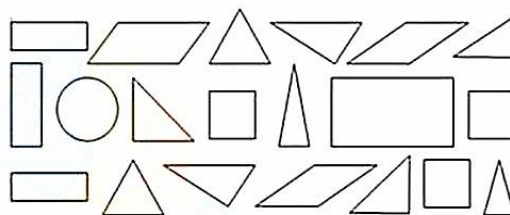
大约 () 时



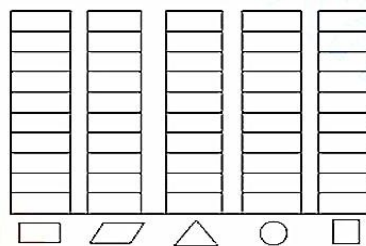
() 时

二、探索部分。

1、完成统计图和统计表，并回答问题。



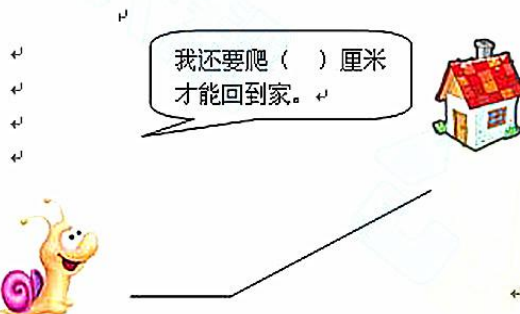
图形	长方形	平行四边形	三角形	圆	正方形
个数	() 个	() 个	() 个	() 个	() 个



(1) _____ 的个数最多，_____ 的个数最少。

(2) △ 比 □ 多 _____ 个。

2、量一量



3、

“庆六一” 班级为合唱比赛排列队形，
第一行站了 10 人，后面每一行比前一行多站

市南区实验小学 2017-2018 学年度第二学期期末复习卷

学校： 班级： 姓名：

2 人，共站了 4 行。这个班一共有多少人？

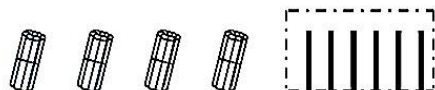
第一行	10 人
第二行	() 人
第三行	() 人
第四行	() 人

列算式：

一共 () 人

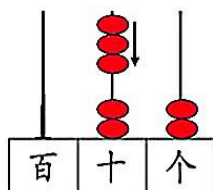
三、拓展应用。

1、



$$\square \bigcirc \square = \square \text{ (根)}$$

2、



$$\square \bigcirc \square = \square \text{ (个)}$$

3、小兔子吃萝卜

(1) 拔了 30 个 , 吃了 11 个,

还剩几个？

(2) 吃了 18 个 , 还剩下 26 个没

有吃, 一共有多少个 ?

4、一年级三个班去植树, 一班植了 14 棵树,

二班和三班依 (yi) 次多植 4 棵, 二班植了 () 棵, 三班植了 () 棵, 三个班一共植了多少棵树？

5、玩具世界



(1) 买玩具 和 共 () 元？

(2) 玩具 比 贵 () 元？

(3) 小花拿了 70 元钱买 和 还剩 () 钱？

(4) 50 元钱买 和 够吗？

(5) 你能提出什么数学问题？
问题：

列式：