

深州 小学一年级第二学期期末考试

数学试卷

题号	一	二	三	四	五	六	七	八	总分
得分									

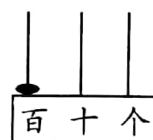
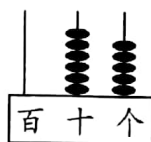

rèn zhēn sī kǎo qiǎo tián kòng

一、认真思考巧填空。(26分)

1..8,3,0,2,5,9 这几个数中,从左边数第4个数是()。

2.. 写出 41 前面的三个数(),(),()。

3.



读作: () 读作: () 读作: ()

写作: () 写作: () 写作: ()

4.. 十位上是 7,个位上是 3,这个数是()。

5..57 里面有 5 个()和 7 个()。

6.. 一个加数是 42,另一个加数是 4,和是()。

7.. 被减数是 85,减数是 50,差是()。

8. 5 角=()分

8 元=()角

6 角+4 角=()元

7 角-5 角=()角

9. 写出 3 个十位上是 5 的两位数:(),(),()。

写出 3 个十位数字和个位数字相同的两位数:(),(),()。

10.. 大于 28 小于 34 的数有()。

wǒ shì xiǎo fǎ guān

二、我是小法官。(对的在括号里打“√”,错的打“×”)(5分)

1.. 我们平时上下楼梯要靠右侧行走。()



2.. 一条毛巾的标价是 10.8 元,就是 1 元 8 角。 ()

3.. 和 69 相邻的两个数是 70,71。 ()

4.. 最大的两位数是 99。 ()

5..6 时刚过可以说是大约 6 时。 ()

àn guī lǚ jiē zhe xiě chū sān gè shù

三、按规律接着写出三个数。(9 分)

(1)1,3,5,7,9,(),(),()

(2)80,70,60,50,40,(),(),()

(3)23,33,43,53,63,(),(),()

zài lǐ tián shàng

huò

四、在 ○ 里填上 “>”、“<” 或 “=”。(9 分)

18 ○ 24

78 ○ 70

90 ○ 86

30+13 ○ 60

52-10 ○ 32

50+30 ○ 60

78-8 ○ 48+20

35+50 ○ 35+8

40-9 ○ 7+17

zài nǐ rèn wéi hé shì de dá àn xià miàn huà

五、在你认为合适的答案下面画“√”。(4 分)

一年级合唱队有 32 人。



美术组的人数比合唱队的人数少一些。

美术组可能有多少人?

8 人	28 人	42 人

科技组的人数比合唱队的人数少得多。



科技组可能有多少人?

8 人	28 人	42 人



kuài lái suàn yí suàn

六、快来算一算。(17分)

1. 口算下面各题。

$40+30=$

$70+7=$

$87-70=$

$97-5=$

$23+60=$

$46+4=$

$21-9=$

$37+8=$

$80-70=$

2. 用竖式计算。

$69-5=$


$84+9=$

$3+64=$

$72-8=$

lián yì lián zhǎopéngyǒu

七、连一连，找朋友。(4分)



快2时了

3时


5时刚过

6时半

shēnghuó zhōng de shùxué

八、生活中的数学。(26分)


1. 一共有多少个草莓?



$\square \bigcirc \square = \square (\text{个})$

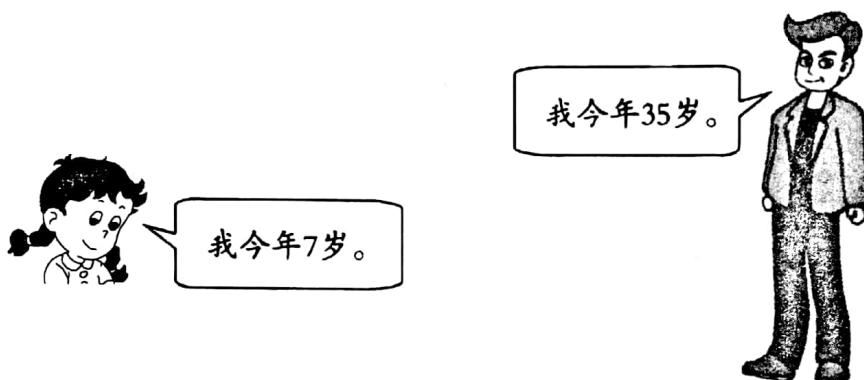


2.. 一年级 1 班共有多少名同学?



$$\square \bigcirc \square = \square (\text{名})$$

3.. 爸爸和丽丽相差多少岁?



$$\square \bigcirc \square = \square (\text{岁})$$


4.



台灯20元



计算器30元



收音机49元

(1) 一个计算器比一台收音机便宜多少元?

$$\square \bigcirc \square = \square (\text{元})$$

(2) 请你根据上图提出一个问题,并解答。

