

数学试卷

题号	一	二	三	四	五	六	七	总分
得分								


tiánkòng

一、填 空。(30 分)

- 67 读作(),九十二写作()。
- 由 7 个十和 8 个一组成的数是()。
- 10,20,(),40,(),()。
- 比 25 多 9 的数是(),30 比 46 少()。
- 读数时都要从最()位读起。
- 现在是 6 时,1 小时前是();现在是 11 时,1 小时后是()。
- 一件上衣 48 元,全用 10 元 1 张的人民币付款,至少要用()张 10 元的人民币。
- 68 是一个()位数,“6”在()位上,表示()个十;“8”在()位上,表示()个一。
- 与 30 相邻的两个数是()和()。58 后面第 3 个数是()。



从左往右数,在第 5 个水果下画“○”;从右往左数,在第

7 个水果下画“√”。的左边有()种水果,右边有()种水果;上面一共有()种水果。

- 如果 $15 - ☆ = 7$, $△ + ☆ = 20$,那么 $☆ = ()$, $△ = ()$ 。



12. 找规律:

① $\square\square\bigcirc\square\square\bigcirc\square\square\bigcirc\square$ () ()。

② 3、1、2、3、1、2、3、1、2、3、()、()。

13. 用 1、3、0,能组成()个两位数。



xiǎng yì xiǎng pàn yì pàn

二、想一想,判一判。(5分)

1. 个位是 3,十位是 7,这个数是 37。 ()
2. 用一张 50 元可以换成 2 张 20 元和 1 张 10 元。 ()
3. 四条边的图形都是长方形。 ()
4. 55 中的两个 5 表示的意义一样。 ()
5. 摆 2 个三角形最少用 5 根小棒。 ()

xuǎn yì xuǎn

三、选一选。(8分)

1. 一瓶娃哈哈饮料 2()。
A.分 B.角 C.元
2. 小熊摘了 12 个桃子,小猴说:“我比你多得多。”小猴可能摘了()个。
A.35 B.15 C.5
3. ()个相同的  可以拼成稍大的 。
A.4 B.8 C.2
4. 个位是 3,十位比它大 4,这个两位数是()。
A.34 B.43 C.73

suàn yí suàn

四、算一算。(24分)

1. 直接写出得数。(4分)

$98-6=$	$55+5=$	$8+72=$	$40-6=$
$78-6=$	$35-7=$	$43+50=$	$97-30=$

2. 在 \bigcirc 里填 $>$ 、 $<$ 或 $=$, 在 \square 里填数。(6分)

$40+3 \bigcirc 39-5$ $1 \text{ 角 } \bigcirc 9 \text{ 分}$ $90+\square < 95$



$46+5 \bigcirc 56$

$4 \text{ 元 } 5 \text{ 角 } \bigcirc 4.5 \text{ 元}$

$\square - 5 = 70$

3. 在括号里填上合适的数。(6分)

$3 \text{ 元 } 4 \text{ 角} = (\quad) \text{ 角}$

$6 \text{ 角} + 8 \text{ 角} = (\quad) \text{ 元 } (\quad) \text{ 角}$

$46 \text{ 角} = (\quad) \text{ 元 } (\quad) \text{ 角}$

$7 \text{ 元} + 5 \text{ 元} = (\quad) \text{ 元}$

4. 用竖式计算。(8分)

$83 - 46 =$

$55 + 29 =$

$78 - 7 =$

$34 + 61 =$

huà yí huà

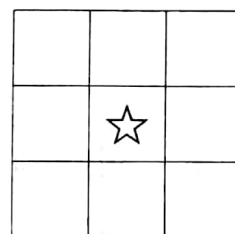
五、画一画。(9分)

1. 按要求在方格里画图。(6分)


(1) 在☆上面画□, 下面画△。

(2) 在□左边画○, 右边画□。


(3) 在○下面画♡, 在△右边画☾。




2. 请按时间画出时针和分针。(3分)



4 时




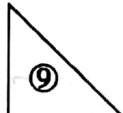
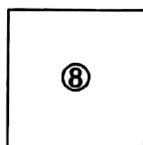
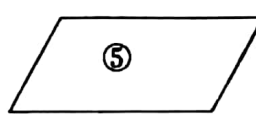
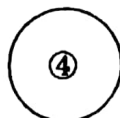
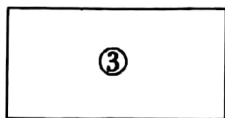
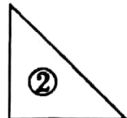
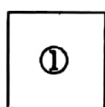
9 时半



12 时

bǎ gè zhǒng tú xíng de xù hào tián zài xiāng yīng de kuò hào lǐ

六、把各种图形的序号填在相应的括号里。(4分)



长方形()

正方形()

三角形()

圆()




jiě jué wèn tí

七、解决问题。(20分)


1. 小刚的电子琴上有 36 个白键, 20 个黑键。黑键比白键少多少个? (2分)

$$\square \bigcirc \square = \square (\text{个})$$

2. 原来有多少个萝卜? (2分)



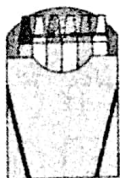
$$\square \bigcirc \square = \square (\text{个})$$

3.  限坐 45 人, 已经上了 32 人, 还有 11 人要上车, 车上的座位够不够。(4分)

4. 购物。(12分)



55元



12元



8元

- (1) 妈妈给小芳买了一个书包、一盒画片和一盒彩笔, 一共需要多少钱?

$$\square \bigcirc \square = \square (\text{元})$$

- (2) 小明带 20 元, 买一盒画片, 应找回多少元?

$$\square \bigcirc \square = \square (\text{元})$$

- (3) 如果要买两件物品, 最多要多少元? 最少要多少元?

$$\square \bigcirc \square = \square (\text{元})$$

$$\square \bigcirc \square = \square (\text{元})$$

- (4) 你还能提出什么问题? 并解答。

