

张家口 小学一年级第二学期期末考试

# 数学试卷

题号	一	二	三	四	五	六	七	总分
得分								

jì suàn wǒ néng xíng

## 一、计算我能行！(34分)

### 1. 直接写出得数。(22分)

$9+17=$	$30+60=$	$41+20=$	$78-40=$
$65-7=$	$4+44=$	$70-9=$	$55+8=$
$13+30=$	$90-60=$	$73+7=$	$88-80=$
$4+28=$	$46-9=$	$76+6=$	$51-5=$
$7+8+5=$	$14-7+5=$		$30-20-9=$
$80-50-8=$	$14+6+10=$		$50-20+6=$

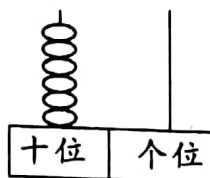
### 2. 用竖式计算。(12分)

$46+8=$	$64-6=$	$50-3=$	$7+59=$
---------	---------	---------	---------

zǐ xì tián yì tián

## 二、仔细填一填。(24分,其中2(6)小题2分)

### 1. 看图写数。



( )



一共 ( ) 元

2. (1) 7个一和8个十组成的数是( )。

(2) 十位上是9,个位上是7的数是( )。



(3)与 89 相邻的数是( )和( )。

(4)63 里边有( )个十和( )个一。

(5)请你按规律写数:

( )、34、36、38、( )、( )。

(6)比一比,再把这些数用“>”符号排列起来。

47      31      79      92      17      50

( )>( )>( )>( )>( )>( )

3.



12 元



1 元 5 角

两种文具一共( )元( )角

4. 括号里最大能填几?

50-( )>40

80+( )<85

5. 在○里填上“>”“<”或“=”。

62+8○70

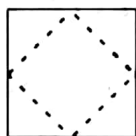
85-9○80

50+30○20+40

70-7○58+7

3 元○200 分

6. 把右边这个图形沿虚线剪开,能得到( )  
个三角形和( )个正方形。



xì xīn xuǎn yì xuǎn tián xù hào duō jiǎn dān

### 三、细心选一选。填序号多简单!(5分)

1. 从 54 开始一个一个地数,数到 64 一共是( )个数。

①9

②10

③11

2. 一个足球的价钱比亮亮带的钱多一些。足球的价钱可能是( )。

①45 元

②50 元

③58 元



3. 灰太狼最不喜欢从他的右面给他拍的那张照片了。请你把这张照片挑选出来。( )。





4. 一张 100 元的人民币可以换( )张 20 元的。

①2

②5

③10

5.  $90-50=40$  这个算式中, 50 是( )。

①差

②被减数

③减数


dòng shǒu huà tú xíng

#### 四、动手画图形。(6分, 1题2分, 2题4分)

1. 请你给下面的这串圆珠涂上颜色, 要有规律哦!





2. 请你在方格图中画出一个长方形和一个三角形。



shǔ yì shǔ bìng yòng zì jǐ xǐ huān de fāng shì wán chéng tǒng jì tú

#### 五、数一数, 并用自己喜欢的方式完成统计图。(8分)



长方形

--	--	--	--	--	--	--	--

正方形

--	--	--	--	--	--	--	--

三角形

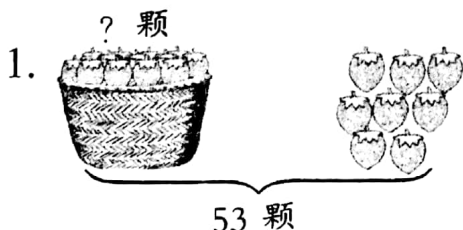
--	--	--	--	--	--	--	--

圆


--	--	--	--	--	--	--	--

kàn tú liè shì jì suàn

#### 六、看图列式计算。(6分)



$$\square \bigcirc \square = \square \text{ (颗)}$$



$$\square \bigcirc \square = \square \text{ (条)}$$



# 七、生活问题我能行！(17分)

1. 小明和小红比赛跳绳。小明跳了多少个？

哈哈，我比你多跳了9个。



我跳了32个。

$$\square \bigcirc \square = \square (\text{个})$$

2. 给你50元钱买下面的物品。



玩具汽车 23 元



篮球 20 元



魔方 5 元



悠悠球 10 元

(1) 一辆玩具汽车比一个篮球贵多少元？

$$\square \bigcirc \square = \square (\text{元})$$

(2) 从上边选择三件你喜欢的物品圈出来，算一算一共多少元？50元够买下来吗？

$$\square \bigcirc \square \bigcirc \square = \square (\text{元})$$

(3) 请你根据图中的信息提出一个数学问题，并解答。

我提出的问题：\_\_\_\_\_

解答：\_\_\_\_\_

3. 要放假了，小红、小刚和小丽打算做一些小灯笼去儿童福利院看望那里的小朋友。小红做了12个，小刚做了8个，小丽再做10个就够了。你知道他们准备做多少个小灯笼吗？

$$\square \bigcirc \square \bigcirc \square = \square (\text{个})$$

