

# 数学试卷

题号	一	二	三	四	五	六	总分
得分							

一、我会填。(25分)

1. 和 85 相邻的两个数是( )和( )。
2. 看图写数。



( )



( )

3. 1 元=( )角      80 分=( )角      20 角=( )元
4. 在○里填上“>”“<”或“=”。

8 元 9 角 ○ 87 角

$63-8 \bigcirc 55$

$46+4 \bigcirc 51$

$8+37 \bigcirc 48$

50 角 ○ 5 元

$73-9 \bigcirc 62$

5. 按规律接着往下填。

5, 10, 15, ( ), ( ), ( )。

1, 5, 9, (     ), 17, (     ), (     )。

30, 32, 34, (     ), (     ), 40。

- ## 6. 比多少。

(1)  $\triangle \triangle \triangle \triangle \triangle$

(2) ☆☆☆☆☆☆☆☆☆

○ ○ ○ ○ ○ ○ ○ ○

△比□少( )个,

☆比○多( )个,

□比△多( )个。

○比☆少( )个。



lián yì lián

二、连一连。(4分)



5:30

快6时了

## 6 时刚过

7 时

jì suàn

### 三、计算。(15分)

1. 直接写出得数。(6分)

$30+20=$

$17+12=$

$60-50=$

$27-5=$

$42+10=$

$39-8=$

$54-9=$

$70-5=$

$26+30=$

$32+40=$

$77+3=$

$50-50=$

2. 竖式计算。(9分)

$46+37=$

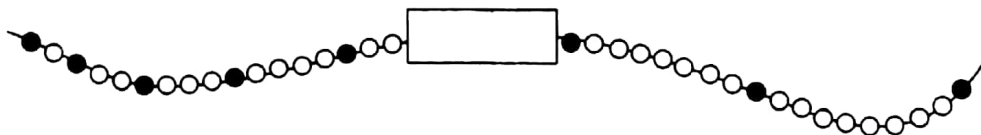
$55+38=$

$92-69=$

dòng shǒu cāo zuò

#### 四、动手操作。(25分)

1. (5 分)



画出图中被挡住的珠子,其中白色的有( )个,黑色的有( )个。

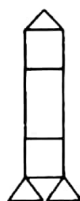
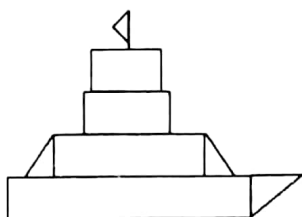
2. 涂色。(7分)





蓝色

黄色



3. 按规律接着往下画。(6分)

(1)

(2)  $\triangle$   $\star$   $\star$   $\bigcirc$   $\triangle$   $\star$   $\star$   $\bigcirc$   $\triangle$   $\star$

(3)

4. 森林里的赛车。(7分)



(1) 上图中, 1 号车是第( )名, 第一名是( )号车。

(2) 3 号车的前面一辆车是( )号车, 后面是( )号车。

(3) 5 号车后面有( )辆车, 它在( )号车的后面, 是第( )名。

àn yāo qiú tián shù

五、按要求填数。(8分)

1. 找规律, 在空白处填上合适的数。(2分)

38	32
70	

45	25
70	

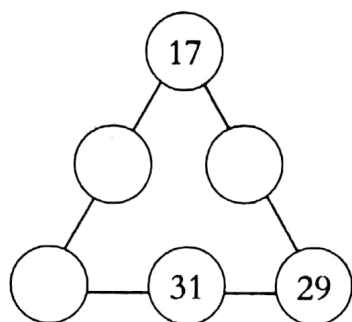
34	36
70	

17	
70	

2. 在  $\bigcirc$  里填上合适的数, 使每条边上的三个数相加都等于 85。

(6分)





jiě jué wèn tí

## 六、解决问题。(23 分)

1. (8 分)



还可以怎样付钱?

5.80元

2 张	1 张	0 张	0 张	8 枚	=5.80 元
( ) 张	( ) 张	( ) 张	( ) 张	( ) 张	=5.80 元
( ) 张	( ) 张	( ) 张	( ) 张	( ) 张	=5.80 元

2. 在和平小学的运动会上,获得前三名的班级成绩如下表:

六(1)班	五(2)班	五(3)班
58 分	40 分	

(1)六(1)班比五(2)班多了多少分?(5 分)

(2)五(3)班比五(2)班低 8 分,五(3)班得了多少分?(5 分)

(3)你还能提出哪些问题?并解答。(5 分)

