



创新培优·期末测试卷三




(时间:60 分钟 满分:100 分)

题 号	一	二	三	四	总 分
得 分					

tián kòng tí

一、填 空 题。(每空 1 分,共 13 分)




1. 看一看,填一填。

这个货架一共有()层,最上面一层从左到右依次是()、()、(),最下面一层从右边数第二个是(),钟表的下面是(),()在足球的上面。

2. 数一数,填一填。

(1)右图中,有()个长方形,有()个正方形,有()个三角形,有()个圆。

(2)()的个数最多,圆的个数比正方形多()个。



jì suàn tí

二、计 算 题。(43 分)

1. 单位换算。(7 分)

$$5 \text{ 角} + 4 \text{ 角} = () \text{ 角}$$

$$4 \text{ 分} + 3 \text{ 分} = () \text{ 分}$$

$$6 \text{ 元} 7 \text{ 角} - 7 \text{ 角} = () \text{ 元}$$

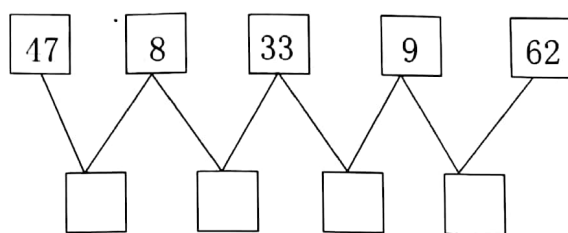
$$5 \text{ 元} + 2 \text{ 元} = () \text{ 元}$$

$$1 \text{ 元} - 6 \text{ 角} = () \text{ 角}$$

$$4 \text{ 元} 3 \text{ 角} + 5 \text{ 角} = () \text{ 元} () \text{ 角}$$



2. 填一填。(4 分)



3. 列竖式计算。(12 分)

$32 + 47 =$

$73 + 14 =$

$46 - 39 =$

$33 + 65 =$

$41 + 44 =$

$24 - 15 =$

4. 算出每张卡片上的两个数的和,再算出它们的差。(10 分)

$$\begin{array}{|c|} \hline 58 \\ \hline 29 \\ \hline \end{array}$$

$$\begin{array}{|c|} \hline 47 \\ \hline 38 \\ \hline \end{array}$$

$$\begin{array}{|c|} \hline 55 \\ \hline 36 \\ \hline \end{array}$$

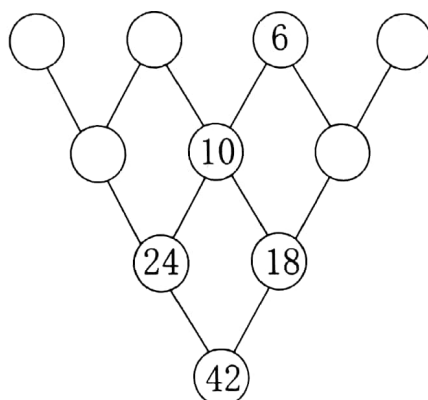
$$\begin{array}{|c|} \hline 29 \\ \hline 18 \\ \hline \end{array}$$

$$\begin{array}{|c|} \hline 63 \\ \hline 28 \\ \hline \end{array}$$

和:() () () () ()

差:() () () () ()

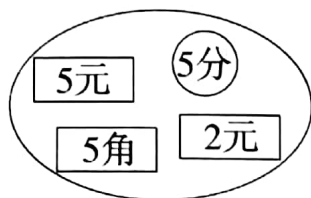
5. 请你根据图中的规律填出○里的数。(10 分)



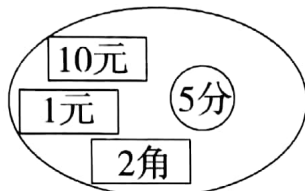
àn yāo qiú zuò tí

三、按要求做题。(15分)

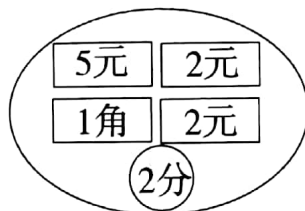
1. 比一比,哪个储存罐里的钱最多,在它下面的括号里面画“√”,哪个储存罐里的钱最少,在它下面的括号里面画“○”。(6分)



()



()



()

2. 根据要求摆一摆,画下来。(9分)

(1)用3根小棒摆一个三角形。

(2)用9根小棒摆一个三角形。

(3)用几根小棒摆一个其他的图形。

jiě jué wèn tí

四、解决问题。(29分)

1. 苹果45个,菠萝37个,梨56个。(8分)

(1)苹果和菠萝一共有多少个?

(2)梨卖掉多少个就和菠萝同样多。



2. 二(1)班有男生 19 人,女生 23 人,有 16 人报名参加运动会,没有报名的有多少人?(6 分)

3. 草原上,一只小黑羊排在小白羊的整齐队伍里,从前面数小黑羊是第 13 只,从后面数小黑羊是第 24 只。这队小羊一共有多少只?(6 分)

4. 快乐购物。(9 分)



23元



45元



18元



30元



37元

(1)我买最便宜的两样东西,带 40 元钱够吗?

(2)我买最贵的两样东西需要多少钱? 付给售货员 100 元钱,应找回多少钱?

(3)你还能提出什么问题? 并解答。

