

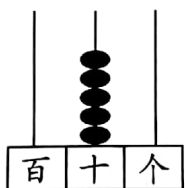
数学试卷

题号	一	二	三	四	五	六	七	总分
得分								

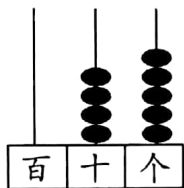
tiánkòng

一、填空。(每空 1 分,共 20 分)

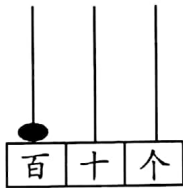
1. 看图写数。



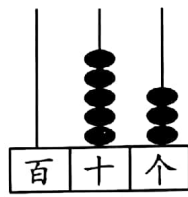
写作 ()



写作 ()



写作 ()



写作 ()

2. 60 里面有 () 个十; 10 个十是 ()。

3. 78 里面有 () 个十和 () 个一; 5 个十和 6 个一组成的数是 ()。

4. 个位上是 8, 十位上是 6, 这个数是 (), 读作 ()。

5. 一个两位数, 十位数字比 8 大, 个位数字比 1 小, 这个两位数是 ()。

6. 写出下面各数。

五十七 ()

六十九 ()

九十八 ()

八十一 ()

7. 10 元 能换 () 张 1 元。1 张 1 元 能换 () 张 1 角。

8. 1 张 50 元 能换 () 张 20 元 和 () 张 10 元。

ànyāoqiúzuò yí zuò

二、按要求做一做。(15 分)

1. 找规律填一填, 画一画。(每小题 2 分, 共 6 分)

(1) 80、70、()、50、40、();

(2) 100、95、()、85、80、75、();



(3) $\diamond \star \bigcirc \triangle \diamond \star \bigcirc \triangle \diamond \star$ () ()。

2. 在 \bigcirc 里填上 $>$ 、 $<$ 或 $=$ 。(每空 1 分,共 5 分)

$89 \bigcirc 91$

$37+56 \bigcirc 56+29$

$27+6 \bigcirc 26+7$

$38+49 \bigcirc 96-19$

$9 \text{ 元 } 8 \text{ 角 } \bigcirc 10 \text{ 元}$

3. 选一选,并在你认为合适的答案下面打“ \checkmark ”。(每小题 2 分,共 4 分)

(1) 梨有 40 个,苹果的个数比梨少一些。

苹果可能有多少个?

28 个	36 个	49 个


























(2) 小明有 36 张画片,小红比他多得多。


小红可能有多少张画片?


40	45	64


rèn zhēn guān chá xì xīn tián huà yí huà


三、认真观察,细心填,画一画。(每空 2 分,共 8 分)

 的右面是 () ;

 的上面是 () ;

 的左面是 () ;


 的下面是 () 。

wǒ huì rèn zhōng biǎo

四、我会认钟表。(8 分)

1. 写出钟面上的时间。(4 分)







() 时



() 时



() 时半



() 时半

2. 认一认,连一连。(4分)



12时刚过


快9时了

7:30

4时30分

shǔ tú xíng

五、数图形。(8分)



长方形 () 个

正方形 () 个

圆 形 () 个

三角形 () 个

xì xīn jì suàn kànshuísuàn de yòuduiyòukuài

六、细心计算,看谁算得又对又快。(1、2题每个算式1分,3题每个算式3分,共26分)

1. 口算写出得数。(12分)

$7+8=$

$13-7=$

$9+8=$

$34+5=$

$79-30=$

$46-6=$

$80-60=$

$36+8=$

$57-8=$

$50-3=$

$44+10=$

$86-50=$

2. 直接计算出得数。(8分)

$34+23=$

$67-42=$

$64+26=$

$57-19=$



$37+45=$

$58+26=$

$80-54=$

$100-38=$

3. 用竖式计算。(6分)

$25+49=$

$72-27=$



jiě jué wèn tí

七、解决问题。(1题3分,2、3题各6分。共15分)

1. 小明的爷爷62岁,小明的爸爸34岁,爷爷比爸爸大多少岁?

$\square \bigcirc \square = \square (\quad)$




(1)  和  一共有多少只?

$\square \bigcirc \square = \square (\quad)$

(2)  比  多多少只?

$\square \bigcirc \square = \square (\quad)$



(1) 买 , 付了50元, 应找回多少元?

$\square \bigcirc \square = \square (\quad)$

(2) 买  和  一共需要多少元?

$\square \bigcirc \square = \square (\quad)$

