



基础巩固·期末测试卷一



(时间:60 分钟 满分:100 分)

题 号	一	二	三	四	五	六	七	总 分
得 分								

密

tián kòng tí

一、填空题。(第 5 小题 4 分,其余每空 1 分,共 20 分)

1. 一个数的个位上是 6,十位上的数是 3,这个数是(),读作()。

2. 79 的相邻数是()和()。

3. 填上“元”“角”或“分”。

一件上衣 50(),一瓶可乐 3(),一支圆珠笔 2()5()。

4. 7 元=()角

80 分=()角

5. 把下列各数按从小到大的顺序排列起来。

19 92 45 60 39 33 41 73

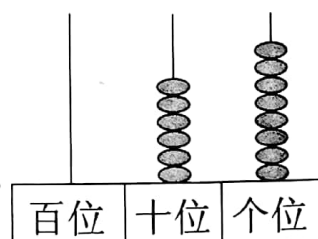
6. ○○○○○○○●○○

(1)从左数,●是第()个。

(2)从右数给第 7 个涂成黑色。

7. ()个十和()个一,合起来是(),

读作()



pàn duàn tí

二、判断题。(10 分)

1. 66 中的两个 6 表示的意义相同。 ()

2. 四十三写作 403。 ()

3. 15.00 元比 15 元多。 ()



封

线

4. 长方形和正方形都是四边形。 ()
5. 小英在小明的左边,小云在小英的右边,那么,小云一定站在小明的左边。 ()

xiǎn zé tí

三、选择题。(10分)


1. 二十几加三十几,和是()。
- A. 五十几 B. 六十几 C. 不确定
2. 教室的门是()。
- A. 长方形 B. 正方形 C. 三角形
3. 一个数比 58 大 12,这个数是()。
- A. 46 B. 70 C. 60
4. 小明有 62 元,买一本《故事书》后还剩 27 元,一本《故事书》多少元? 正确的列式是()。
- A. $62+27=89$ (元) B. $62-27=35$ (元) C. $62-27=55$ (元)

5.  钓了 29 条 , 比  多钓了 13 条 ,  钓了 () 条 .

- A. 42 B. 16 C. 32

lián yì lián


四、连一连。(6分)



3时刚过




大约9时



5时

8时刚过



大约6时

1时



xiě chū xià miàn zhōng miàn biǎo shì de shí kè

五、写出下面钟面表示的时刻。(6分)













六、计算题。(20分)

1. 直接写出得数。(8分)

$72+8=$

$63-5=$

$78-8=$

$35-7=$

$67-20=$

$47+6=$

$23-6=$

$19+5=$

2. 竖式计算。(12分)

$47+23=$

$83-6=$

$79+5=$

$56-38=$

$52+16=$

$75-9=$

$62-43=$

$92-26=$

jiě jué wèn tí

七、解决问题。(28分)

1. 丽丽给了小军 38 块糖后,还有 5 块。(6分)

她原有多少块糖?



2. 还剩多少个松果?(6分)

一共47个,我已经吃了5个。



3. 生活中的时间。(6 分)

建合影院


营业时间:上午 9:00~晚上 8:00


《海洋奇缘》的放映时间:晚上 7:00

(1)你能读懂这些牌子所表达的意思吗?

(2)在生活中,你还能找到像这样表示时间的例子吗?

4. 购物。(10 分)



(1)小华买了一个后,还剩 55 元,他原来有多少元钱?

(2)小丽有 55 元,买了一个后,还剩多少元钱?

