



基础巩固·期末测试卷三



(时间:60 分钟 满分:100 分)

题 号	一	二	三	四	五	六	七	总 分
得 分								

tián kòng tí

一、填空题。(每空 1 分,共 16 分)

- 78 里面有()个十和()个一;9 个十是()。
- 一枚 1 元硬币可以换()枚 1 角硬币;一张 100 元人民币可以换()张 50 元人民币。
- 与最小的两位数相邻的数是()和()。
- 一个数个位上是 5,十位上是 3,这个数写作(),读作()。
- 减数是 20,差是 27,被减数是()。
- 73 比 97 少();25 比 20 多()。
- 小海今年 7 岁,妈妈今年 32 岁,小海比妈妈小()岁;10 年后,小海比妈妈小()岁。
- 王老师家住在一幢大楼里,他的楼上有 5 层,楼下有 6 层,王老师住在第()层,这幢大楼一共有()层。

sēn lín yī shēng

二、森林医生。(6 分)

1. 改:

$$\begin{array}{r} 45 \\ +31 \\ \hline 11 \end{array}$$

()

2. 改:

$$\begin{array}{r} 27 \\ +56 \\ \hline 82 \end{array}$$

()

xuǎn zé tí

三、选择题。(每小题 2 分,共 12 分)

- 下面各组数据中,由小到大排列的是()。
 A. 99、98、97、96、95
 B. 27、34、45、39、68、52
 C. 31、32、33、34、35、36



2. 十位上的数是6,个位上的数是3的数是()。

A. 36

B. 63

C. 9

3. 小明用1元钱买了一支8角钱的铅笔,应找回()。

A. 18角

B. 8元

C. 2角

4. 1元6角=()角。

A. 16

B. 6

C. 10

5. 与35相邻的两个数的和是()。

A. 69

B. 71

C. 70

6. 89前面的第一个数与第三个数的差是()。

A. 2

B. 1

C. 3

yòng liǎng zhǒng fāng fǎ biǎo shì zhōng miàn shàng de shí jiān

四、用两种方法表示钟面上的时间。(12分)













àn yāo qiú bǎ suàn shì tián zài xiāng yìng de quān lǐ

五、按要求把算式填在相应的圈里。(8分)

$37+20$

$4+44$

$74-10$

$32+20$


$81-30$

$11+50$


$96-20$

$47+20$

得数是五十多的算式








得数是六十多的算式



shǔ yì shǔ tián yì tián

六、数一数，填一填。(12分)

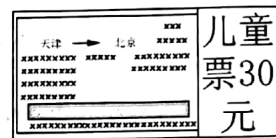
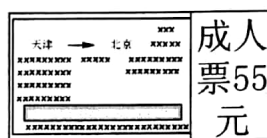


	()个		()个
	()个		()个

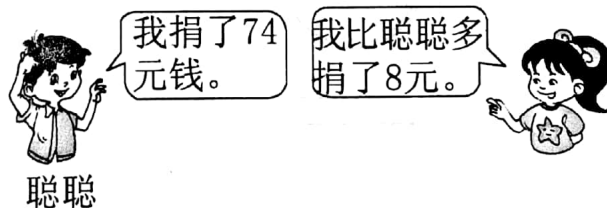
jiě jué wèn tí

七、解决问题。(34分)

1. 买一张成人票和一张儿童票需多少元?(6分)



2. 丫丫捐了多少钱?(6分)




3. 拔萝卜。(6分)





一共有 35 个萝卜,已经拔了 9 个,还剩多少个?



4. 现在一共有多少人在雪地里做游戏？（6 分）



5. 种花。（10 分）

			
46 棵	16 棵	25 棵	30 棵

(1)  和  一共多少棵？

(2)  和  一共多少棵？

(3) 你还能提出什么问题？你会解答吗？

