



基础巩固·期末测试卷五



(时间:60 分钟 满分:100 分)

题 号	一	二	三	四	五	六	七	总 分
得 分								

tián kòng tí

一、填空题。(第7题6分,其余每空1分,共15分)

- 2个十加上2个一是()。
- 83是由()个十和()个一组成的。
- 用竖式计算 $99-15$ 的结果是(),再用 $88-77$ 的结果是()。
- 两位数加两位数,差可能是()位数,也可能是()位数。
- 一个加数是33,另一个加数是32,和是()。
- 比51少19的数是()。
- 找规律。
 - 1、3、()、7、9、()、()、()、()。
 - 20、18、16、14、()、10、()、()、()、()。
 - 60、55、50、()、40、()、()、()、()。

二、选择题。(每小题2分,共10分)

- 比69多13的数是()。
A. 72 B. 82 C. 81
- 比70大比80小的整数有()个。
A. 11 B. 9 C. 10
- 小芳的前面有35人,后面有55人,这一列共()人。
A. 90 B. 91 C. 89
- 最大的一位数与最小的两位数的和是()。
A. 10 B. 9 C. 19



5. $57-28$ 的差是()。

A. 29

B. 39

C. 79

gěi xià miàn de shù fēn lèi

三、给下面的数分类。(6分)

八十四

九十三

四十四

五十六

六十七

七十八

八十

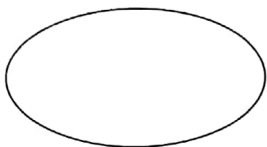
十五

三十九

一百

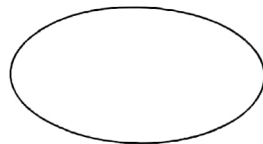
六十一

二十六



单数

suàn yì suàn lián yì lián



双数

四、算一算，连一连。(10分)

$$16+27$$

$$62-19$$

$$44+41$$

$$98-13$$

$$90-5$$



$$36+49$$

$$91-72$$

$$30-11$$

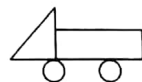
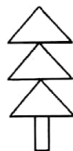

$$90-47$$

$$19+24$$

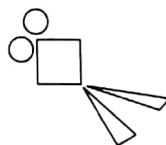
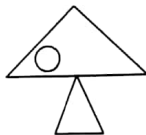
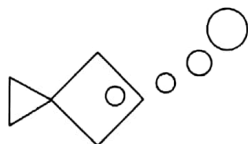
tú yì tú

五、涂一涂。(8分)

1. 给下面各图中的三角形涂上自己喜欢的颜色。



2. 给下面各图中的圆涂上自己喜欢的颜色。



jì suàn tí

六、计算题。(26分)

1. 直接写出得数。(12分)

$15+11=$

$49-25=$

$21+7=$

$49-5=$

$64+7=$

$50+40=$

$33+22=$

$100-55=$

$48+1=$

$62-0=$

$80-10=$

$88-8=$

2. 用竖式计算。

$52+9=$

$92-5=$

$37+41=$

$40-16=$

3. 列式计算。

(1) 被减数是 71, 减数是 28, 差是多少?

(2) 54 比 8 多多少?

jiě jué wèn tí

七、解决问题。(25分)

1. 一个笔记本 4 元。(5分)



小明

我买了一个笔记本,
售货员找了我16元。

小明付给售货
员多少元?



2. 捐铅笔。(6分)



明明

我捐了39
支铅笔。

我比你多
捐了6支。



红红

(1) 红红捐了多少支铅笔?



(2)明明和红红一共捐了多少支铅笔?

3. (5 分)



车上原有26人,到站又上来18人,现在车上有多少人?



4. 购物。(9 分)



2元△



7元△



8元△

(1)小明有 35 元,买一只玩具熊猫,还剩多少钱?

(2)吴涵有 24 元,买一只玩具狗和一只玩具马够吗? 还剩多少钱?

(3)小红有 20 元,这三种玩具都想买,她带的钱够吗?

